

7 ТОЧЕК



7 ПАЛЬЦЕВ

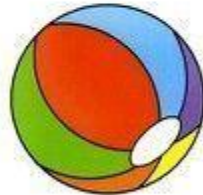

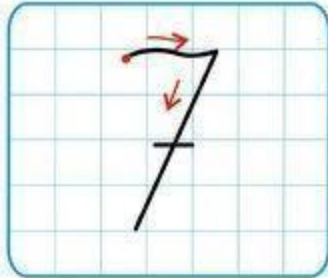


СЕМЬ

семь





7




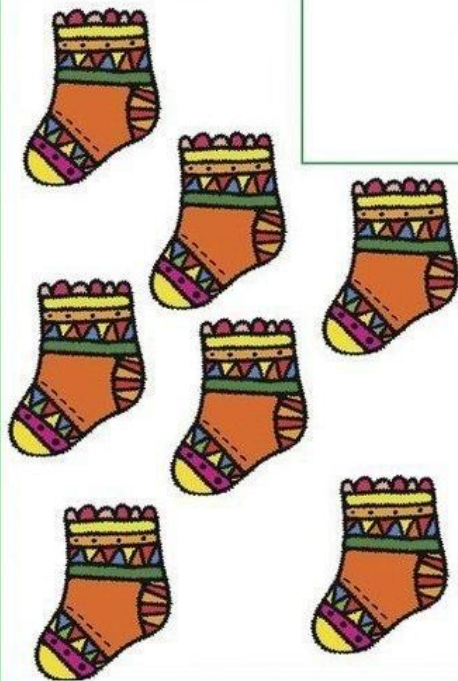
7


7 на небо посмотрела:
– Я бы к солнцу улетела.
Ничего я не боюсь –
С бумерангом прокачусь!








7





Покажи паровозик, у которого семь вагонов.



СЕМЕРКА



ПОЧТОВАЯ



VII

РИМСКАЯ



КОСА

МЕСЯЦ —
ИЮЛЬ
ДЕНЬ НЕДЕЛИ —
ВОСКРЕСЕНЬЕ



СЕМЬ
ЧАСОВ



Семеро одного
не ждут.




Сайт Пазл-Карапуз
www.puzkarapuz.ru


Семь раз примерь,
один раз отрежь.

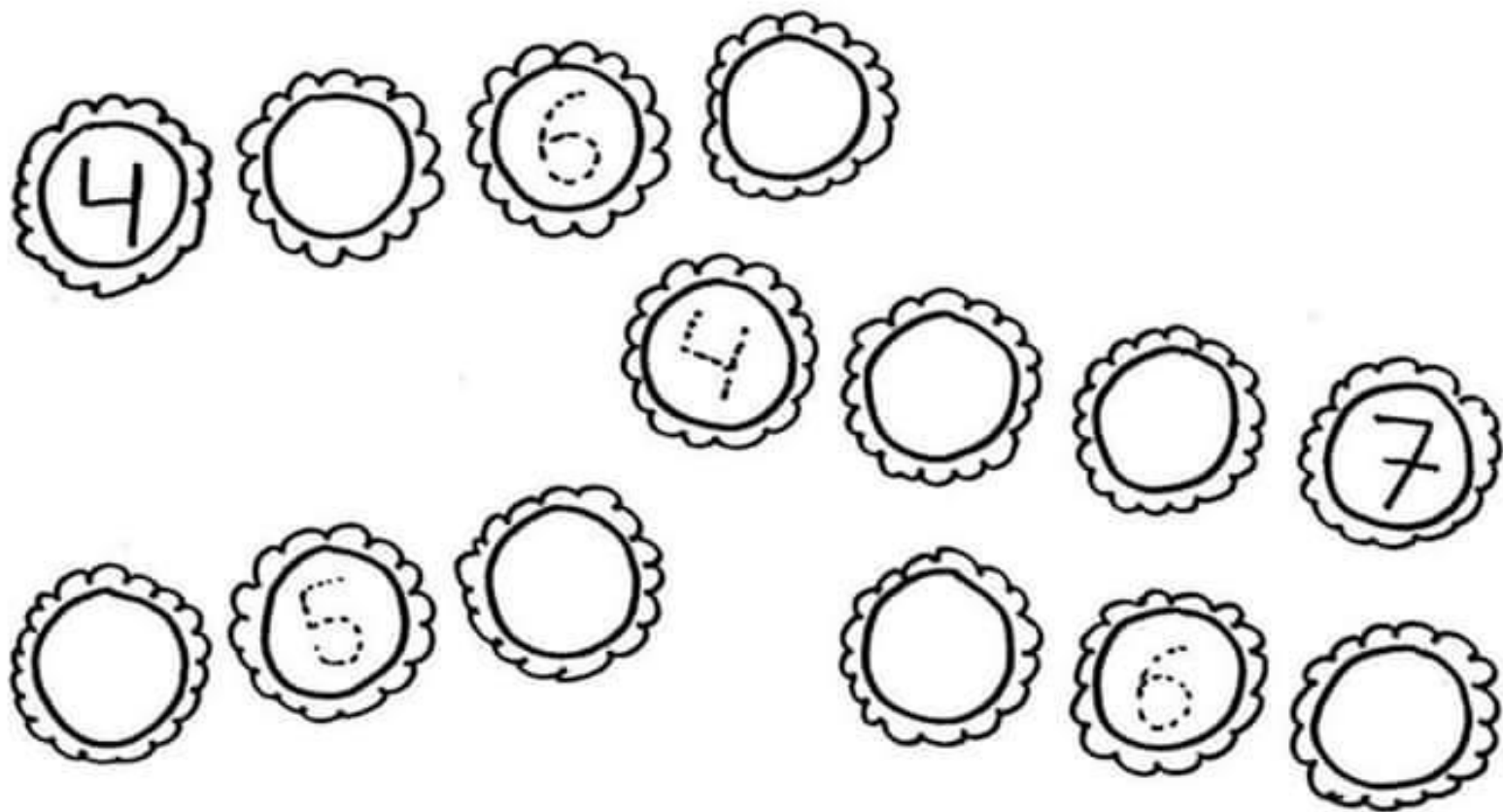


Семи нянек — дитя без глаза.



7 7 7





4 5 6 7



Семь

Семицветный мостик свой
Кто раскинул над рекой?
Это радуга-дуга
Засверкала в облаках.

Ее краски Цифра 7
Подарила щедро всем,
Чтобы люди не грустили,
Чтобы красоту ценили.

Вопросы

- Где встречается цифра 7? (ноты, радуга, дни недели)
- Перечисли все цвета радуги. Какой твой самый любимый?
- Нарисуй радугу и подпиши каждый цвет днем недели (или пусть мама подпишет). Придумай, что интересного ты будешь делать каждый день.

0

1

2

3

4

5

6

7

8

9

8

7

6

5

4

3

2

1

0

- Выучи стихотворение. Найди в числовом ряду слева цифры 7.



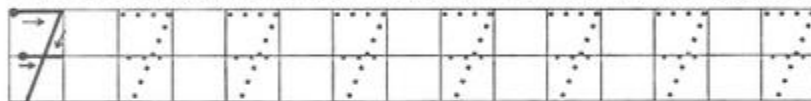
Цифра **СЕМЬ** —
Подъёмный кран:
«Снизу вверх
Вам всё подам».



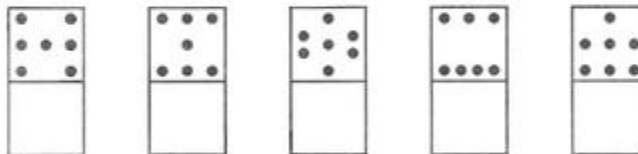
- Раскрась цифру.

- Раскрась семь колец на пирамидке.


- Напиши цифру по точкам. Какие цифры получились красиво?



- Нарисуй точки в нижних квадратах так же, как это сделано в верхних.



- Раскрась семь конфет синим цветом, а остальные — зелёным.



- Найди и раскрась цифру 7.

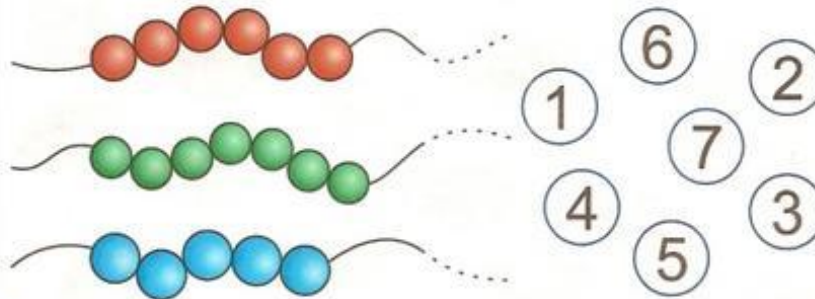


Занятие №4


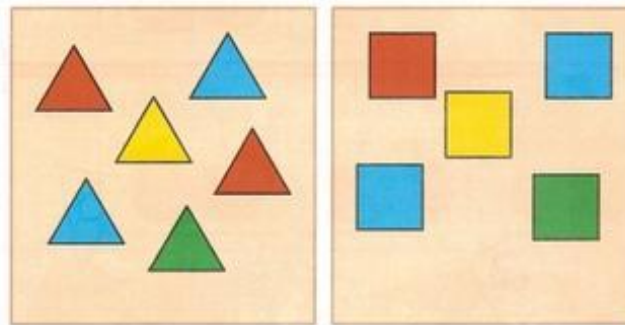
4.1. Обведи и напиши по образцу цифру 7.




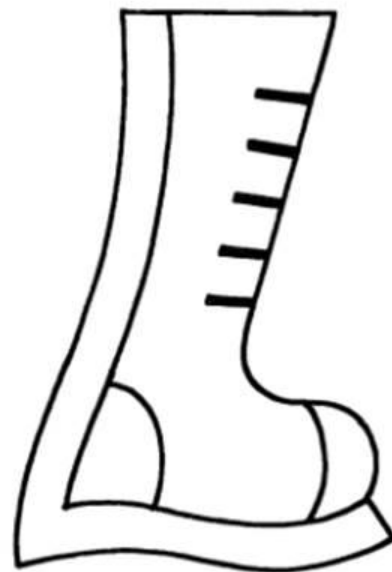
4.2. Сосчитай, сколько бусинок на каждой нитке, и соедини с подходящей цифрой. Обведи нитку, где бусинок больше.



4.3. В каждом ящике должно быть по семь фигур, но они рассыпались. Помоги волку навести порядок. Соедини недостающие фигуры с подходящими ящиками. Сосчитай, сколько осталось несобранных фигур, и впиши в кружок нужную цифру.







Can you find seven of the Number 7 hidden in this scene?

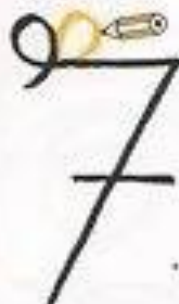


What are some other things that appear **seven** times in this scene?

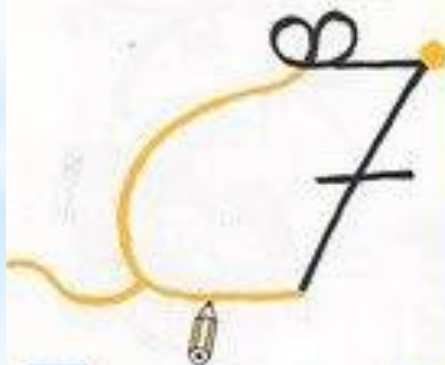
1



2



3



ES UN
RATÓN




un cruzado



un ciervo

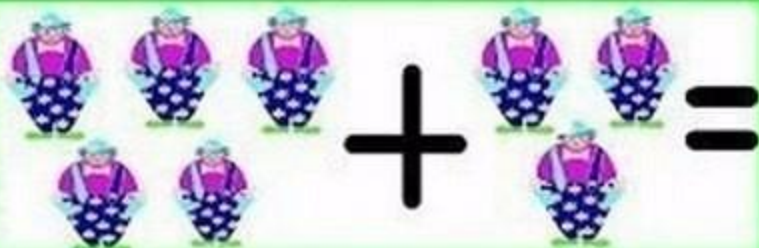

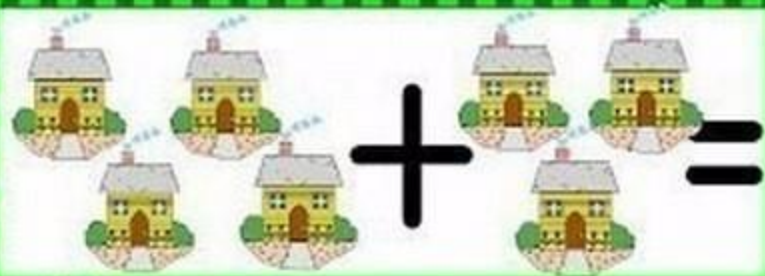
Empaña Max





7

Handwriting practice lines consisting of ten sets of horizontal lines with a curved midline for tracing.


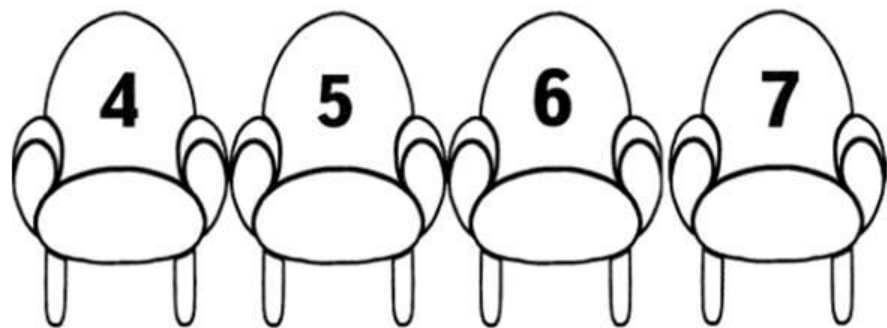




Дети в
фокусе



* Малыши купили билеты в кино, но не знают, кому куда сесть. Посади зайчонка на место номер 6, белочку — на место номер 5, а ёжика — на место номер 7. Проведи линии от каждого малыша к его месту. Раскрась рисунки.



AD :
SOYAD :


SAYILAR ÇALIŞMA SAYFALARI

www.ckuloncesihersey.net




7

İçerisinde 7 dan yaprağı boya,
çıkan şekli sana yeni
anımsatıyor...




* Цифры заблудились. Найди каждой цифре её место. Приведи цифры линиями на правильные клеточки по порядку от 1 до 8, начиная слева.

--	--	--	--	--	--	--	--



СЕМЬ

$$\square + \square + \square + \square + \square + \square + \square = \square \square \square \square \square \square \square$$
$$1+1+1+1+1+1+1=7$$
$$7=\square+\square+\square+\square+\square+\square+\square$$



$$7-1=6$$

$$7-0=7$$

$$0-7=0$$

$$6+\square=7$$

$$7\square 2=5$$

$$7=\square+5$$

$$4+\square=7$$

$$\square=3+4$$

$$\square-4=3$$

$$7=1\square 6$$

$$1+\square=7$$

$$7-\square=0$$

Подсчитай:
сколько всего
гномов идут
добывать
драгоценные
камни? А теперь
узнай: сколько
гномов будут
копать, а сколько
складывать в
мешки?



7

Солнце жарко припекает,
Цапля крылья расправляет.
А расправит их совсем,
Превратится в цифру семь!

Н. Владимирова



Раскрась чашки красным карандашом, а блюда — жёлтым. Сколько на картинке чашек? (7.)
Сколько блюдец? (6.) Чего больше и на сколько?



Рассмотри картинки и скажи, что у нас по семь?



Число семь записывают цифрой 7.



Что за птицы пролетают
По семерке в каждой
стае?
Вереницею летят,
Не воротятся назад?

(Дни недели)

Реши задачу и докрась картинку.
Семь воробышек сели на грядки
И чего-то клюют без оглядки.
Кот-хитрюга внезапно подкрался,
Вмиг схватил одного и умчался.
Да, опасно клевать без оглядки.
Сколько птичек осталось на грядке?



$$7 - 1 = 6$$

В первом ряду раскрашено пять клеточек, во втором — две, а вместе их





На столе лежали орехи.
 Два мышонка стоят
 и думают: «Если мы
 возьмем по три ореха,
 то один останется лишним,
 а если по четыре —
 одного не хватает.
 Сколько было орехов?»

В одном доме жили:
 поросенок, медвежонок,
 тигренок, слоненок, лисенок,
 кенгуренок и бельчонок.
 Слоненок, как самый тяжелый,
 жил на первом этаже,
 а бельчонок, как самый
 легкий, на последнем. Под
 бельчонок жил лисенок,
 а под ним кенгуренок. Над
 слоненком жил поросенок,
 а над поросенком медвежонок.
 Вопрос: 1) Сколько жильцов
 и сколько этажей в доме?
 2) На каком этаже живет
 каждый? 3) Кто живет
 посередине?



ЗАДАЧИ

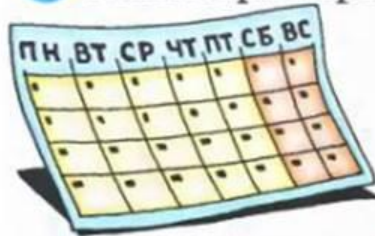
1 Отец с двумя детьми катались
 на велосипедах. Велосипедов было
 три, а колес семь. Как это могло быть?
(Один велосипед — три колеса)

2 Из каких семи цветов состоит
 радуга?
(Красный, оранжевый, желтый, зеленый,
 голубой, синий, фиолетовый)

3 Двое друзей договорились сесть
 в четвертый вагон электрички, в которой
 было семь вагонов. Один сел в четвертый
 вагон с начала поезда, другой — с конца.
 Встретились ли они в одном вагоне?
(нет)

4 Как называются семь главных нот?
(До, ре, ми, фа, соль, ля, си)

? Рассмотрни картинки и скажи, что у нас по семь?



? Реши задачу и докрась картинку.

Семь воробышек сели на грядки
И чего-то клюют без оглядки.
Кот-хитрюга внезапно подкрался,
Вмиг схватил одного и умчался.
Да, опасно клевать без оглядки.
Сколько птичек осталось на грядке?



$$7 - 1 = 6$$

