

ГУСИ-ЛЕБЕДИ







1. Вставь нужные числа:

1

48... .. 52

74... .. 70

2

... 89...

... 60 ...

3

13 23 63

68 57 24

200 02
10







Маша вытащила из печки 18 пирожков с капустой, а с повидлом на 3 пирожка больше. Сколько всего пирожков вытащила Маша из печки?

К.- 18 п.

П.- ?,на 3 п. больше

?

Решение.

1) $18 + 3 = 21$ (п.)- с повидлом;

2) $21 + 18 = 39$ (п.)

**Ответ: 39 пирожков вытащила
Маша из печки.**



Яблочки не простые а с уравнениями. Поможем ей решить уравнение?
В ваших учебниках это задание под номером 4 стр.40.

ВНИМАНИЕ!

- **Уравнение** – это равенство, содержащее неизвестное число, которое надо найти.
- **Решить уравнение** – значит найти такое значение X , при котором равенство будет верным.

Давайте поможем Маше их убрать. Но для этого нам решить примеры.

№6 стр.40

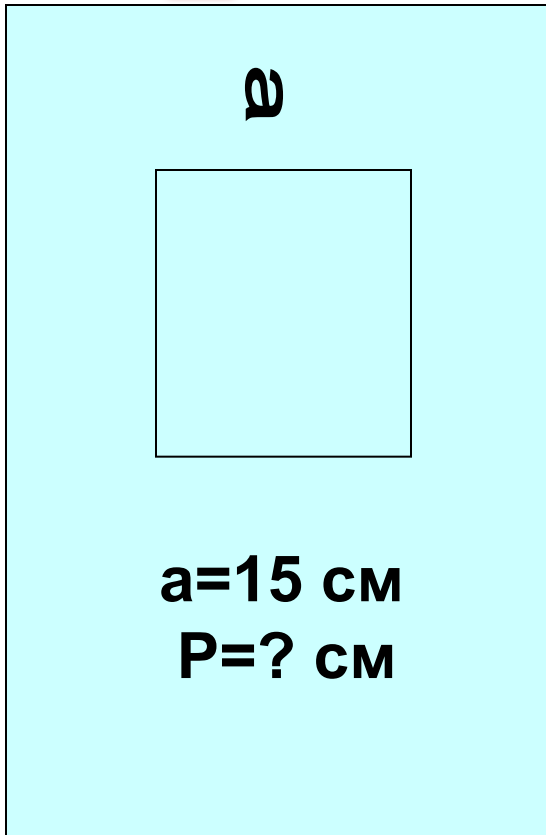


ВНИМАНИЕ!

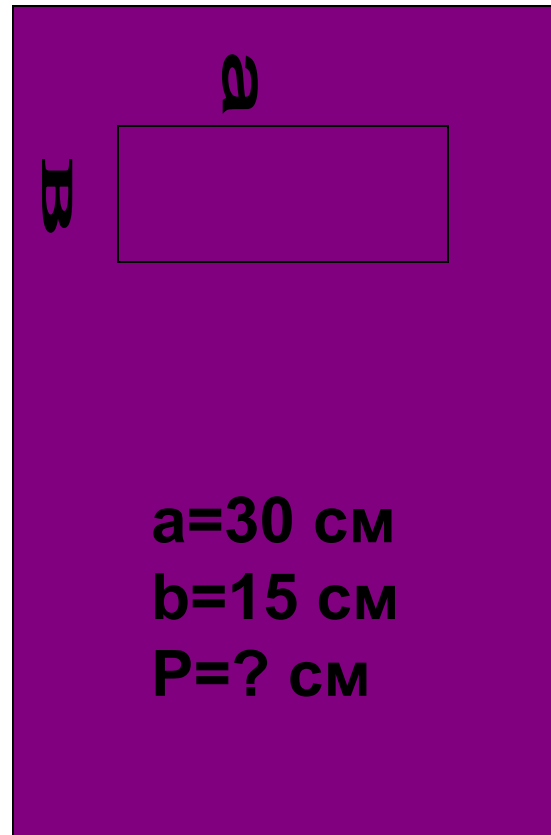
- **Это числовое выражение.**
- **Если в выражении выполнить указанные действия, то найдём значение выражения.**
- **Действия, записанные в скобках, выполняются первыми.**




1



2





ВНИМАНИЕ!


- **Единицы складывают с единицами.**

- **Десятки складывают с десятками.**

(Удобнее к большему числу прибавить меньшее.)

- **Единицы вычитают из единиц.**

Десятки вычитают из десятков.






Хлеб всему

платят

За добро добром

ГОЛОВА



**За добро добром
платят.**



Вы считаете , что урок прошёл для вас
плодотворно , с пользой.
Вы научились и можете помочь друзьям.



Вы считаете , что научились решать
примеры и задачи, но вам ещё нужна
помощь.



Вы считаете, что было трудно на уроке

НОВАЯ ШКОЛА
С НАЧАЛОМ
ЗАПОРКА