



Көпбұрыштың периметрі

Шаған ЖОББМ

Бастауыш сынып мұғалімі:

Габбасова А.И.









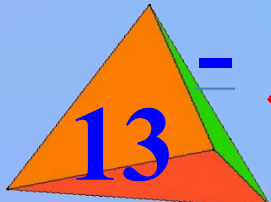






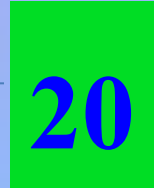
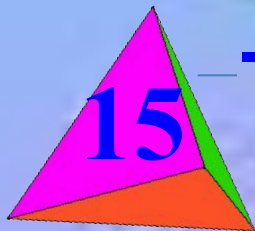





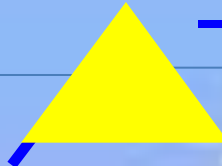



Сабақтың мақсаты:

Геометриялық фигуралар туралы білімдерін кеңейту.

- Ауызша есептеу дағдыларын дамыту, логикалық ойлау қабілеттерін арттыру.
- Шапшаңдыққа, ұқыптылыққа тәрбиелеу.

Кел, Ойнайық!

Есепте!

 - 	 + 	 - 	 - 
 - 	 + 	 + 	 - 
 - 	 + 	 - 	 - 
			

Математикалық диктант

Кім жүйрік?


3 8 онд. пен 5 ондықтың
айырмасы
8 бірл. пен 3 бірліктің айырмасы


4 9 бірл. пен 9 бірліктің
қосындысы





ш	ж	г	и	к	у	ұ	р	ы	ш
ы	а	е	х	ө	п	б	о	и	е
т	ө	р	ь	ю	ф	э	б	ұ	я
ч	р	т	ш	щ	к	е	с	р	ы
ү		б	ұ	ы	с	с	і	ь	ш
ш	б	ө	р	ы	ә	у	н	д	у
ң	ұ	р	і	ш	і	л	е	і	з
р	д	ы	ш	ө	з	қ	һ	т	ү

Сөз құрастыр


$32+56=$  **Ш**


$89-31=$  **Ұ**


$98-64=$  **Ө**

$23+23=$  **П**

$40+25=$  **Ы**

$24+35=$  **Р**

$79-31=$  **Б**

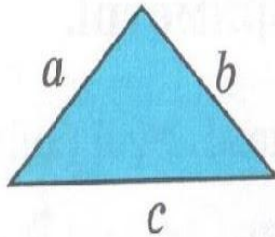
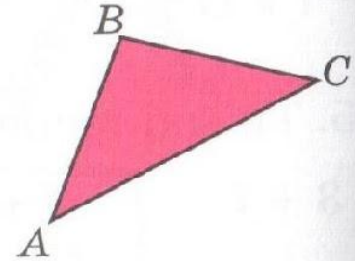
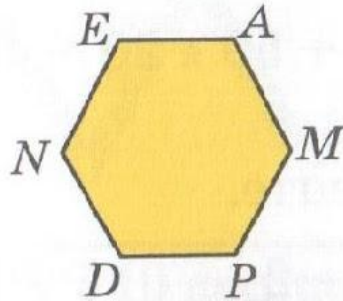
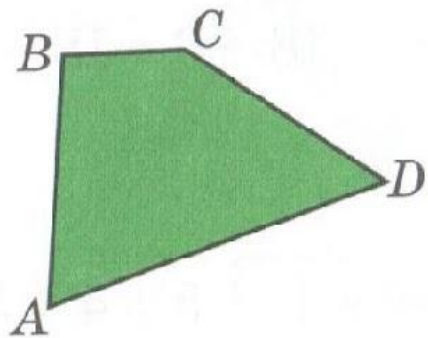
$66-34=$  **К**

48

К

Ш

Оқулықпен жұмыс



Периметр (P)

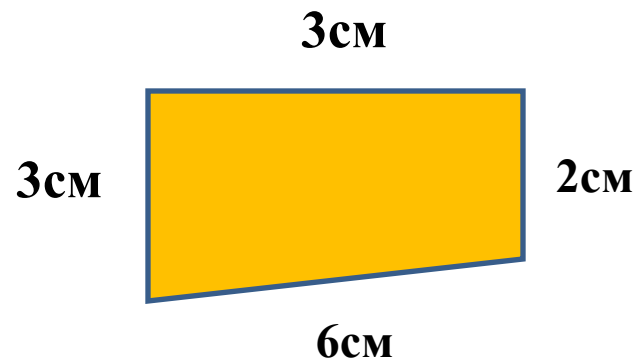
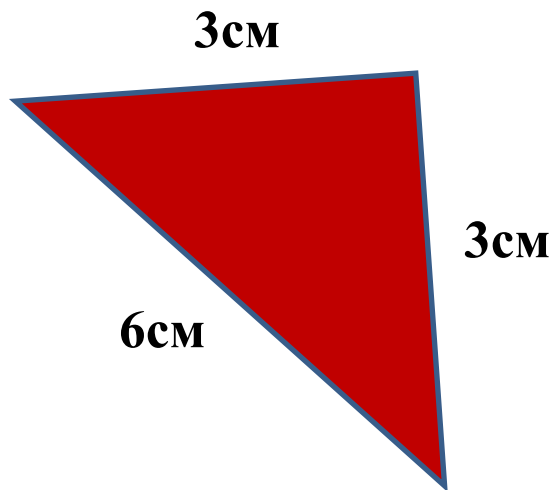
$$P = a + b + c$$

Сергіту сәті



Өзіндік жұмыс

Тапсырма 3



Теңдеу 5

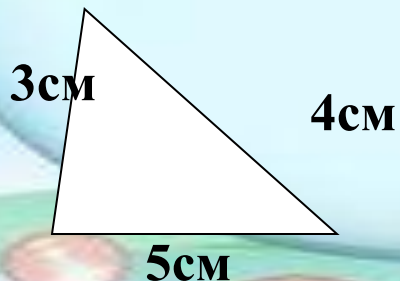
ҚОСЫЛҒЫШ	у	23
ҚОСЫЛҒЫШ	13	х
ҚОСЫНДЫНЫҢ МӘНІ	25	76

азайғыш	а	95
азайтқыш	41	в
айырманың мәні	34	40

Сәйкестік орнат

Көпбұрыш

Периметр



А: 24 см
Ә: 12см

Б: 11 см




Жауабы:

Blank blue rounded rectangle for the answer.

Рефлексия «Бес саусақ»

Қағазға алақанның суретін салып, әр саусаққа сабақтағы жасаған жұмыстарды жазу.





Үй тапсырмасы



Тапсырма 3
66-бет

Анықтаманы
жаттау

Назарларыңызға рахмет!

