




Автор: учитель начальных классов  
Белоусова Елена Павловна





«Как мягка  
и как тепла!»

# Задание для мышки

Расположите ответы в порядке  
возрастания

$$6 + 4 = \underline{\quad} - \text{дела}$$

$$9 - 4 = \underline{\quad} - \text{где дружба}$$

$$4 + 5 = \underline{\quad} - \text{идут}$$

$$9 - 3 = \underline{\quad} - \text{прочна}$$

$$10 - 3 = \underline{\quad} - \text{там хорошо}$$





## задание

## ответ

Какое число стоит перед числом 7?

**6**

Первое слагаемое 3, второе - 4.  
Найдите сумму?

**7**

Какое число следует за числом 8?

**9**

Я задумала число. Оно на 3 больше 5.  
Какое число я задумала?

**8**

У Петра 7 книг, а у Кати 2.  
Сколько всего у детей книг со сказками?

**9**

## Оцени свою работу



- 0 ошибок



- 1,2 ошибки



- 3 ошибки





# **Тема:** Решение задач на увеличение (уменьшение ) числа на несколько единиц

**Цель:** закрепить умение решать задачи на

увеличение (уменьшение) числа на несколько единиц

**Задачи:**

- вспомнить состав числа
- как правильно оформлять задачи
- чертить схему к задаче





# Задание для зайки



знает 7 сказок, а




– на 3 >.

Сколько сказок знает лягушка?

Мышка – 7 с.

Лягушка - ? На 3 >, чем



$$7 + 3 = 10 \text{ (с.)}$$

Ответ: 10 сказок знает  
лягушка



# Задание для лисоньки


Составьте задачу по картинке:



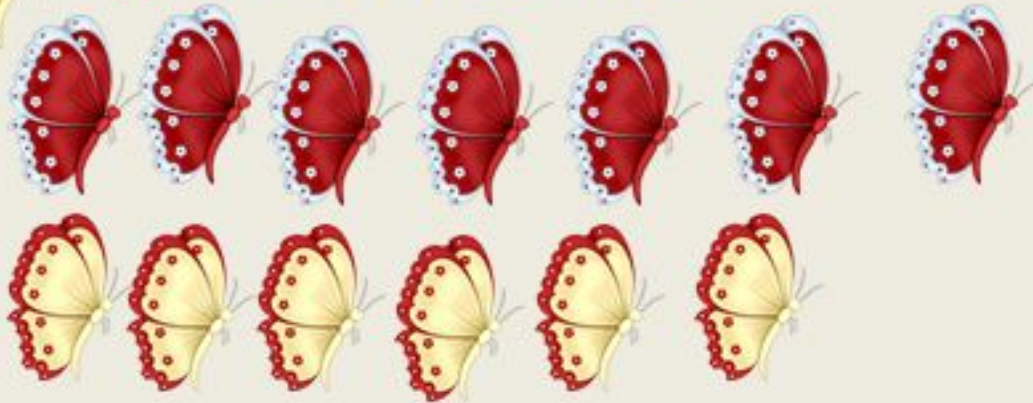
- 76.



- ? на 1 меньше







$$7 - 1 = 6 \text{ (б.)}$$

Ответ: белых 6 б.





$$4 * \_ = 5$$

$$9 * \_ = 8$$

$$8 * \_ = 5$$

$$6 * \_ = 8$$

$$4 + 1 = 5$$

$$9 - 1 = 8$$

$$8 - 3 = 5$$

$$6 + 2 = 8$$



## 1 вариант

$$4 + 3 = 7$$

$$8 - 1 > 6$$

$$6 - 4 < 9$$

$$9 - 6 > 2$$

$$5 + 3 = 8$$

## 2 вариант

$$5 + 2 > 4$$

$$8 - 3 < 6$$


$$7 - 5 = 2$$

$$8 - 4 = 4$$

$$3 + 4 > 4$$




# Задание для Мишки




$8+2$

$7+1$



$4+5$


$4+6$



$3+3$



$6+4$



$5+4$



# РУКАВИЧКА

