



ПРИБАВЛЕНИЕ ЧИСЛА 1

④ Дополни математические записи с помощью рисунков.

$$\boxed{3} + 1 = \boxed{4}$$

$$\boxed{4} + 1 = \boxed{5}$$

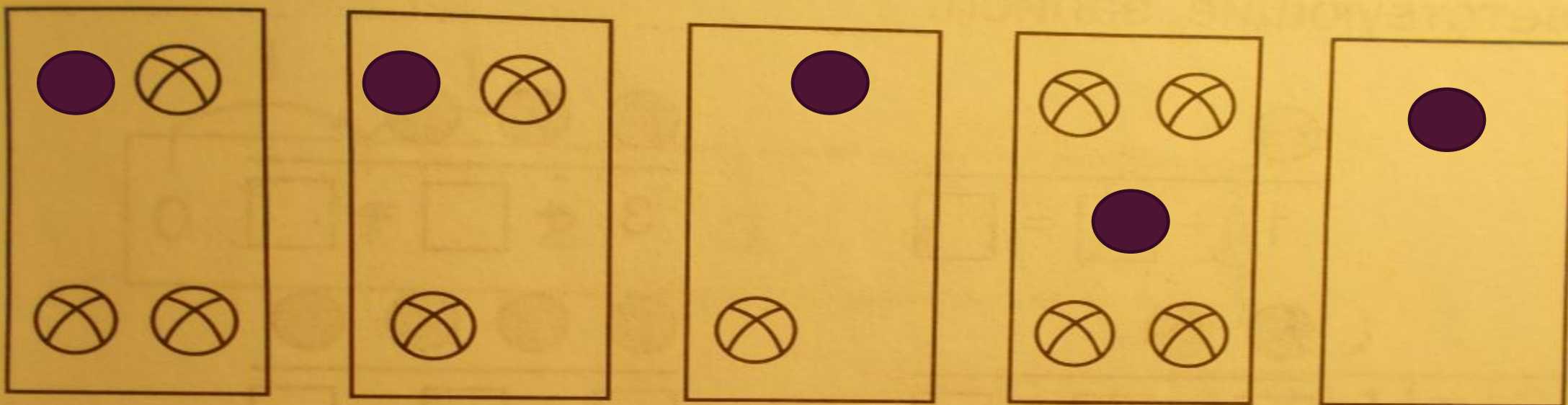
$$\boxed{2} + 1 = \boxed{3}$$

$$\boxed{1} + 1 = \boxed{2}$$

$$1 + \boxed{3} = \boxed{4}$$



5) Дорисуй по одному мячику в каждой рамке.



Выполни действия сложения с помощью ЭТИХ рисунков.

1	+	3	=	4
---	---	---	---	---

			=	
--	--	--	---	--

			=	
--	--	--	---	--

			=	
--	--	--	---	--

			=	
--	--	--	---	--

			=	
--	--	--	---	--

			=	
--	--	--	---	--

			=	
--	--	--	---	--

			=	
--	--	--	---	--

⑥ Запиши по порядку все числа от нуля до четырёх: , , , , .

Составь с этими числами суммы, в каждой из которых второе слагаемое — число 1.

Запиши суммы и их значения.

0	+	1	=	1
---	---	---	---	---

			=	
--	--	--	---	--

			=	
--	--	--	---	--

			=	
--	--	--	---	--

			=	
--	--	--	---	--

⑨ Дополни записи.

5 — это 4 и ещё

5 — это 3 и ещё

5 > 4 на

5 > 3 на

4 — это 3 и ещё

4 — это 2 и ещё

4 > 3 на

4 > 2 на

3 — это 2 и ещё

3 — это 1 и ещё

3 > 2 на

3 > 1 на




1

1

1



КОНКУРС- ИГРА







$$3 + 1$$




4


+

1



Составьте выражение, в котором первое слагаемое равно 2, а второе слагаемое равно 3. Найдите значение суммы.





1-Голубой 2-Оранжевый 3-Чёрный 4-Светло коричневый 5-Серый
7-Красный 6-Пурпурный

