

Информатика

Составление алгоритмов.
2 класс (Е.П.Бененсон)

Автор: Нигматулова Светлана Петровна,
МБОУ «СОШ№11»
Г.Киселёвск



Стр.25 №33. Заполни пропуски, чтобы высказывания были истинными.

-Шкаф выше, чем_____.

-Первоклассник ниже, чем_____.

-Катя ниже Пети, а Маша одного с ним роста; следовательно, Катя и Маша не_____, чем Петя.

-Рекс выше, чем Бим, а Мухтар одного роста с Бимом; следовательно, Рекс и Мухтар не_____, Чем Бим.




Стр.26 №34. В записи алгоритма перепутан порядок шагов. Расставьте правильные номера шагов в квадратах Дай название алгоритму.

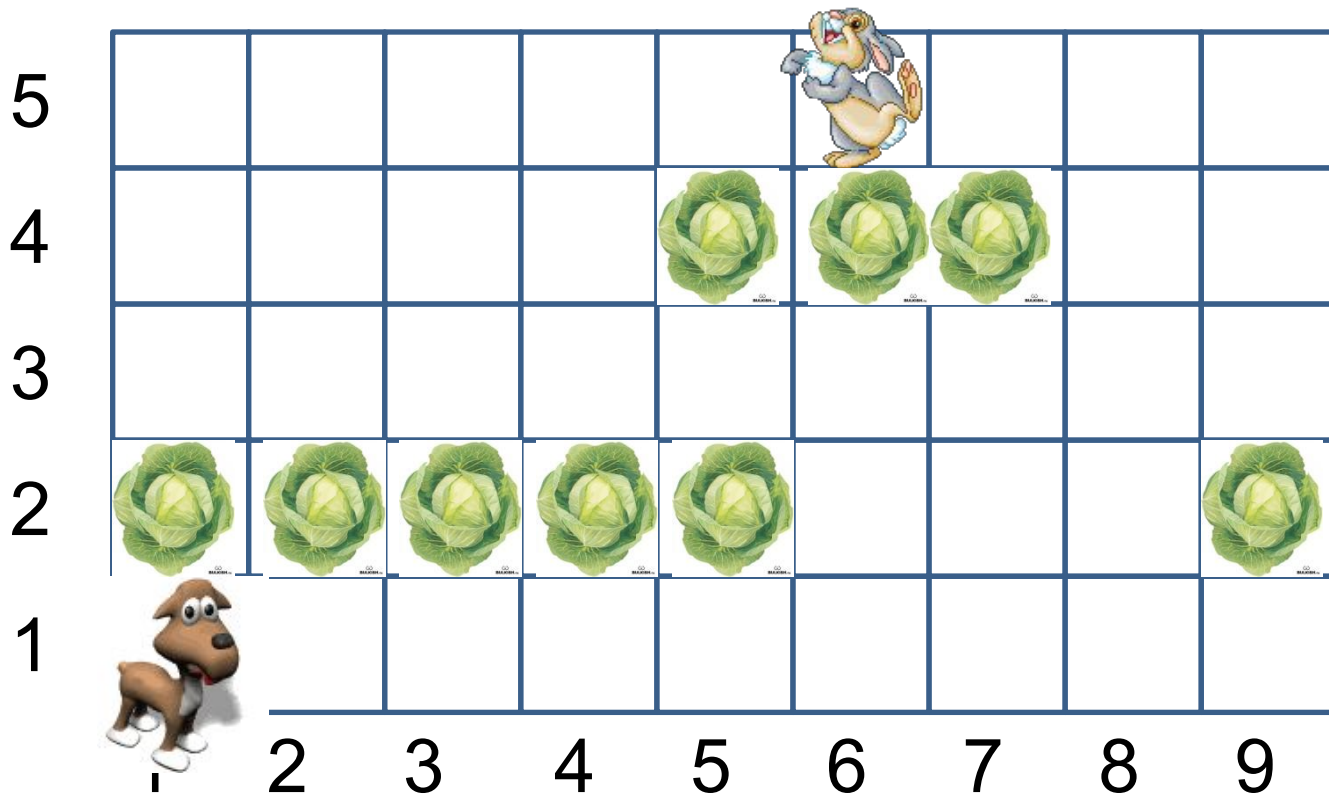
Начало

- | | |
|---|---|
| 4 | Кипятить 10 минут. |
| 1 | Положить чистое яйцо в кастрюлю. |
| 2 | Налить в кастрюлю воды. |
| 3 | Поставить кастрюлю на включенную плиту. |
| 7 | Облить яйцо холодной водой. |
| 5 | Снять кастрюлю с плиты. |
| 6 | Вылить горячую воду. |

Конец

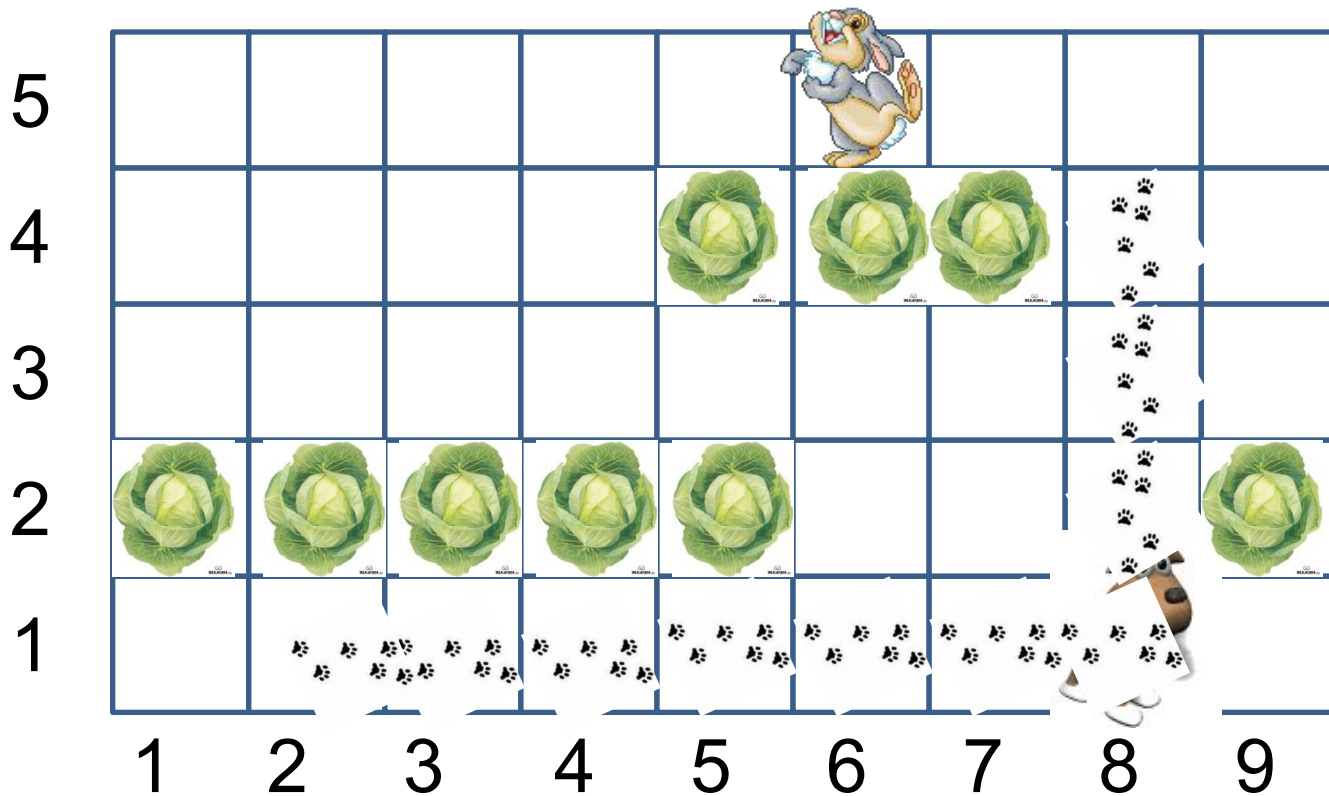


Стр.26 №35. Прогулки Энтика. Нарису кусты в клетках с адресами (2,2), (5,2), (7,4).

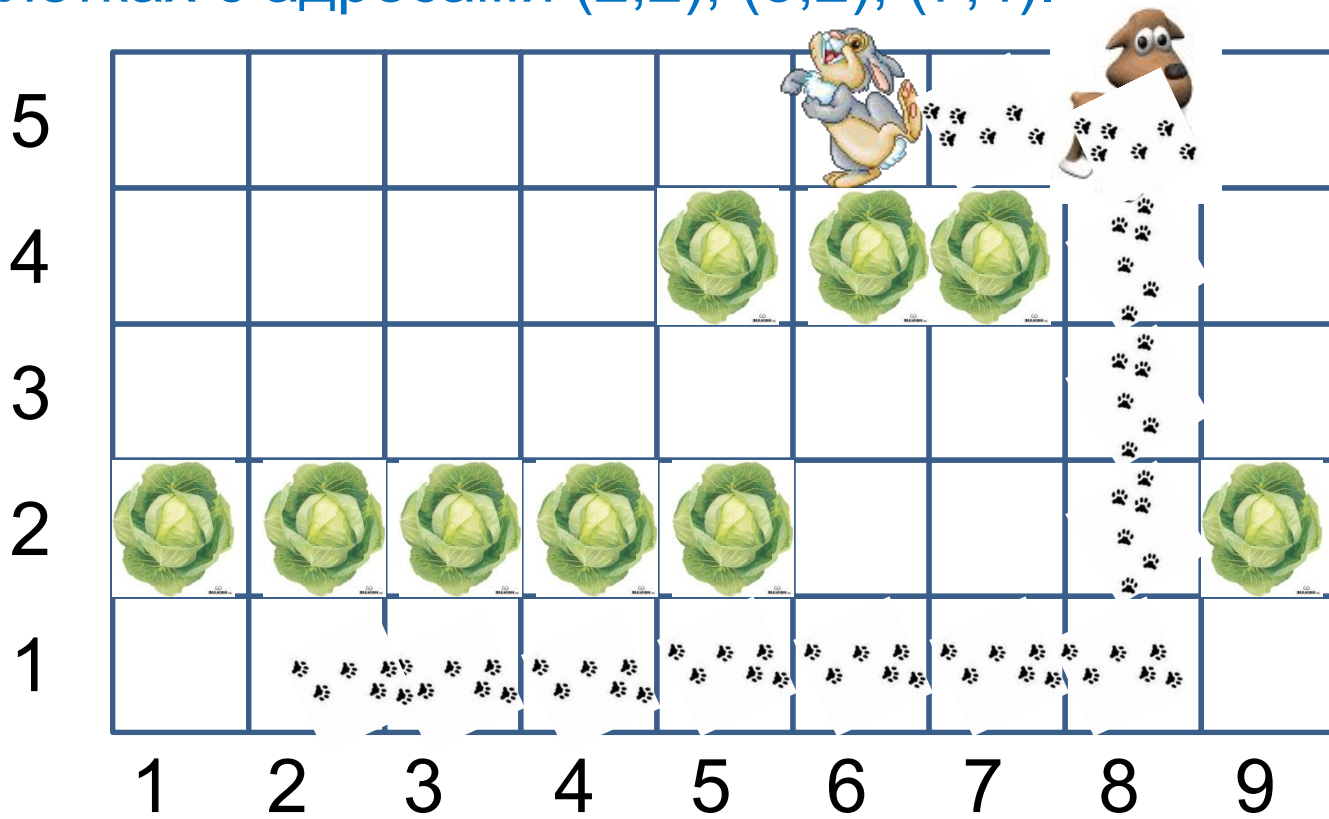


acer

Стр.26 №35. Прогулки Энтика. Нарисуй кусты в клетках с адресами (2,2), (5,2), (7,4).



Стр.26 №35. Прогулки Энтика. Нарису кусты в клетках с адресами (2,2), (5,2), (7,4).



Стр.27 №36. Перед представлением клоуны
встали в ряд; Ком-Ком – посередине.
Отметь символом Ком-Кома.
Раскрась обувь у всех клоунов того же роста,
что и Ком-Ком.



Домашнее задание

с. 27 № 36



acer

«Яблоня»

Я считаю, что сделал всё на
отлично, у меня хорошее
настроение



не справился с заданием, у
меня грустное настроение

