

Донецкий Республиканский Институт
дополнительного педагогического образования



Технологии создания
интерактивных тренажёров
в программе PowerPoint

Отдел начального образования
Творческая мастерская*2016

**Работа выполнена в рамках ТМ «Технологии
создания интерактивных тренажеров»**

<http://intafy.at.ua/> <http://nachalo2015.ucoz.com/>

**Математика
3 класс**

Путешествие в Сказочную страну

Приём «Шторка»

**Автор: Охременко Елена Леонидовна,
учитель начальных классов
ОШ I – III ступеней с. Петропавловка**





Найди примеры с ответом 90

$9 \cdot 10$

$80 + 20$

$90 : 1$

90

$50 + 40$

$60 : 10$

$100 : 50$





Найди примеры с ответом 47

$20 + 27$

$63 - 16$

$85 - 23$

$47 \cdot 1$

$94 - 78$

$47 : 47$

47





Реши пример и найди ответ

45

51

56

59

39

54

$$(20+7) \cdot 2$$





Вставь смытые водой цифры

$$7 \cdot \star = 2 \star$$

$$\star \cdot 9 = 8 \star$$

$$8 \cdot \star = \star 8$$

$$\star \cdot 5 = 2 \star$$





Вставь смытые водой цифры

$$\begin{array}{r} + \text{ [character]} 6 \\ \text{[character]} 2 \\ \hline 61 \end{array}$$

$$\begin{array}{r} - 9 \text{ [character]} \\ \text{[character]} 8 \\ \hline 48 \end{array}$$

$$\begin{array}{r} + 3 \text{ [character]} \\ \text{[character]} 9 \\ \hline 66 \end{array}$$

$$\begin{array}{r} - \text{ [character]} 0 \\ 5 \text{ [character]} \\ \hline 18 \end{array}$$



$$\begin{array}{r} + \text{ [character]} 6 \\ \text{[character]} 3 \\ \hline 92 \end{array}$$







Реши примеры. Вставь цифры.

$$\begin{array}{r} \square - 62 \\ \hline 9 \end{array}$$



6

$$\begin{array}{r} \square - 39 \\ \hline 6 \end{array}$$



3

$$\begin{array}{r} \square - 35 \\ \hline 8 \end{array}$$

3

$$\begin{array}{r} \square - 45 \\ \hline 8 \end{array}$$

5





Реши уравнения



$$x \cdot 20 = 40$$

$$60 : x = 10$$





Реши уравнения

$$x + 48 = 59$$

$$84 - x = 37$$





Сравни именованные числа

4 дм ★★ ★ 47 см

15 мм ★★ ★ 1 см





Преобразуй именованные числа

$$125 \text{ см} = 1 \text{ м } 2 \text{ дм } 5 \text{ см}$$

$$540 \text{ см} = 5 \text{ м } 4 \text{ дм}$$

$$906 \text{ см} = 9 \text{ м } 06 \text{ см}$$





Преобразуй именованные числа



$$8 \text{ см } 6 \text{ мм} = 86 \text{ мм}$$

$$4 \text{ м } 2 \text{ дм} = 42 \text{ дм}$$

$$3 \text{ м } 4 \text{ дм} = 340 \text{ см}$$





Реши примеры

$$43 : 8 = 5 \text{ (ост. 3)}$$

$$64 : 7 = 9 \text{ (ост. 1)}$$

$$58 : 6 = 9 \text{ (ост. 4)}$$



Ссылки

