

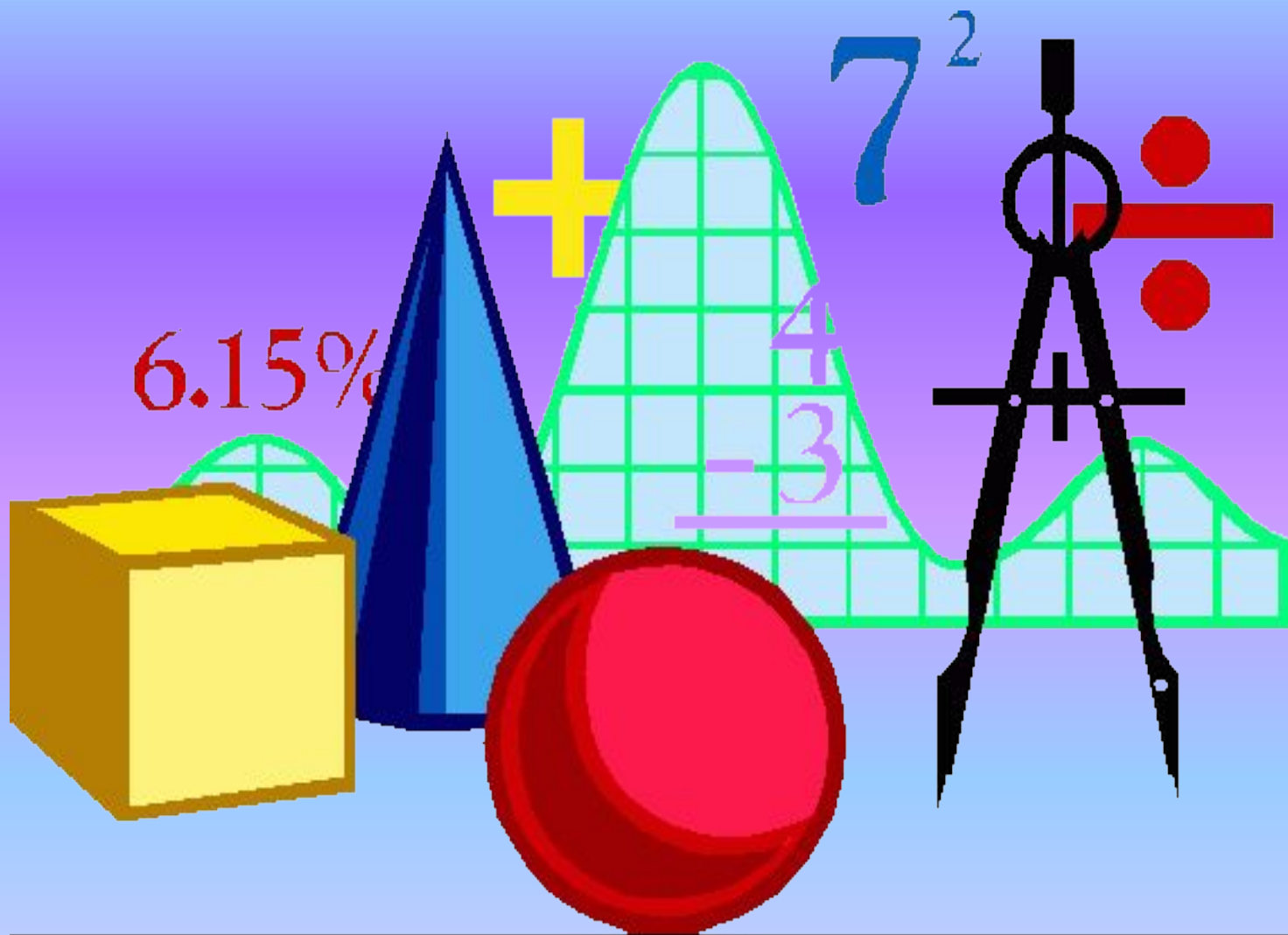
# Ашық сабақ

Мұғалім: *Г.С.Абилова*

Сыныбы: 3 “Б”

Пәні: *математика*

# Ұйымдастыру кезеңі



# Психологиялық дайындық

1» дегенім жаман баға  
Алады оны жаман бала.  
«2» деген нашар баға  
Інішегім нашарлама.  
«3» дегенім орта баға  
Сапасы оның орта ғана  
«4» дегенім жақсы баға  
Алады оны жақсы бала  
«5» дегенім үздік баға  
Оқимыз тек үздік қана .



# ҚЫЗЫҒУШЫЛЫҚТЫ ОЯТУ



# Үй тапсырмасының орындалуын тексеру

22 б. № 6

Теңдеулерді шеш:

$$C * 5 = 450 \quad 450 : a = 50 \quad x : 5 = 90$$



# Қысқы Универсиада-2017-нің бойтұмары



# Жедел сұрақтарға жауап беру

1. Шаршының неше өлшемі бар?
2.  $2^3$  - қанша?
3.  $3^2$  - қанша?
4. 1 м неше см бар?
5. Көлемнің қандай өлшем бірліктерін білесіңдер?
6. Ұзындығы 4 см, ені 6 см тік төртбұрыштың ауданы нешеге тең?



# Универсиада алауы





26 қаңтар

**СЫНЫП**

**ЖҰМЫСЫ**

# Математикалық диктант



*17*

*28*

*1993*

*700*

*125*

*2011*

*29*

*2017*

*55*

*200  
0*

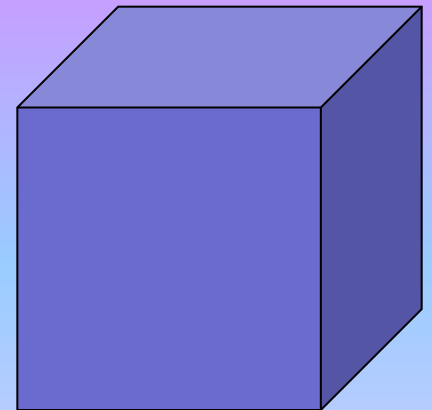
*3000*

*30000*



*Сабақтың тақырыбы:*

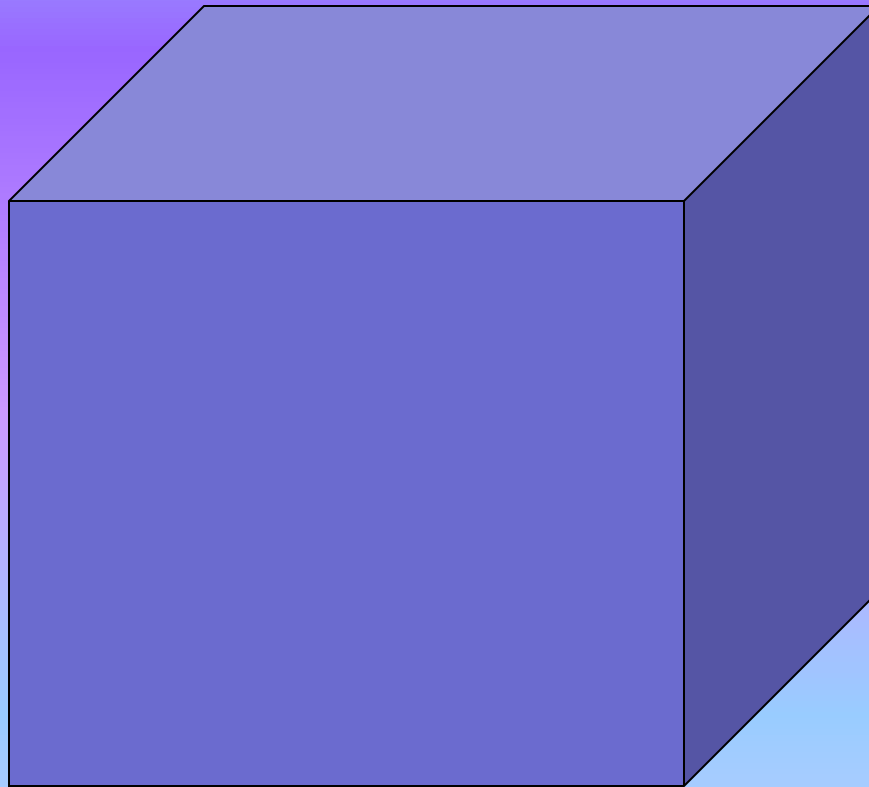
# Куб (текше) және оның көлемі



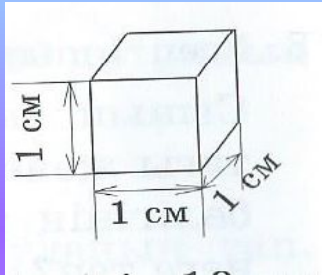
# УНИВЕРСИАДАНЫҢ МАРАПАТ МЕДАЛЬДАРЫ



# Куб (текше)



# Практикалық жұмыс



*Ұзындығы – 1 см.*

*Ені – 1 см.*

*Биіктігі – 1 см.*

*Текшенің көлемі - ?*

II – қатар

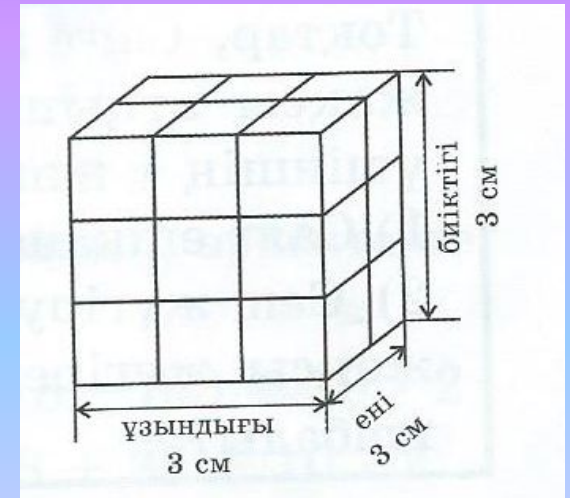
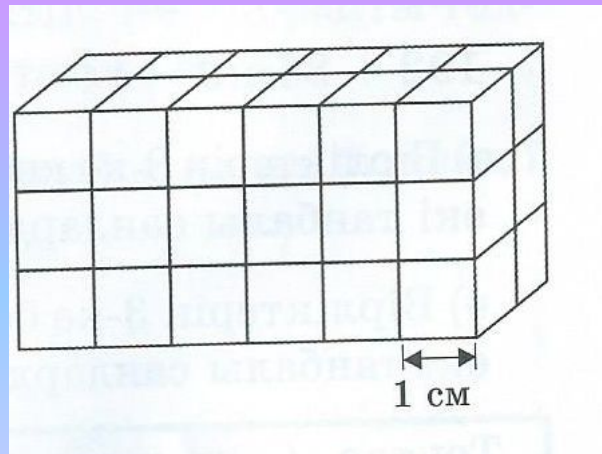
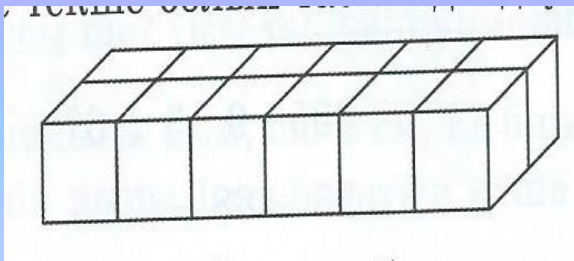
№ 3

III – қатар

№ 4

I – қатар

№ 2





Фристайл



Шаңғы қоссайысы



Шаңғы жарысы





Шаңғымен трамплиннен секіру



Таушаңғы спорты



биатлон





Шорт трек



Мәнерлеп сырғанау



Шайбалы хоккей



Конькимен жүгіру спорты



# керлинг

# Сноуборд



Сергіу  
сәті



**#15**

올챙이와

개구리

# Тақтамен жұмыс

№ 6 (ә) Амалдарды орында:

$$128 - 7 * 4 + 22$$

$$335 - 9 * 5 + 67$$

$$192 + 36 : 9 - 14$$

$$25 + 88 - 7 * 5$$

# Халық арена







# Алматы арена



# Сыныппен жұмыс

№ 5 Есептер құрастыр және шығар.




(1 есеп)

Сатылды – 70 кг –нан 3 қап

Қалды - 70 кг –нан 3 қап

Болды - ?, кг.

# Ақтөбелік Универсиада алаугерлері



# Өзіндік жұмыс

№ 6 (а) Теңдеулерді шешу



I қатарға  
I -баған



II қатарға  
II баған



III қатарға  
III баған


# Мария Сизова -

Ақтөбе  
облысының  
намысын  
Универсиадада  
қорғайтын  
спортшы.




# Сабақты бекіту

Карточкалармен  
ЖҰМЫС



14 қаңтар күні  
Универсиада  
қарсаңында  
Комсомол селосында  
шаңғы марафоны  
өтті.  
Шараға 70 спортшы  
қатысты.





# Үйге тапсырма:

24 бет

№ 6 (ә), № 7





Сабақтағы жетістіктерім ....

Сеніңше не орындалды?

Нені орындай алмадың? Неге?



# Бағалау

