

Тест по математике для 1 класса



старт

Вопрос № 1



Выбери правильный ответ:

$$4 + 2 = ?$$


5

6

7

Вопрос № 2

По какому признаку разбиты
фигуры?



форма

размер

цвет

Вопрос № 3



Выбери сумму чисел,
равную 7:


2 + 5

1 + 4

3 + 3

Вопрос № 4

Какая цифра соответствует количеству фигур?



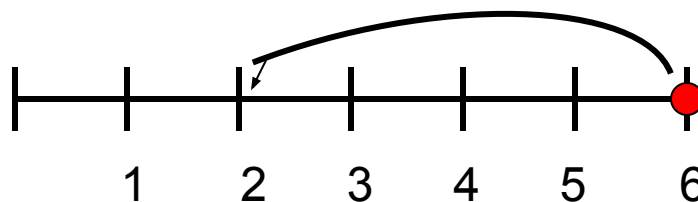
5

8

7

Вопрос № 5

Какое выражение соответствует действию на числовом отрезке?



$6 - 4$

$6 - 2$

$6 + 3$

Молодец! Всё правильно!



Вопрос № 2

Вопрос № 5

Вопрос № 3

Вопрос № 4

конец

Неверно! Ты плохо подумал!



Вопрос № 2

Вопрос № 5

Вопрос № 3

Вопрос № 4

конец

Ты выполнил все задания!

