

Егорк  
а






42

## Занятие 22. ЧИСЛО 9. ЦИФРА 9


1

Составь пары и определи, кого больше и на сколько?  
Кого меньше и на сколько?







2 Дополни до девяти:




$7 + \boxed{2}$



$5 + \boxed{4}$



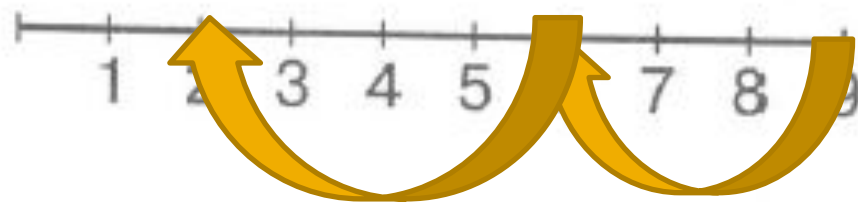
$6 + \boxed{3}$



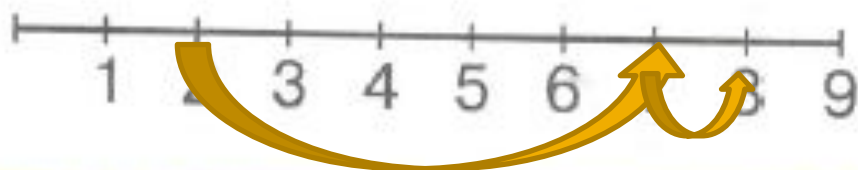
$8 + \boxed{1}$



3\* Проведи стрелки и запиши ответ:



$$9 - 3 - 4 = \boxed{2}$$



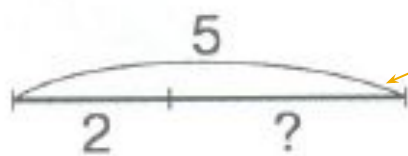
$$2 + 5 + 1 = \boxed{8}$$

# Занятие 22. ЧИСЛО 9. ЦИФРА 9

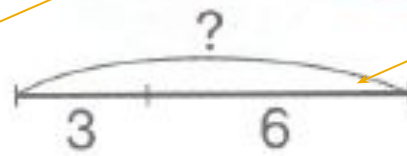


43

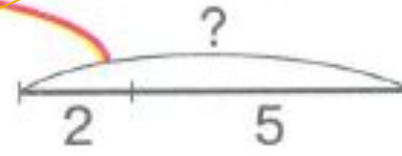
- 4 Подбери к картинкам схемы и запиши решение.  
Назови целое и части.



$$5 - 2 = \boxed{3}$$



$$3 + 6 = \boxed{9}$$



$$2 + 5 = \boxed{7}$$

5

Посмотрите! От Егорки  
Убежала лыжа с горки!

Помогите кто-нибудь!  
Отыщите верный путь!

