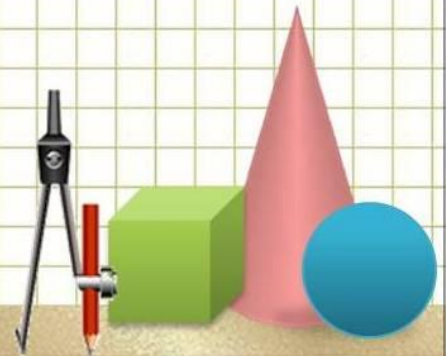


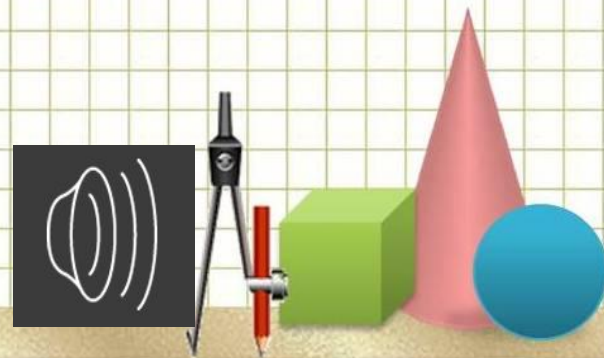

КВН

«Весёлая математика»

Составила: Зиновьева Е.Л.



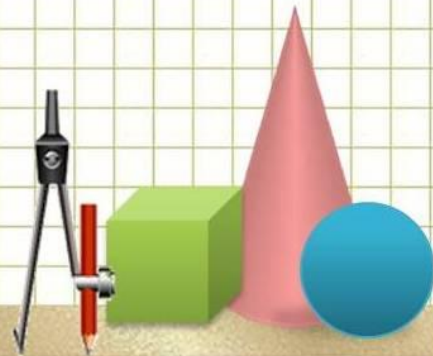

Представление жюри.



Представление команд

1 команда – «ПЛЮС»

2 команда – «МИНУС»

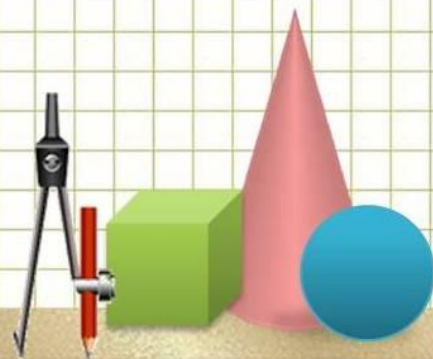


РАЗМИНКА

1. Имеет он четыре стороны, и все они равны.
2. Три стороны и три угла, и столько же вершин.
3. Цифру к цифре мы прибавим, между ними крестик вставим

Намотай себе на ус: этот знак зовётся ...

4. Из цифры вычтем мы другую, ставим чёрточку прямую.
Я тире в грамматике, а кто же я в математике?
5. Не похож я на пятак, не похож на рублик.
Круглый я, да не дурак, с дыркой, да не бублик.
6. Шея длинная такая, хвост крючком и не секрет:
Любит всех она лентяев, а её лентяи – нет.



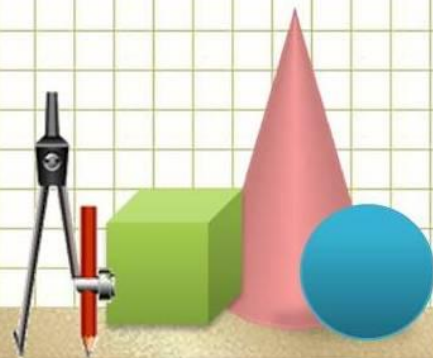
1 РАУНД.

«Занимательные задачи.»

1. Пять ребят в футбол играли,
одного домой забрали

Он в окно глядит, считает,
сколько их теперь играет.

$$(5-1=4)$$

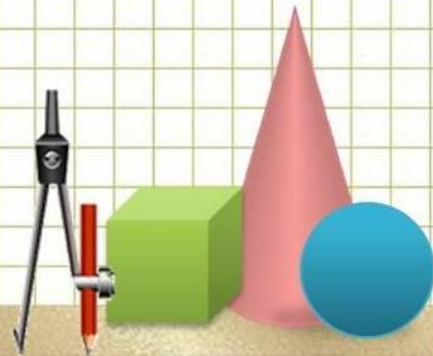


2. Шесть весёлых медвежат за малиной
в лес спешат.

Но один малыш устал, от товарищей
отстал.

А теперь ответ найди: сколько
мишек впереди?

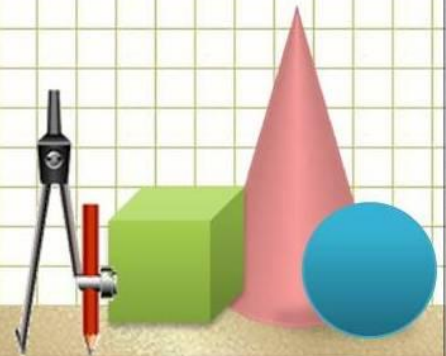
$$(6-1=5)$$



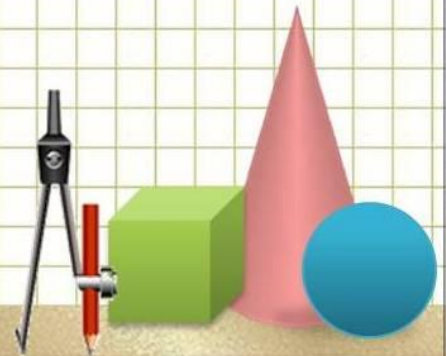
3. У стены стоят кадлушки, в каждой кадлушке по 1 лягушке.

Если было 5 кадлушек, сколько было в них лягушек?

$$(1+1+1+1+1=5)$$



4. Шесть ворон на крышу село
И одна к ним прилетела.
Отвечайте быстро, смело,
Сколько всех их прилетело?
(6+1=7)



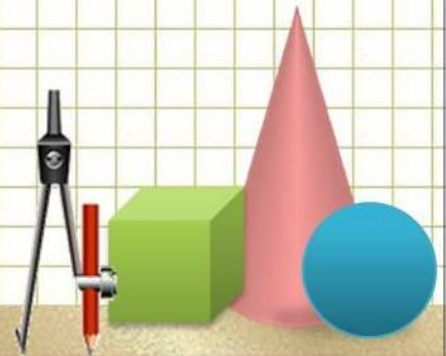
2 РАУНД.

«Математические прятки»

Какие числа спрятались?

1, 2, ..., 4, 5, 6, ..., 8, ..., 10

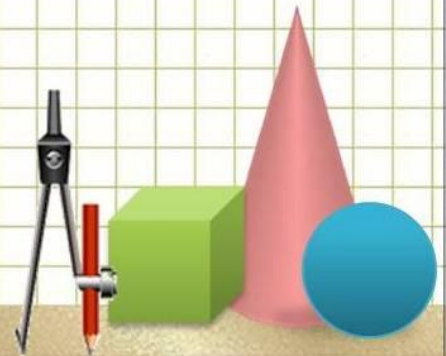
10, 9, ..., 7, ..., ..., 4, 3, ..., 1



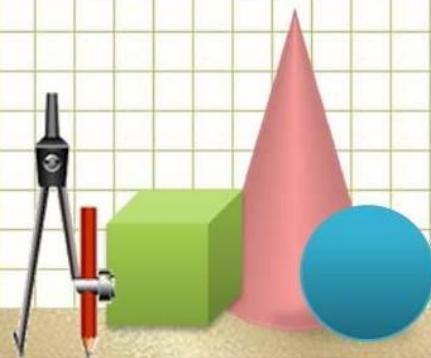
Правильный ответ.

1, 2, 3, 4, 5, 6, 7, 8, 9, 10

10, 9, 8, 7, 6, 5, 4, 3, 2, 1



ФИЗМИНУТКА



3 РАУНД . «Ребусы»

7 Я

40 А

ЛАС .

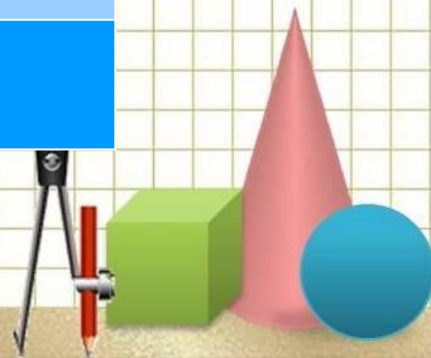

ПО 2 Л

С 3 ЖИ

Р 1 А

ВИ 3 НА

100 Л



Игра со зрителями.

Угадай:

Сколько пальцев на руке?

Сколько дней в неделе? А сколько из них выходных?

Сколько глаз и бровей у человека?

Сколько хвостов у восьми кошек?


Сколько лап у одной собаки?

Сколько пальцев на ноге?

Сколько гномов у Белоснежки?

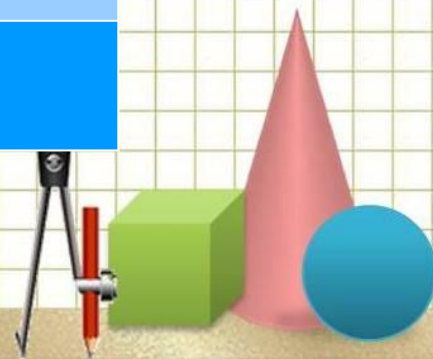

Сколько раз надо отмерить, чтобы один раз отрезать?

Каким по счёту днём недели является суббота?



Правильные ответы.

7 Я	СЕМЬЯ
40 А	СОРОКА
ЛАС .	ЛАСТОЧКА
ПО 2 Л	ПОДВАЛ
С 3 ЖИ	СТРИЖИ
Р 1 А	РОДИНА
ВИ 3 НА	ВИТРИНА
100 Л	СТОЛ



4 РАУНД.

«Шифрованная записка»

1-М 2-А 3-Т 4-Е 5-И 6-К 7-В 8-Ж 9-Н

1)	2)	3)	4)	5)	6)	7)	8)	9)	10)		11)	12)	13)	14)	15)

1) $9-8=$

5) $7-6=$

9) $4+2=$

13) $2+6=$

2) $3-1=$

6) $9-7=$

10) $10-8=$

14) $4+5=$

3) $10-7=$

7) $1+2=$

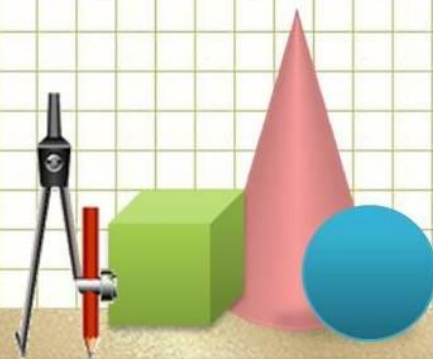
11) $3+4=$

15) $6-4=$

4) $8-4=$

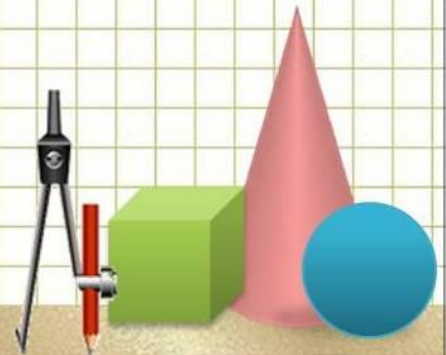
8) $9-4=$

12) $5-3=$



Игра со зрителями.

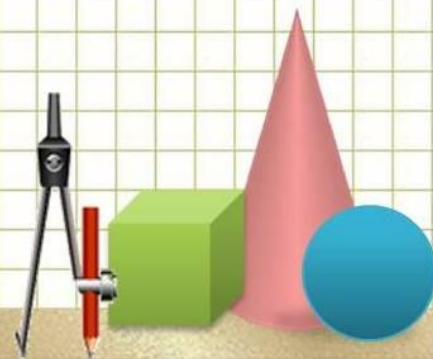
Слушайте загадки внимательно. В тексте спрятались цифры. Нужно назвать цифру, которая спряталась в тексте, и отгадать загадку.



«Шифрованная записка»

Правильный ответ.

1	2	3	4	5	6	7	8	9	10	11	12	13	14	15
М	А	Т	Е	М	А	Т	И	К	А	В	А	Ж	Н	А



5 РАУНД.


«Пофантазируйте и изобразите движениями и мимикой»

Кипящий чайник.


Будильник



Грустного кота




Горячий утюг



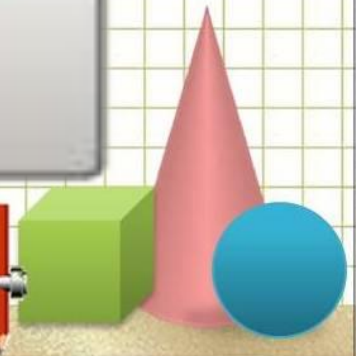
Телефон



Поезд



Награждение.



Подведение итогов

Вы сидели и считали,
И, надеюсь, не скучали.
Но закончилась игра –
Расставаться нам пора.
И давайте на прощанье,
Скажем дружно



ДО СВИДАНИЯ!

