


**РИСУНОК**

**И**

**ПЛАН**



**РИСУНОК** - изображение предмета  
таким, каким мы его видим




**ПЛАН** – это вид предмета сверху.  
Изображается при помощи условных  
знаков.



**Число, которое показывает, во сколько раз  
уменьшены или увеличены настоящие размеры  
и расстояние на плане, называют**

**МАСШТАБОМ**



# ЧТЕНИЕ МАСШТАБА

1 см : 1 дм

1 см : 1 м




1 см : 1000 м

1 см : 1 мм

*Чем **больше** в записи масштаба **вторая** цифра, тем **мельче** масштаб, и наоборот.*

# ФИЗМИНУТКА





# ДОМАШНЕЕ ЗАДАНИЕ

- Прочитать текст на стр. 35-36,
- Выполнить задания 1 и 4 после текста, ответить на вопросы.
- Составить план своей комнаты.

