


Қош келдіңіздер!



ҰЙЫМДАСТЫРУ БӨЛІМІ



І. Психологиялық сәт

Шырылдады
қоңырау.
Біз сабақты
бастаймыз,
Жақсы білім алуға,





Тұсаукесер:

а) Үй

тапсырмасын

сұрау

«Қонақ күту»

ойыны



№ 5

Болды- 95 т

Қалам – 40 т

Қарындаш – 40 т

Қалды-?

Ш: $40+40=80$

$95-80=15$

Ж: Асқарда 15 теңге қалды.



№ 6

$$7 + 6 = 13$$

$$13 - 6 = 7$$

$$17 + 6 = 23$$

$$23 - 6 = 17$$

$$27 + 6 = 33$$

$$33 - 6 = 27$$



5	6	8	11	12	13	16
Қ	О	Қ	И	Қ	А	З

Қ. 14-9

О. 12-6

Қ. 13-5

И. 6+5

Қ. 7+5

А. 8+5

З. 9+7

The image features a vibrant green background with soft-focus foliage. A prominent golden, ornate frame with intricate floral and scrollwork patterns surrounds the central text. To the right, a golden vine with large, swirling curls and leaves is superimposed over the greenery. The text is centered within the white space of the frame.

Өткенді пысықтау

«Сыйлық алу» ойыны.





1. Бір жылда неше мезгіл бар?


2. Бір сағатта қанша минут бар?


3. 1 метрде қанша дециметр бар?

4. 3 онд. 8 бірл. Қандай сан?

5. Жүз сан






$$7-2+3$$

$$5-2+4$$


$$6+2+1$$

$$9-3+0$$

$$8+2-1$$

$$9+1-2$$

Жаңа сабақ



Сөзжұмбақ шешу

Т

Ө

Р

Т

Г

Л

О

Б

У

С

А

Ғ

А

Д

Ы

Б

Ы

С

Н

А

У

Р

Ы

З

Сабақтың мақсаты:

1. 9 санын қосу және азайту тәсілдерін қайталау, есептер жайлы білімдерді кеңейте түсу, алған білімізді жүйелеп, жинақтау.
2. Ауызша есептеу мен логикалық есептер арқылы ойлау қабілеттерін, белсенділігін арттыру.

25-қараша

СЫНЫП ЖҰМЫСЫ


Қайталау 9 + -

9

9



«Торт жеу» ойыны



An open antique book with a butterfly on the left page. The book is open to two blank pages. The text is centered on the right page. The book has a gold and red cover with intricate patterns. A butterfly is perched on the left page.

Оқулықпен жұмыс
№ 1

$$X+9=18 \quad 18-X=9$$




Тақтамен жұмыс

№ 2

$$9+a, a=80, 9$$

$$a-9, a=89, 18$$

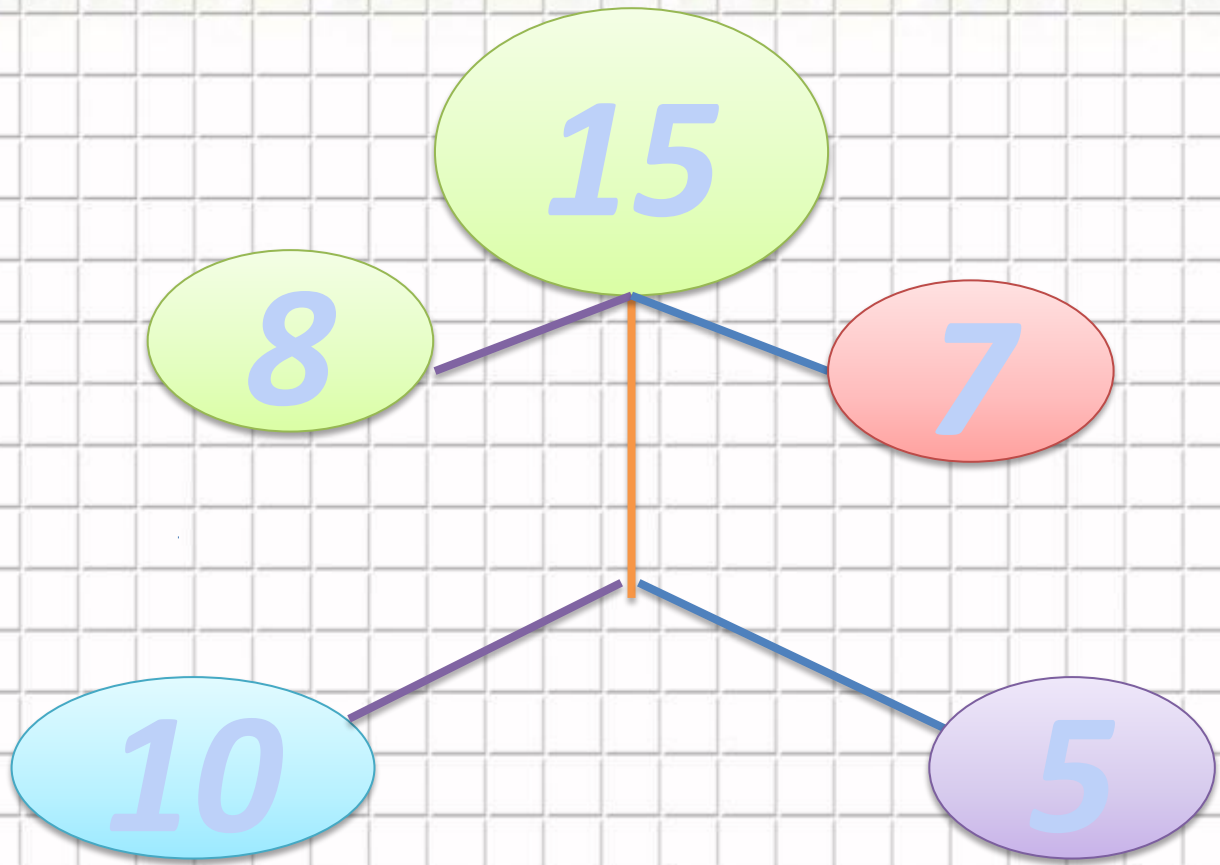
Сергіту сәті

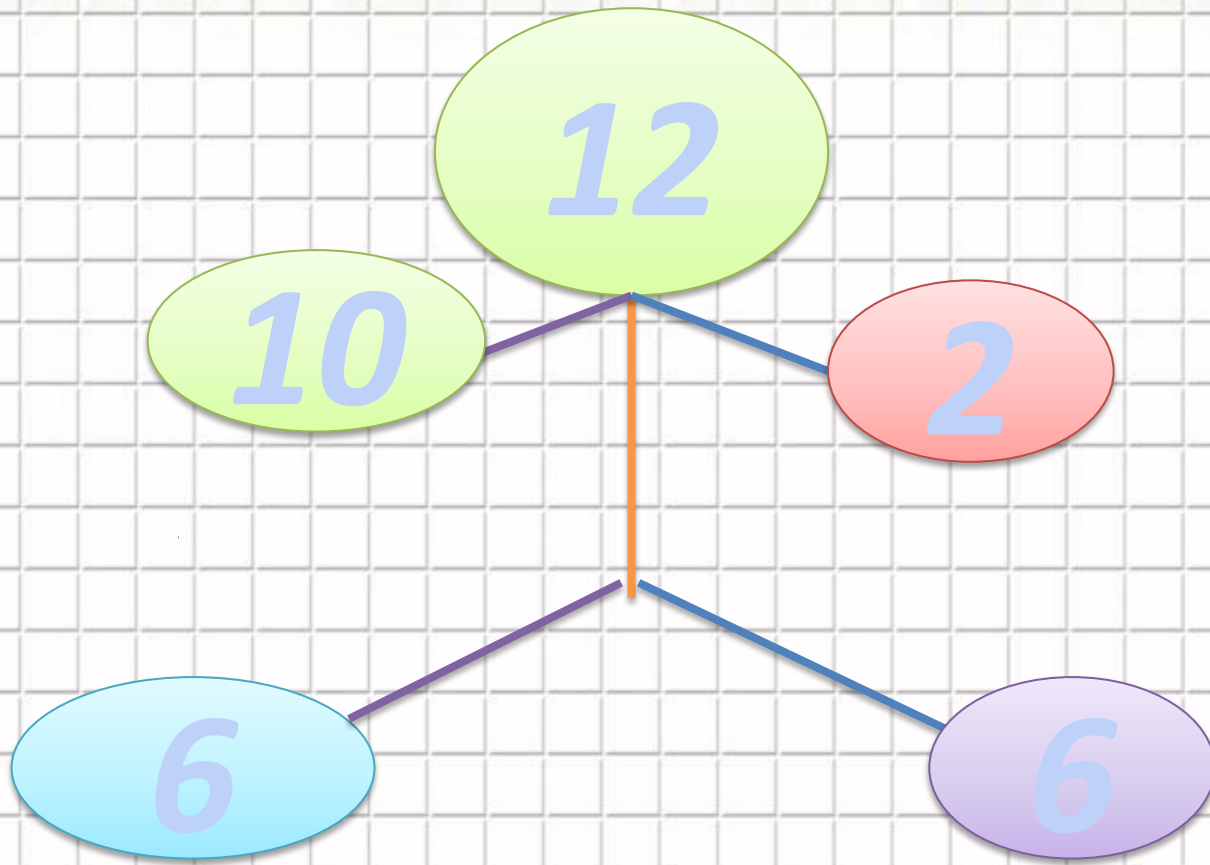


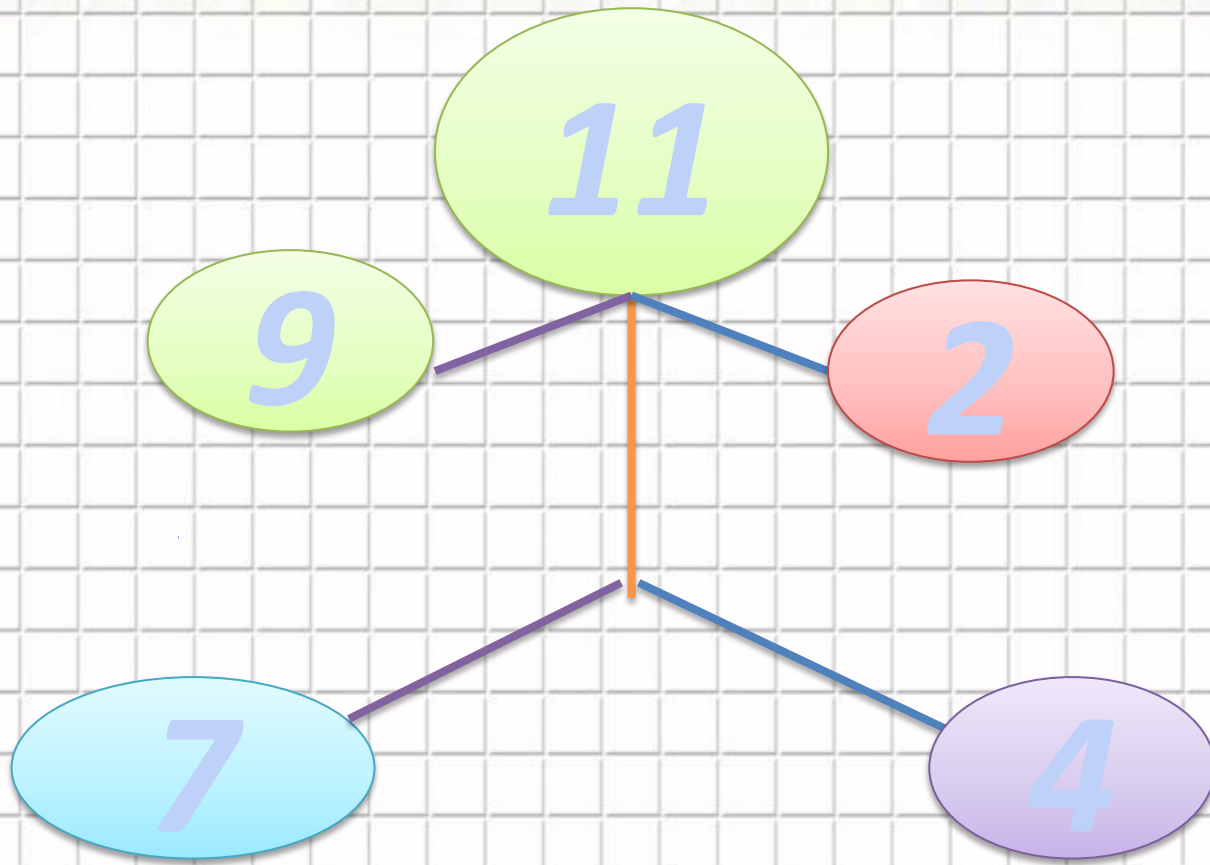
An open antique book with a butterfly on the left page. The book is open to two blank, aged pages. The cover is ornate with gold and red details. A butterfly is perched on the left page. The text is centered on the pages.

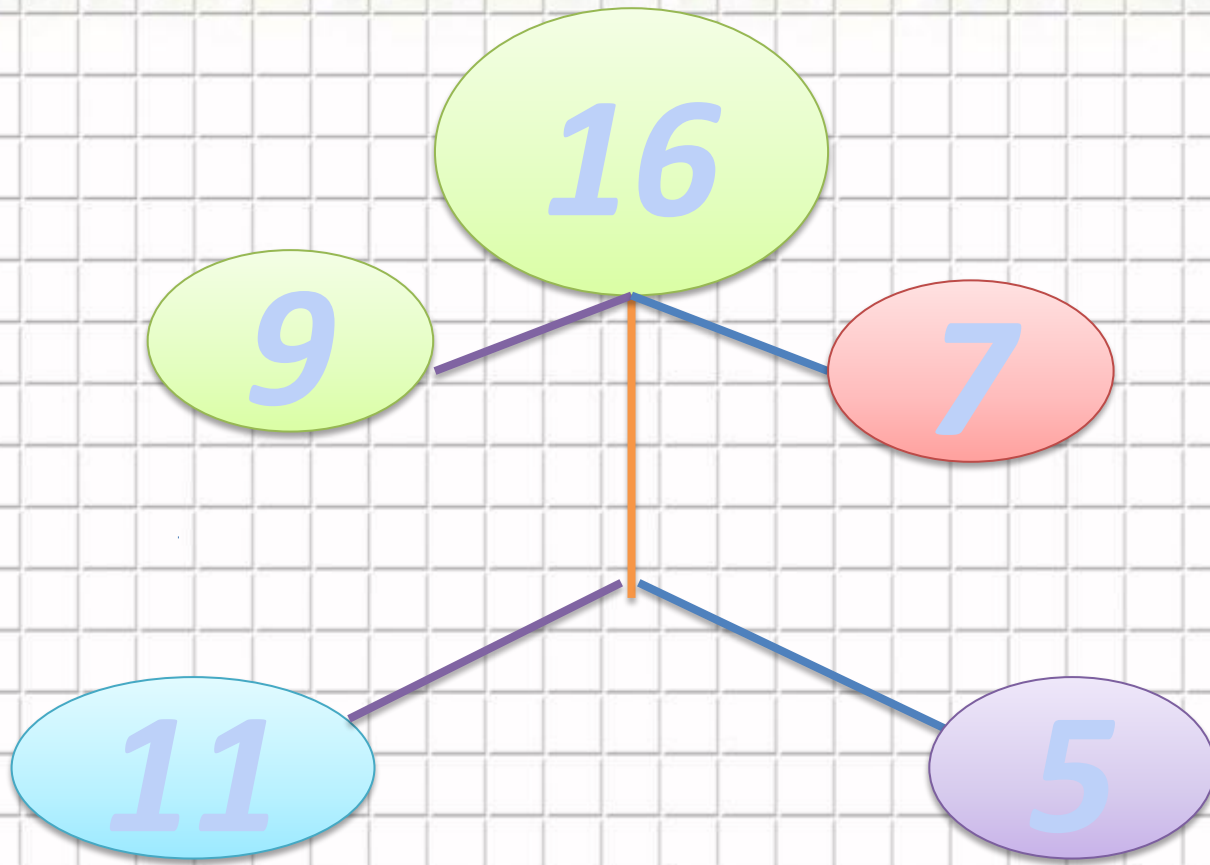
Ауызша тапсырма
« Кім тапқыр! »

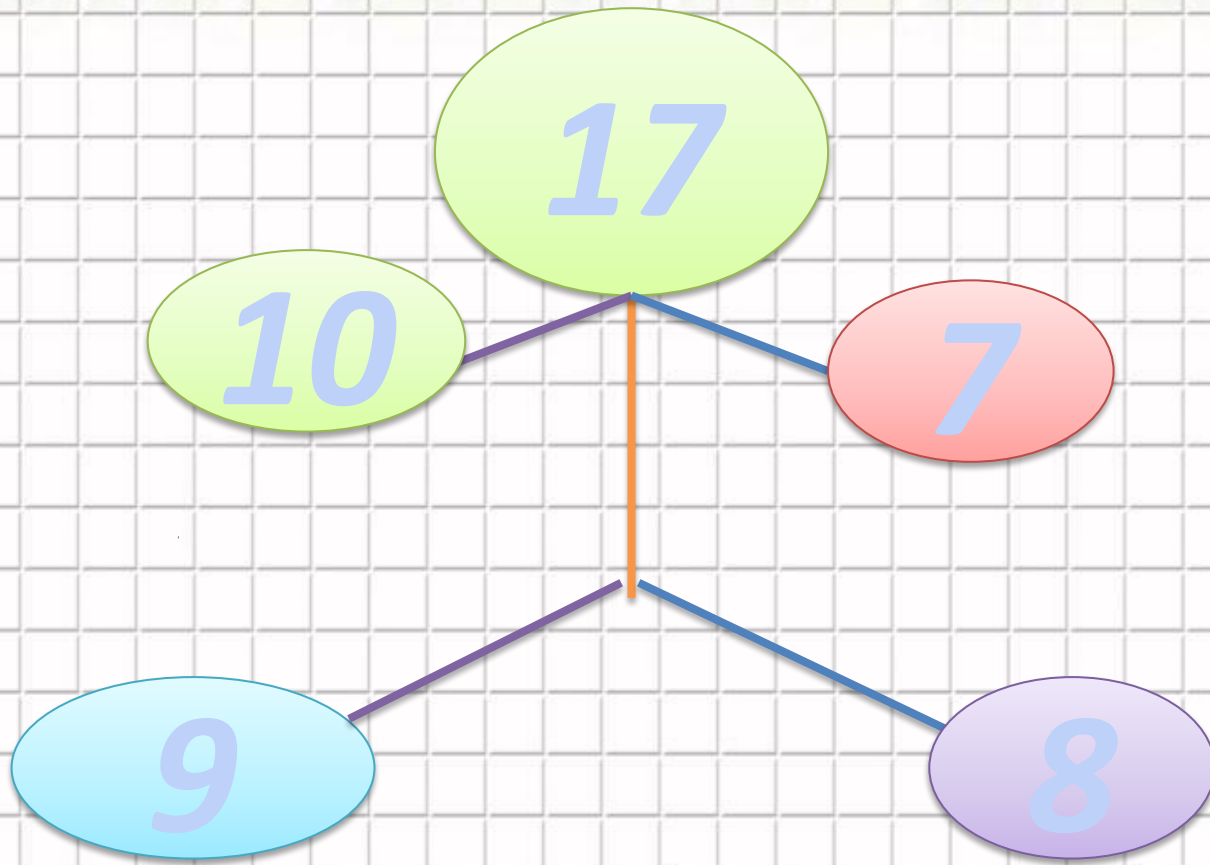


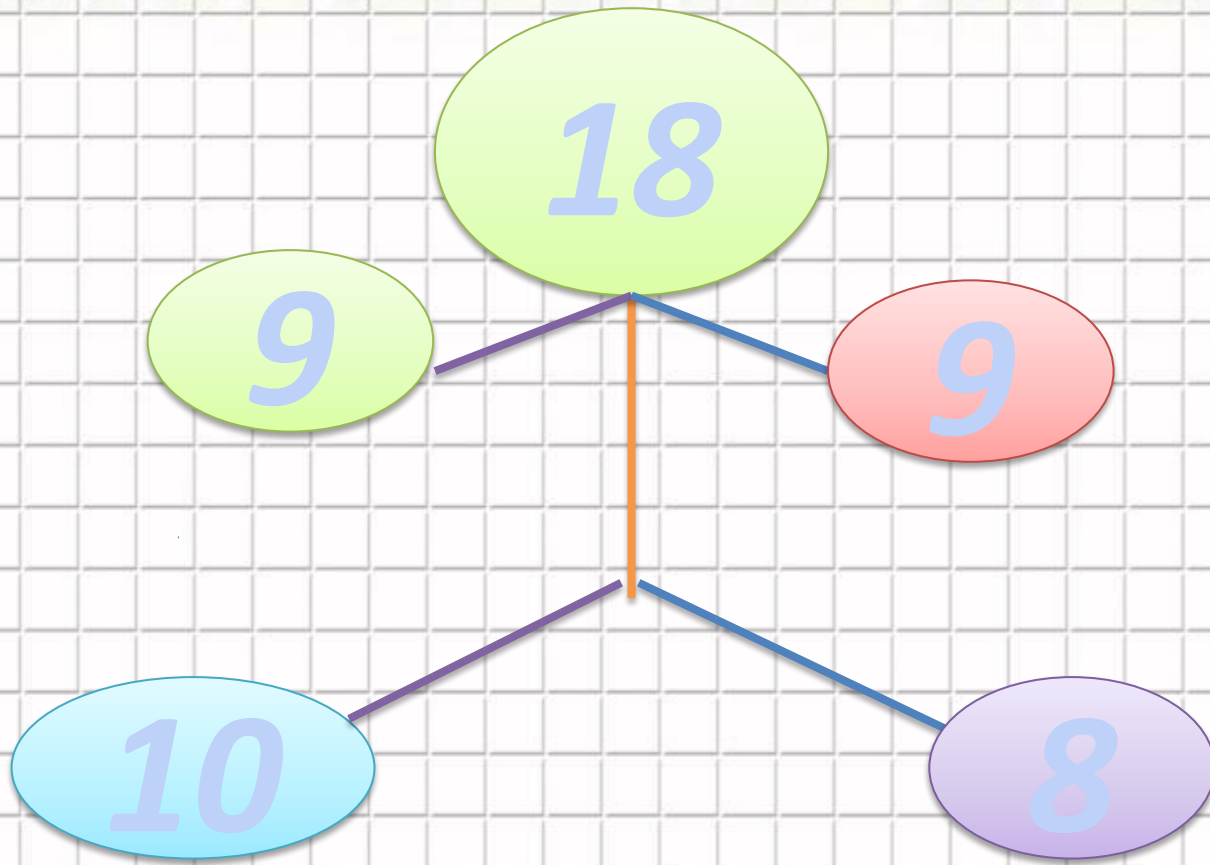


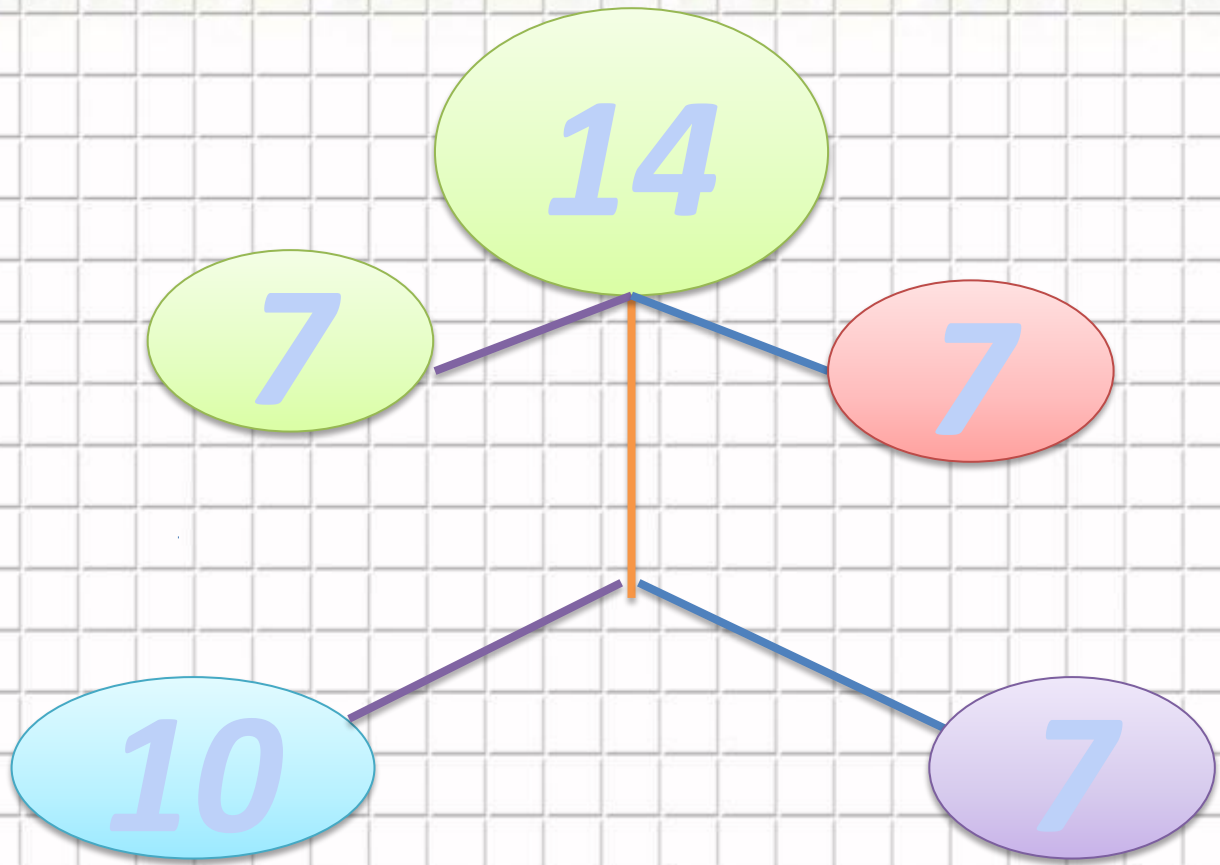


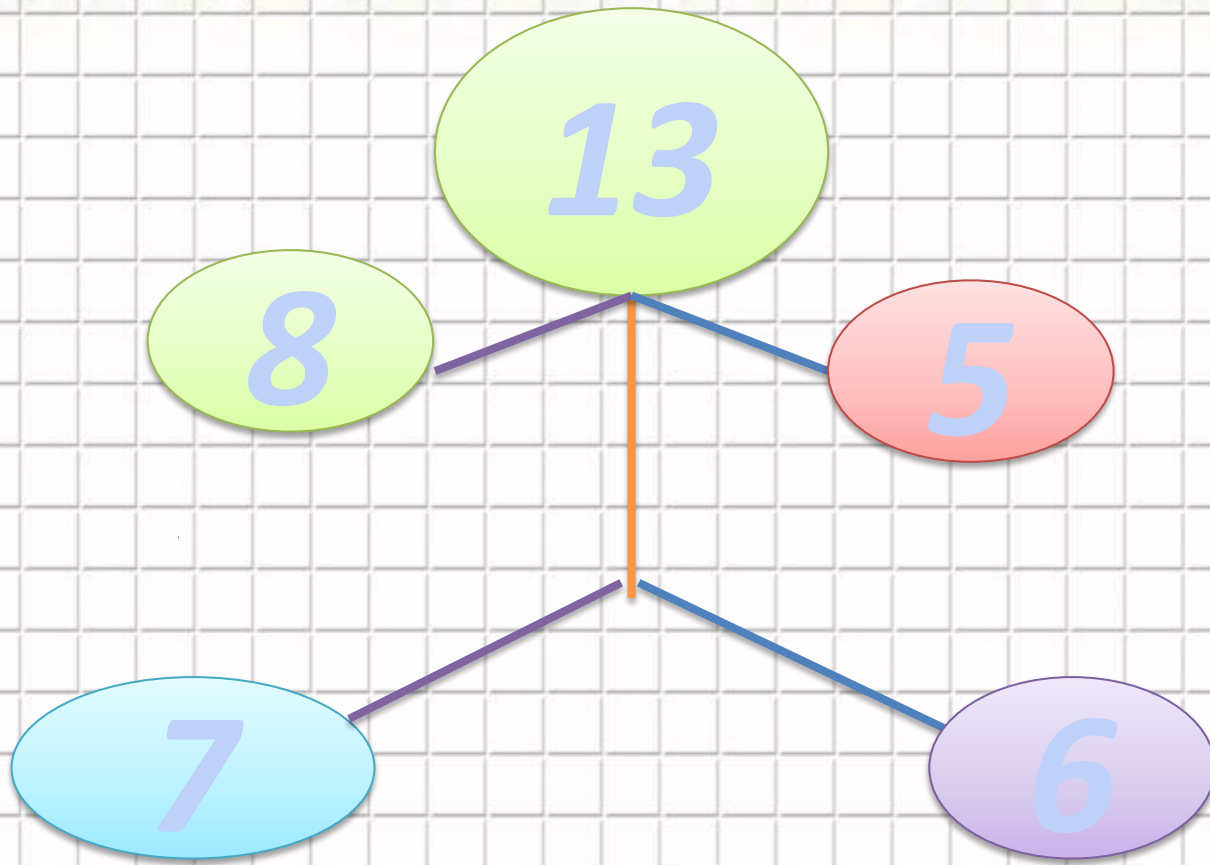












№ 3

Әкелді – 18 м

Қиып алды – 7 +7 м

Қалды - ? м

Шешуі: $7+7 = 14$

$18-14 = 4$

Жауабы: Қалды 4 метр

СЫМ.





Кел ойнайық!

“ОЙЫМДЫ ЖАЛҒАСТЫР”

**Жеті жұрттың тілін біл,
Жеті түрлі білім біл.**

**Білекті бірді жығар,
Білімді мыңды жығар.**

**Жүз сомың болғанша,
Жүз досың болсын.**

**Бір кісі қазған құдықтан,
Мың кісі су ішеді.**

ЛОГИКАЛЫҚ СҰРАҚ

1

Егер тырна бір аяғымен тұрса 3 кг болады, ал екі аяғымен тұрса оның салмағы қанша?

3кг



ЛОГИКАЛЫҚ СҰРАҚ

2

Ағаш басында 2 балық отыр еді. Оларға тағы екі балық ұшып келді. Барлығы неше балық болды?

Балық ұшпайды



«Кім шапшаң!»

Тест орындау



Өзіңді тексер!

1- Ә

2- Б

3- А

4- Ә

5- Ә



Үйге тапсырмасы

85 бет №4, №5



Бағалау

