

Урок математики.1 а класс.


**Знакомство с понятием «в порядке
увеличения (уменьшения)»**


Развивающая система Л.В.Занкова.

Учитель МБОУ «Гимназия (цо)г.Суворова»

Мосина Л.В.





















Лена и Дима сделали чертежи.



Чем похожи чертежи? Чем различаются?
Сравни число лучей и отрезков на каждом чертеже.

В каком порядке построились дети на уроке физкультуры?
Удалось ли им построиться по росту?
Помоги детям построиться по росту. Запиши их номера.



ПРОВЕРЬ СЕБЯ

3 1 5 2 4



Построй

ПРОВЕРЬ СЕБЯ

4 2 5 1 3

номера.

Сравни количество мальчиков и количество девочек.
Напиши равенство или неравенство



ПРОВЕРЬ СЕБЯ

$$3 > 2$$

$$2 < 3$$

На сколько мальчиков больше, чем девочек? Запиши.
На ...



ПРОВЕРЬ СЕБЯ

На 1

Посмотри, в каком порядке расположены матрёшки.




! В порядке УВЕЛИЧЕНИЯ размера
матрёшек.

А теперь в каком порядке расположены матрёшки?



! В порядке УМЕНЬШЕНИЯ их размера.

Сколько ягод на каждой ветке?



Запиши эти числа в порядке увеличения.

ПРОВЕРЬ СЕБЯ

2 4 6 8

2 4 6 8

Сравни любые два числа, стоящие рядом.
Сделай вывод о последующем и предыдущем числах.

Запиши те же числа в порядке уменьшения.

ПРОВЕРЬ СЕБЯ

8 6 4 2

Сравни любые два числа, стоящие рядом.
Сделай вывод.