

**Урок математики в 1 классе**  
**Тема: «Сложение и вычитание  
в пределах 10. Закрепление»**

**Образовательная система:**

**«Перспективная начальная школа»**

**Составитель: Павлова Мария**

**Валерьевна,  
учитель**

5, 3, 9, 7, 1, 8, 10



1 к 30 5л 70 86 90 10 к

# Русская народная сказка

**К**



**К**

**О**

**О**


**Л**

**О**

**Б**

# Задание

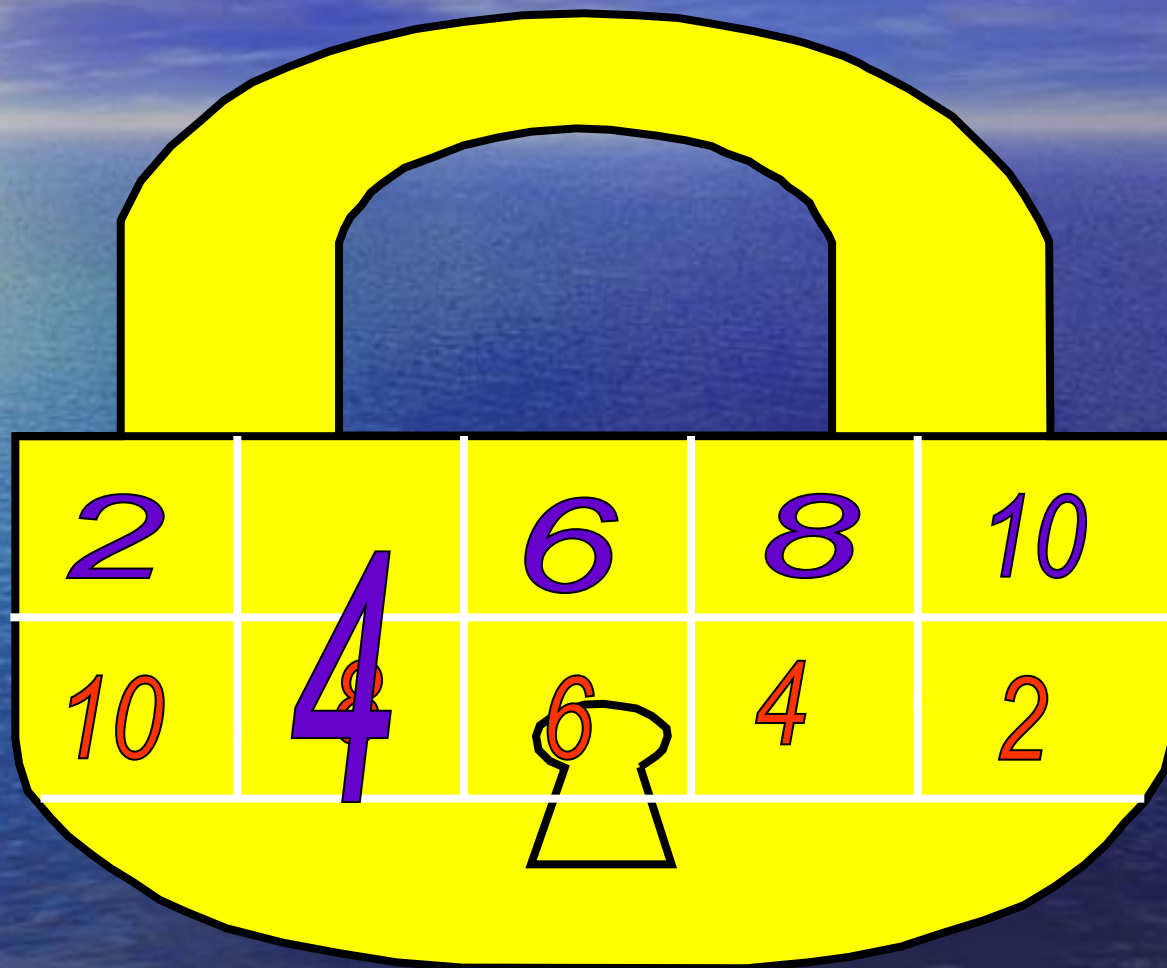
Перед вами выражения



$$10 - 2 =$$

$$5 + 5 =$$





2

4

6

8

10


10

4

6

4

2



**А навстречу ему... Кто?**

Любит морковку, Прыгает так ловко...





# Задание

Выбери равенство, которое соответствует рисунку

а)  $6 + 4 = 10$

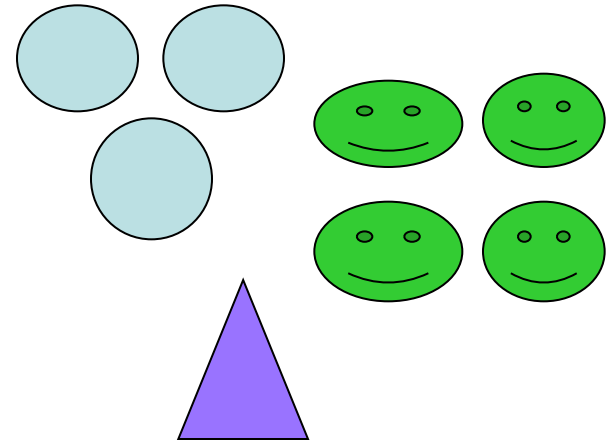
А

б)  $1 + 8 = 9$

Б

в)  $4 + 3 + 1 = 8$

В





Самый лучший друг  
Кто самый хороший  
Его имя не знаю  
Я знаю только  
Самый лучший друг



# Задание


Найди ошибку.

а)  $7 < 6 + 2$

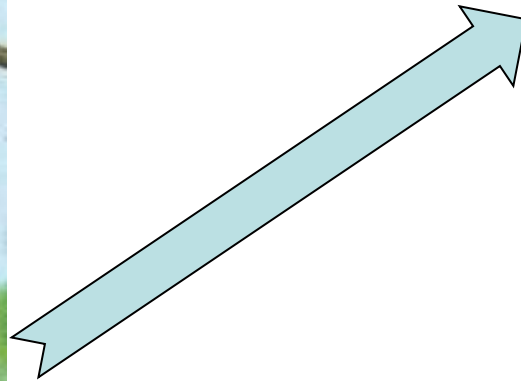
б)  $2 + 5 < 7$

в)  $5 + 3 < 8$





**В банку вмещается 3 л  
мёда , а в ведро 6 л .  
Сколько всего литров  
мёда у медведя?**





# Задача

*Условие задачи*

*Требование задачи*

*Решение задачи*

*Ответ*



Варианты решения:

$$6 - 3 = 3 \text{ (л)}$$

Ответ: 3 литра.

$$3 + 6 = 9 \text{ (л)}$$

Ответ: 9 литров.

$$6 + 3 = 9 \text{ (л)}$$

Ответ: 9 литров.

**Хитрая плутовка,  
Рыжая головка,  
Пушистый хвост-краса,  
Кто же это?...**







МОЛОДЦЫ! СПАСЛИ КОЛОСКИ!

