



Окружающий мир 4 класс
умк «Планета знаний»

Тема: «История на карте»

Подготовила учитель начальных классов

МОУ Игнатовской СОШ

Майнского района, Ульяновской области

Кувшинова Светлана Валерьевна




Проверка домашнего задания

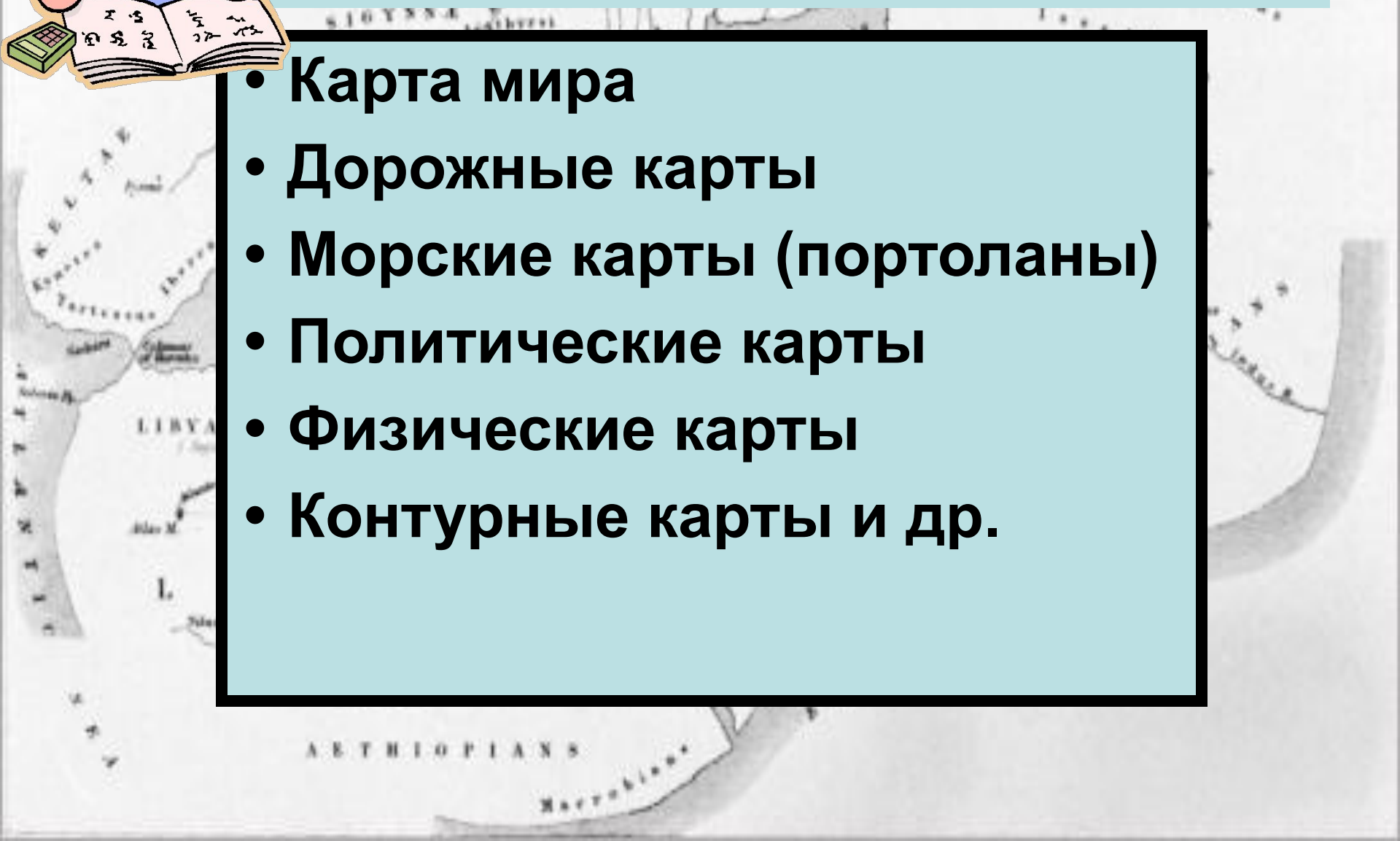
-Какие экологические проблемы существуют в России?

- Как они решаются?

Виды карт



- Карта мира
- Дорожные карты
- Морские карты (портоланы)
- Политические карты
- Физические карты
- Контурные карты и др.





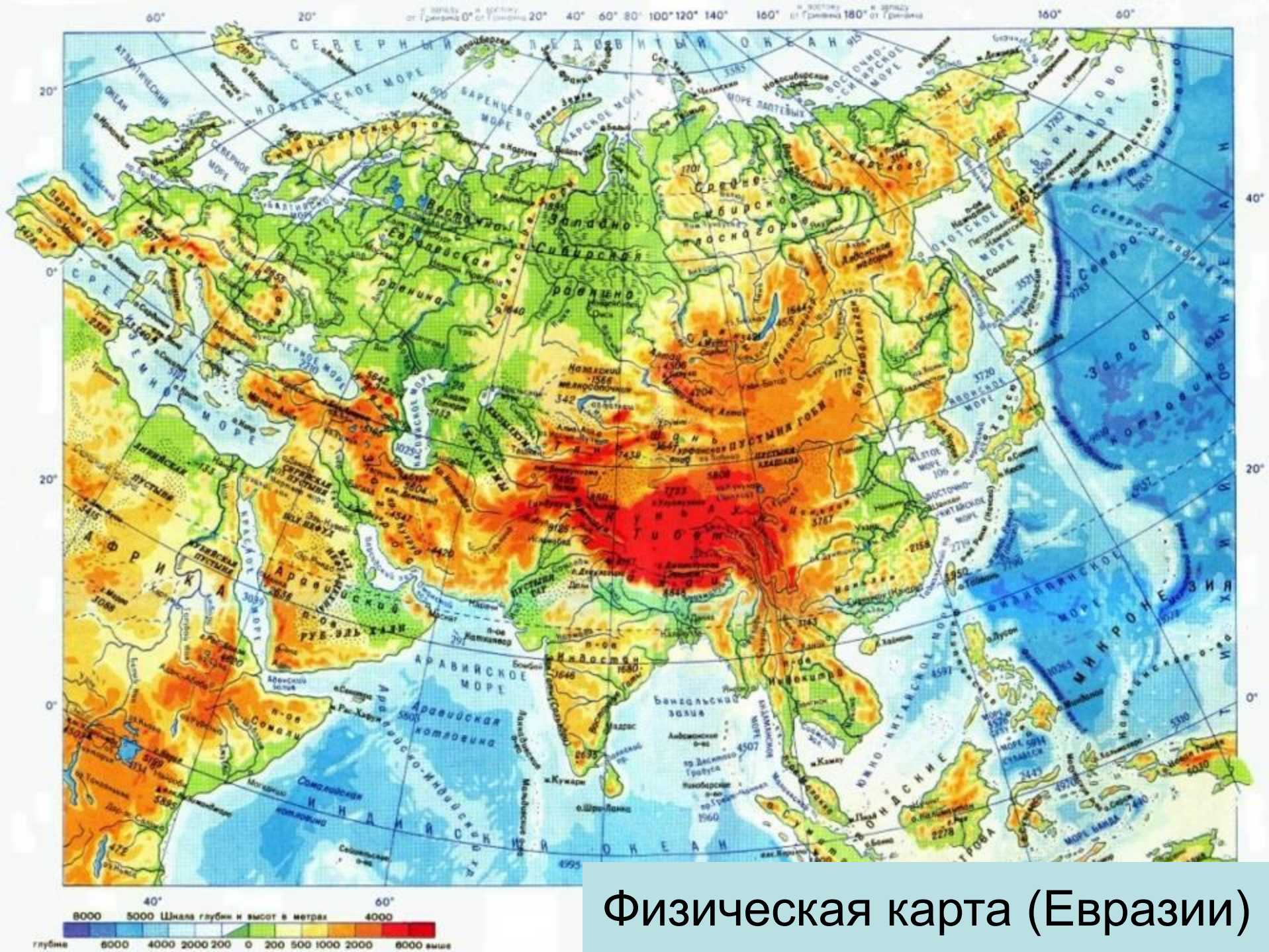
Политическая карта мира



Дорожная карта
(автомобильных дорог)



Морская карта (Черное море)




Физическая карта (Евразии)

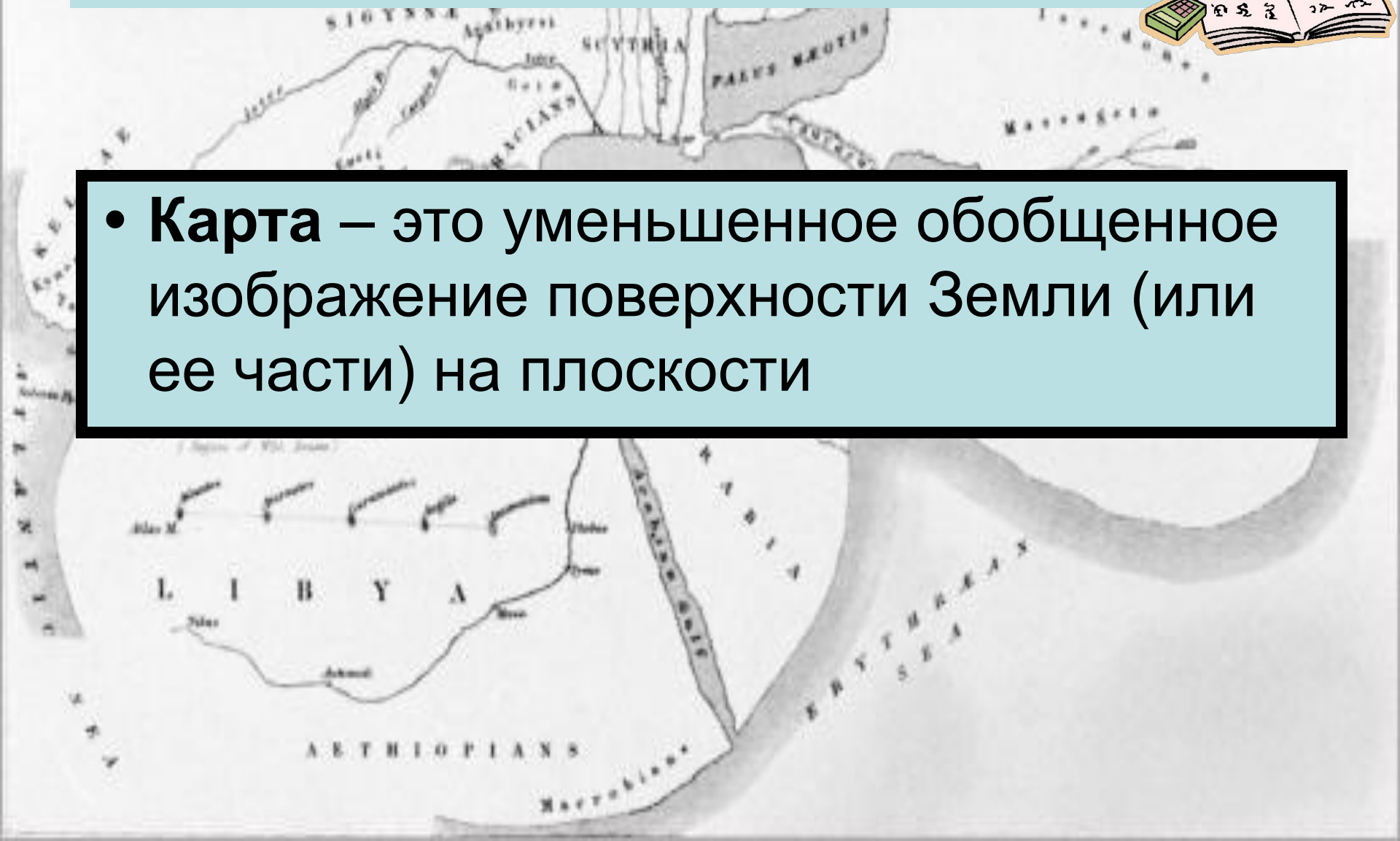
Контурная карта




Что такое карта?



- **Карта** – это уменьшенное обобщенное изображение поверхности Земли (или ее части) на плоскости



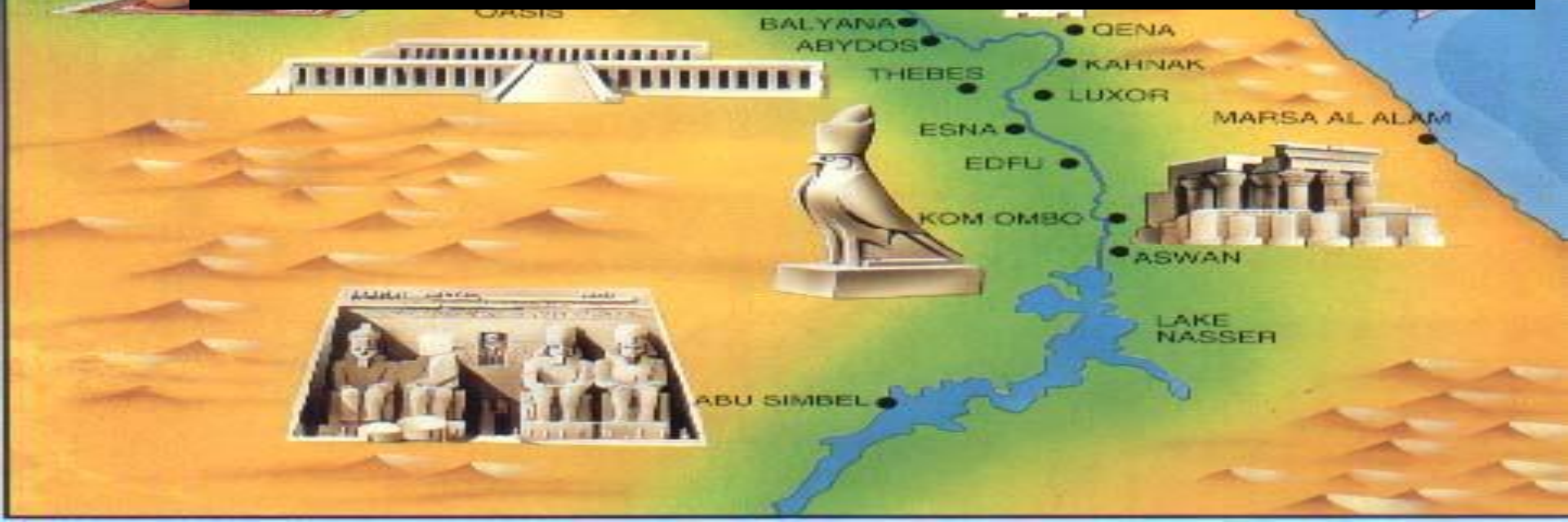
Особенности карт



- **Масштаб** – численное соотношение реальности и изображения (1: 100.000, 1 см=1 км)
- **Легенда карты** – табличка у края карты с условными обозначениями
- **Надписи и географические названия**



Историческая карта



Историческая карта





Историческая карта





- **Исторические карты** – это карты по истории разных народов, государства, рассказ о событиях в прошлом.



Особенности исторической карты

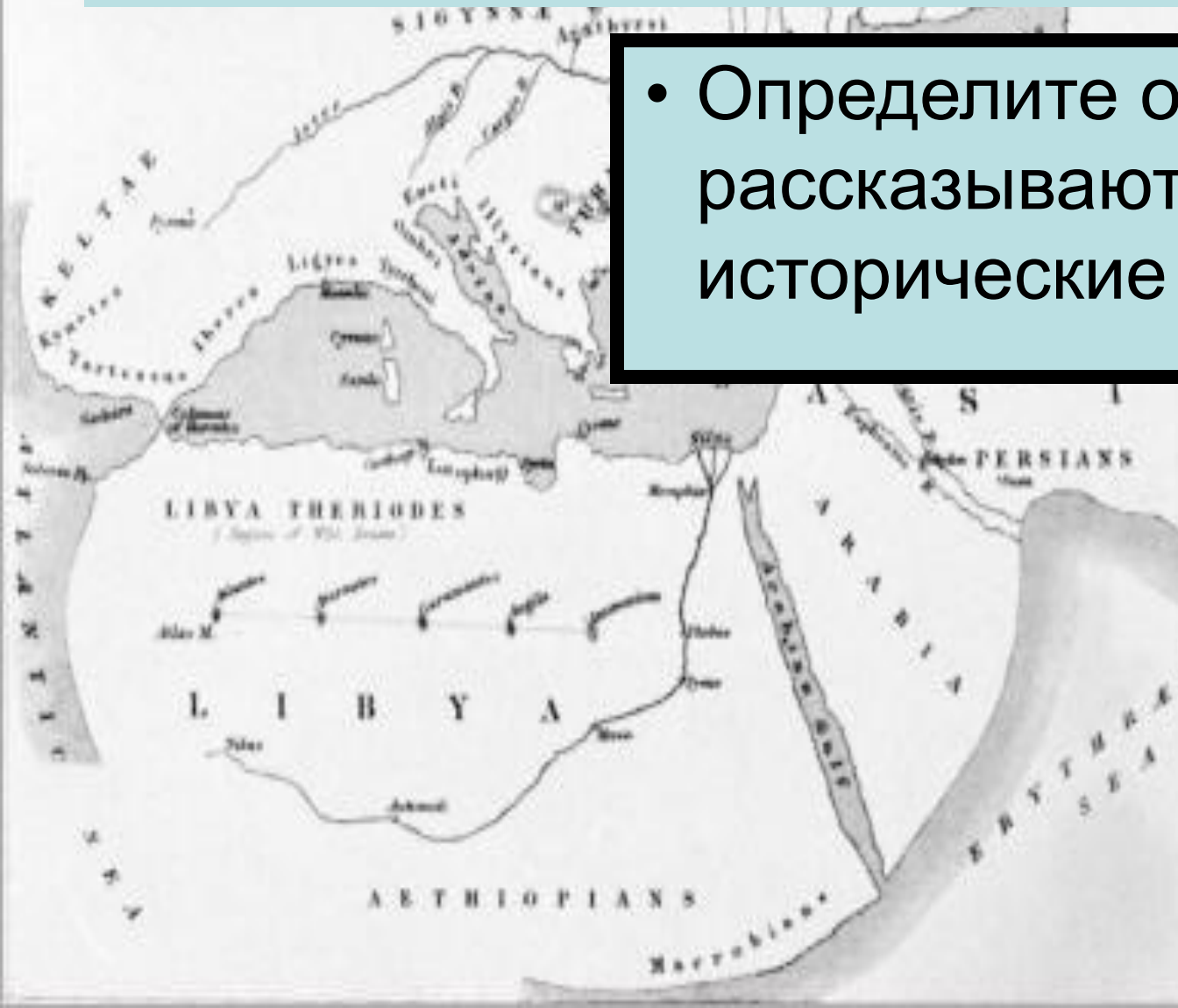
- Черный шрифт – города
- Голубой шрифт – все водоемы
- Кружочек – город
- Границы государства определенным цветом
- Штрихи или цвет определенный - завоеванные территории
- Скращенные мечи – места сражений
- Стрелки – направления походов
- Скопление точек – места восстаний



	Владения Карфагена к началу войны	<u>Места и годы других важнейших сражений, выигранных:</u>
	Территория Римской республики к началу войны	X 207 карфагенянами
	210 Направления и годы походов римлян	X 207 римлянами
	203 Направления и годы походов карфагенян	 Осада городов римлянами
		 Территория, захваченная римлянами в результате 2-й Пунической войны
		X 216 Битва при Каннах

Выполним задание

- Определите о чем рассказывают нам эти исторические карты



Проверка

1. В каких городах проходили сражения?
2. Какая крепость изображена на карте?
3. Какие народы проживали на территории Российской империи?
4. Как на карте показан район восстания?
5. Как показан поход восставших?



Работа с учебником. С.6





Итог урока.

•- Я повторил

•- Я узнал

•- Я научился

Домашнее задание

С. 6 – 7, читать

С. 3 – 4, тетрадь

