

# УРОК-ПУТЕШЕСТВИЕ



Математика  
1 класс



Угадайте загадку



Что ж пора в путь!

путешествовать по  
замечательной  
стране – Математике!

И в лесу, заметьте, дети,  
Есть ночные сторожа.  
Сторожей боятся этих  
Мыши, прячутся, дрожа!



В этой стране  
живут мои  
друзья!



Назовите эти числа в  
порядке увеличения,  
а потом в порядке  
уменьшения.



8

4

1

9

7


2

5


10

3


6



# Начерти Вспомни







Какие бывают  
ЛИНИИ?



Какие фигуры вы видите на слайде? ○ ○ ○





**РАБОТАЕМ**

**С УЧЕБНИКОМ**

страница 67



1

2

3

4

5



**РАБОТАЕМ**

**С УЧЕБНИКОМ**

страница 70



$$7 + \boxed{1} = 8$$



$$6 - \boxed{1} = 5$$

$$9 + \boxed{0} = 9$$

$$8 - \boxed{0} = 8$$




$$3 + \boxed{2} = 5$$

$$5 - \boxed{1} = 4$$



**Молодцы!**

**Пришло  
время  
отдохнуть!**





Потянулся.  
Раз - нагнулся.

Два - прогнулся.

Руки в стороны  
развёл.

Видно, ключик не  
нашёл.

Чтобы ключик нам  
достать,

Нужно на носочки  
встать.

**ЛОВИ**

**ОШИБКУ!**

$$2 + 2 = 4$$

~~$$3 - 1 = 1$$~~


~~$$2 + 3 = 4$$~~

$$4 - 1 = 3$$

# Шепталочка

Вариант 1

2




3

5 3

4

6-2


1



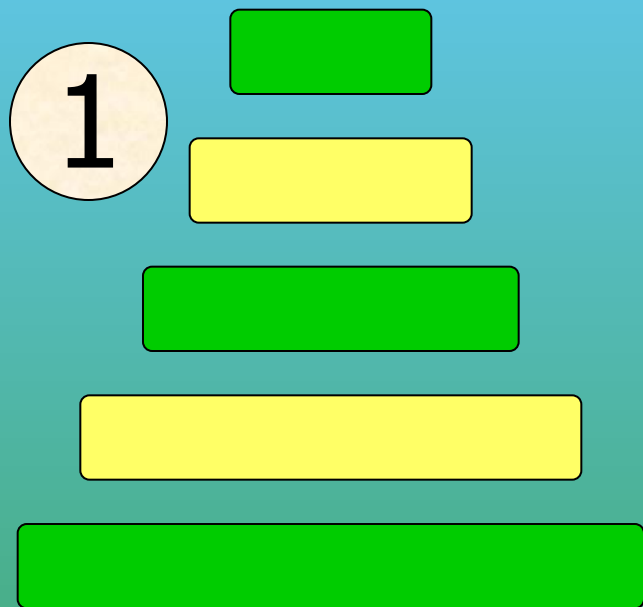
# Шепталочка

Вариант 2

2



1




3


2 6

4

5-4







$$2 < 4$$

РАБОТАЕМ

В ТЕТРАДИ

страница 19








Пока!

Успехи

Вот и подошло к концу  
наше увлекательное  
путешествие в страну  
Математику.  
Мои друзья прощаются  
с вами

До новых  
встреч!

*Желаем Вам хорошо научиться считать,  
Делить, умножать, прибавлять, вычитать.*



*Запомните все, что без точного счета  
Не сдвинется с места любая работа!*



МАТЕМАТИКА