



Презентация к уроку математики в 3 классе вспомогательной школы

Тема урока:

«Сложение и вычитание в пределах 10»




План урока

1. Устный счет


2. Задача

3. Геометрические фигуры





Тренажёр «Снегопад»



$$3 + 1 = 4$$



$$5 - 2 =$$



$7 + 2 =$

9



$$8 - 8 = 0$$




$$6 + 0 =$$





Задача






Сидело - 7



Улетело - 3




Осталось - ?



$$1) 7 \text{ с.} - 3 \text{ с.} = 4 \text{ с.}$$

Ответ: 4 снегиря.





4





У какой фигуре она?

Правильно!



треугольник


Правильно!



квадрат



круг



Сколько клеточек сторона квадрата?
Посчитай

