

Математика

1 класс

$$2+2=4$$




- - **Итак, друзья, внимание –
Вновь прозвенел звонок.
Садитесь поудобнее –
Сейчас начнем урок!**



27.02.2017

Сравни фигуры, раздели их на
2 группы.



27.02.2017

MACCA



27.02.2017



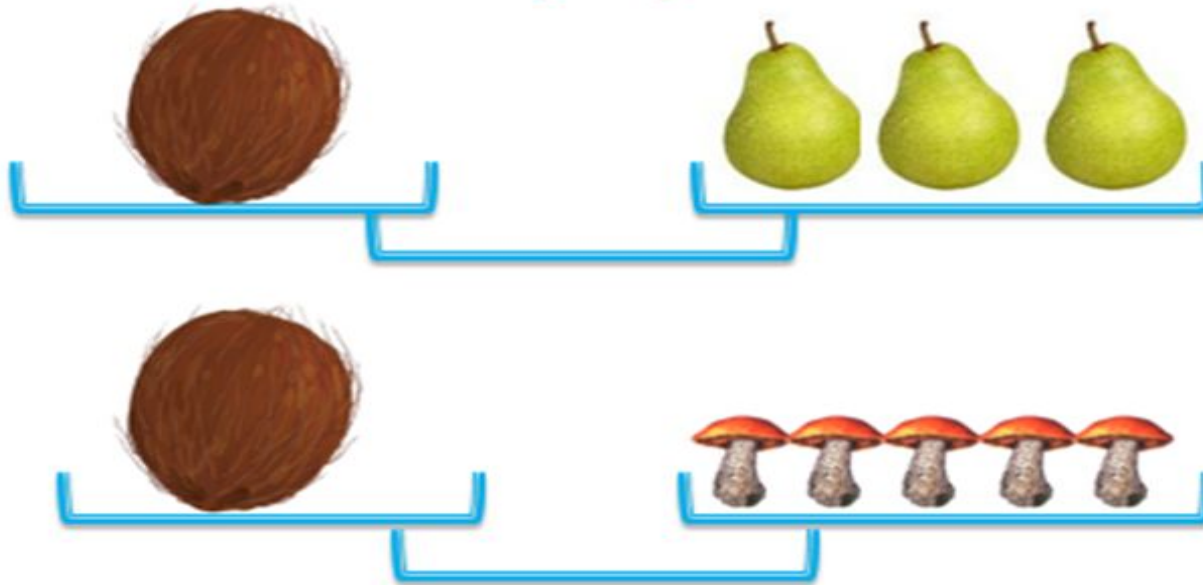
27.02.2017

<http://aida.ucoz.ru>

Вывод:

- ▣ **Величина – это то, что можно измерить, и результат измерения выразить числом.**

Найди массу ореха



• Орех = 3 груши

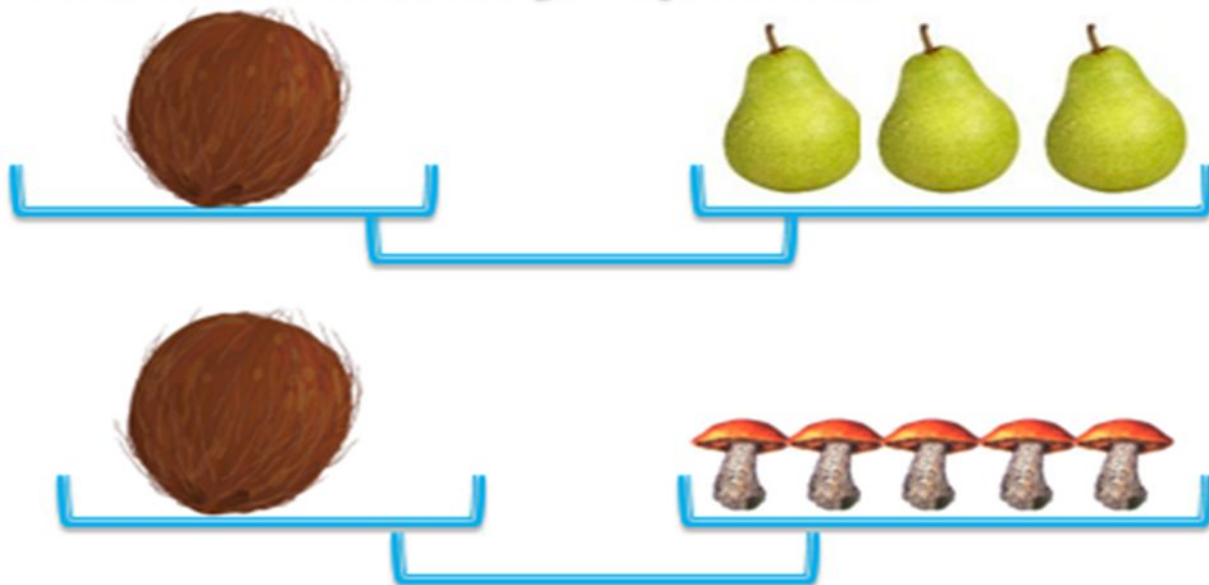
• Орех = 5 грибов



27.02.2017

<http://aida.ucoz.ru>

Найди массу ореха



- 3 груши = 5 грибов
- $3 < 5$



27.02.2017


Вывод:

- Чтобы измерить величину, надо выбрать мерку и узнать, сколько раз она содержится в измеряемой величине.**


МАССА

- КИЛОГРАММ

- Кг



27.02.2017



Я > Г



О = Л



А < Б

Кто тяжелее – Медведь или Колобок?



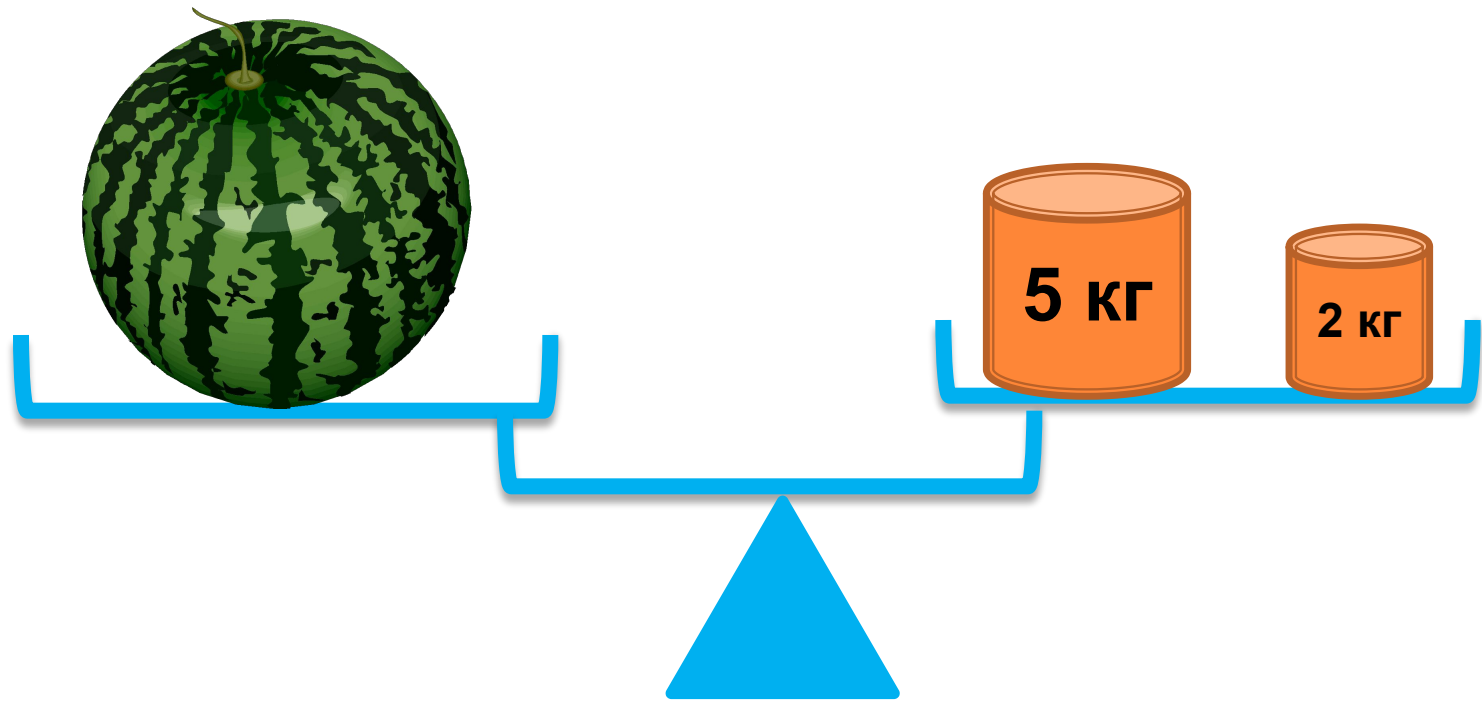
Кто легче – Нюша или Крош?

**Нас нужно
взвесить!**



**Вам
потребуется
весы**

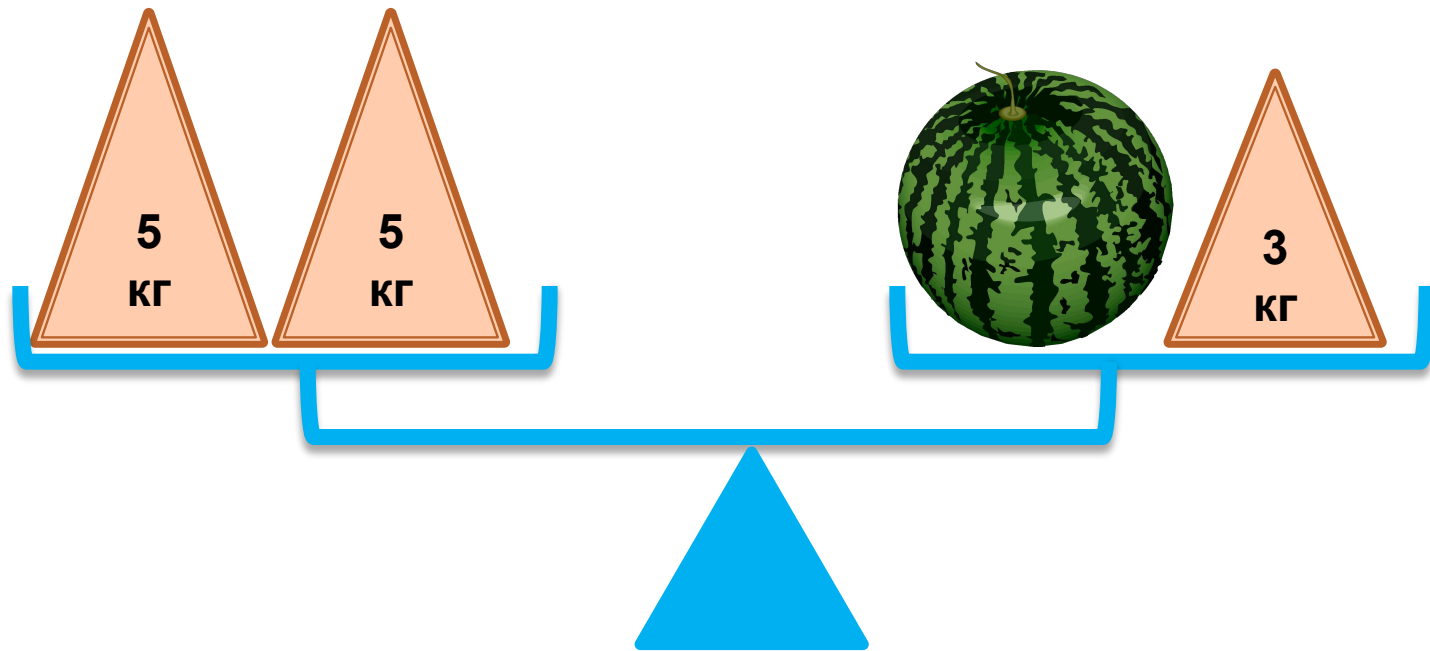


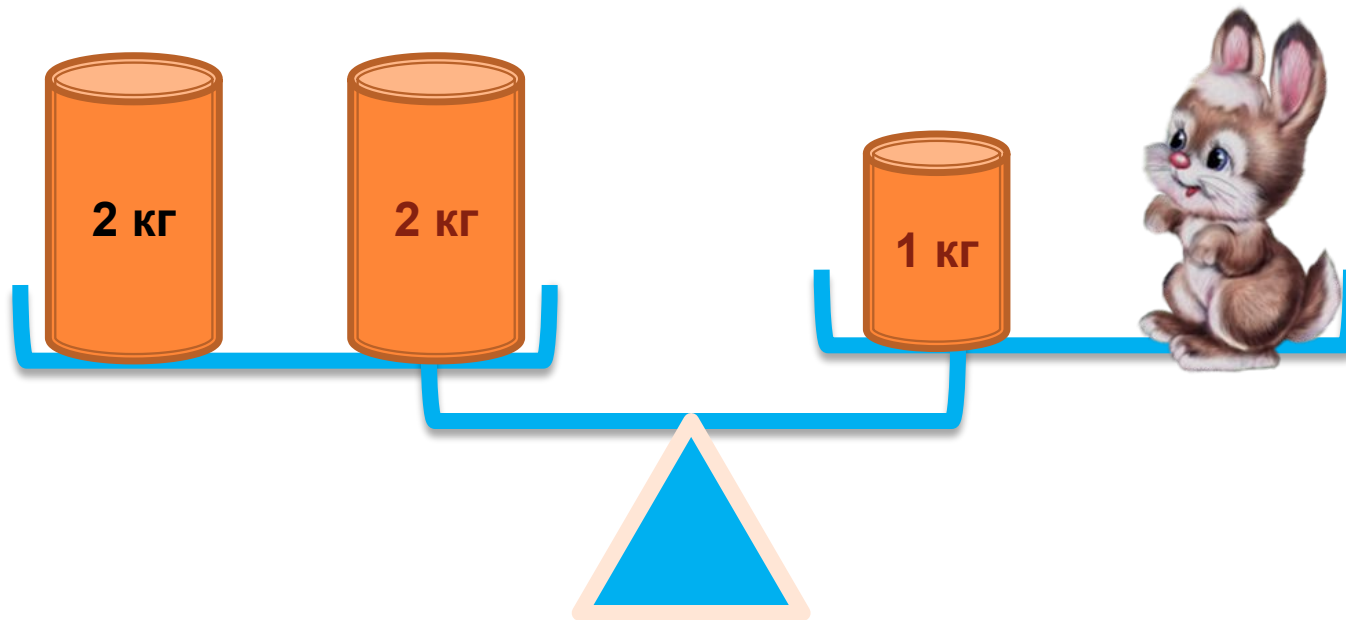


$$5 \text{ кг} + 2 \text{ кг} =$$

Масса арбуза - _____ килограммов

НАЙДИТЕ ВЕС АРБУЗА





Сколько весит зайчик?

$$2 \text{ кг} + 2 \text{ кг} = 1 \text{ кг} + \text{ЗАЙЧИК}$$

$$4 \text{ кг} = 1 \text{ кг} + \text{ЗАЙЧИК}$$

$$\text{ЗАЙЧИК} = 4 \text{ кг} - 1 \text{ кг}$$

$$\text{ЗАЙЧИК} = 3 \text{ кг}$$

Зайчик весит 3 кг

**Масса кошки 3 кг. А собака весит на 2 кг больше, чем кошка .
Сколько весит собака?**



$$3 \text{ кг} + 2 \text{ кг} = 5 \text{ кг}$$

Ответ: собака весит 5 кг

ПОДУМАЙ:

- Индюк весит 10 кг. Сколько он будет весить, если встанет на одну ногу?



ПОДУМАЙ:

- ▣ В большом ящике лежало 12 кг муки, а в маленьком пакете 12 кг гвоздей. Какой ящик тяжелее?



Итог урока:

Нынче на уроке в классе
Все узнали мы о массе.
Знаю я, ты, он, она:
Масса есть величина.
И совсем это не сложно,
И уже нельзя забыть,
Что измерить массу можно,
И, коль захотим, сравнить.