

**ЗАДАЧИ  
ПО МАТЕМАТИКЕ  
ДЛЯ 4 КЛАССА (ЧАСТЬ 3)**

**ПОДГОТОВИЛА УЧИТЕЛЬ НАЧАЛЬНЫХ КЛАССОВ**

**МАКАРЕНКО ЮЛИЯ ФЕДОРОВНА**



**СКОЛЬКО МЕСЯЦЕВ В ГОДУ ИМЕЮТ  
28 ДНЕЙ?**

**ВСЕ МЕСЯЦЫ**

**СОБАКА БЫЛА ПРИВЯЗАНА К  
ДЕСЯТИМЕТРОВОЙ ВЕРЕВКЕ, А  
ПРОШЛА ПО ПРЯМОЙ ДВЕСТИ  
МЕТРОВ. КАК ЕЙ ЭТО УДАЛОСЬ?**

**ЕЁ ВЕРЕВКА НЕ БЫЛА НИ К ЧЕМУ ПРИВЯЗАНА**

# ЧТО МОЖНО ВИДЕТЬ С ЗАКРЫТЫМИ ГЛАЗАМИ?

СНЫ

КОСТЬ,  
И



И=а

КИСТОЧКА



9999

+

ИН

+

,



ЛИНЕЙКА



**ДОСКА**

**У СОРОКОНОЖКИ 90 НОЖЕК. ОНА КУПИЛА 13  
ПАР САПОЖЕК. НО ПРИ ЭТОМ 16 НОГ  
ОСТАЛИСЬ БОСЫМИ.  
СКОЛЬКО ПАР СТАРЫХ САПОЖЕК БЫЛО НА  
СОРОКОНОЖКЕ ДО ПОКУПКИ НОВЫХ  
САПОЖЕК?**

**24**



**НА СТОЛЕ ЛЕЖИТ 1 АПЕЛЬСИН. ЕГО  
РАЗРЕЗАЛИ НА 2 ЧАСТИ, СКОЛЬКО  
АПЕЛЬСИНОВ ЛЕЖИТ НА СТОЛЕ?**

**1, РАЗРЕЗАННЫЙ.**

**ПОСЧИТАТЬ, СКОЛЬКО ЛЮДЕЙ В  
СЛЕДУЮЩЕЙ СТРОКЕ: ТЫ ДА Я, ДА  
МЫ С ТОБОЙ**

**2**

# КАКИЕ КАМНИ ЕСТЬ В МОРЕ?

МОКРЫЕ

# **ПО ЧЕМУ СОБАКА БЕГАЕТ?**

**ПО ЗЕМЛЕ/ ПО ПОЛУ.**

**КАКОЙ ГОД ПРОДОЛЖАЕТСЯ ВСЕГО  
ОДИН ДЕНЬ?**

**НОВЫЙ**

**КОГДА АВТОМОБИЛЬ ЕДЕТ, КАКОЕ  
КОЛЕСО У НЕГО НЕ КРУТИТСЯ?**

**ЗАПАСНОЕ**

**ДЛИНА КИТА 33 МЕТРА, ЧТО В 11 РАЗ  
БОЛЬШЕ ДЛИНЫ ТЮЛЕНЯ.**

**НАЙДИТЕ ДЛИНУ ТЮЛЕНЯ?**



**МАССА АФРИКАНСКОГО СТРАУСА 90 КГ, А  
МАССА ИМПЕРАТОРСКОГО ПИНГВИНА В 2  
РАЗА МЕНЬШЕ, ЧЕМ МАССА СТРАУСА.  
КАКОВА МАССА ИМПЕРАТОРСКОГО  
ПИНГВИНА?**






**ЖИРАФ НА 1М 80 СМ ВЫШЕ САМОГО  
КРУПНОГО СЛОНА.**

**ВЫСОТА СЛОНА 4 М И ВЕС 7 Т 500 КГ.**

**МАССА СЛОНА В 10 РАЗ  
БОЛЬШЕ, ЧЕМ У ЖИРАФА.  
НАЙТИ ВЫСОТУ И МАССУ  
ЖИРАФА.**



3  
E  
I  
C  
E  
5  
2  
0





КА  
И  
М  
СА  
ВЕ  
СТ






СКАЗКА - C + y =

**УКАЗКА**

1 2 3 4 5




**ПАПКА**

**3=1**

**2=5**

П = Р



Л = Н ?

**РАНЕЦ**



**ТРИ ТЕЛЕНКА, СКОЛЬКО БУДЕТ НОГ?**

**СКОЛЬКО НЕ ТРИ - У НЕГО БУДЕТ 4 НОГИ**

**ЧТО НУЖНО СДЕЛАТЬ, ЧТОБЫ РЫБА  
ЛОСОСЬ ПРЕВРАТИЛАСЬ В  
ЖИВОТНОЕ?**

**УБРАТЬ «СО»**

**КУДА МЫ БОЛЬШЕ ВСЕГО ХОДИМ?**

**ВПЕРЕД**

**В ПОЛЕ РАБОТАЛИ 5 ТРАКТОРОВ. 2  
ТРАКТОРА СЛОМАЛИСЬ И  
ОСТАНОВИЛИСЬ. СКОЛЬКО  
ТРАКТОРОВ В ПОЛЕ?**

**5, Т.К. УЧИТЫВАЮТСЯ ВСЕ ТРАКТОРЫ, И РАБОЧИЕ, И  
СЛОМАННЫЕ.**

**САША СИДИТ В САМОЛЕТЕ. ВПЕРЕДИ  
НЕГО МАШИНА, СЗАДИ – ЛОШАДЬ.  
ГДЕ НАХОДИТСЯ САША?**

**КАТАЕТСЯ НА КАРУСЕЛИ.**

**МОЖЕТ ЛИ СТРАУС НАЗЫВАТЬ СЕБЯ  
ПТИЦЕЙ?**

**НЕТ, НЕ МОЖЕТ. СТРАУСЫ НЕ УМЕЮТ РАЗГОВАРИВАТЬ.**

**ЧТО НЕ МОЖЕТ ПОМЕСТИТЬСЯ ДАЖЕ  
В САМУЮ БОЛЬШУЮ КАСТРЮЛЮ?**

**ЕЕ КРЫШКА.**

**КОГДА ЦИФРА «2» ОЗНАЧАЕТ «10»?**

**НА ЦИФЕРЬБАТЕ ЦИФРА «2» СООТВЕТСТВУЕТ «10 МИНУТАМ».**



# **КОГДА ЧЕРНОЙ КОШКЕ ЛУЧШЕ ВСЕГО ПРОБРАТЬСЯ В ДОМ?**

**КОГДА ДВЕРЬ ОТКРЫТА**

**МАЛЕНЬКИЙ, СЕРЕНЬКИЙ НА СЛОНА  
ПОХОЖ. КТО ЭТО?**

**СЛОНЁНОК**

**НА КАКОЙ ВОПРОС НЕЛЬЗЯ ОТВЕТИТЬ  
«ДА»?**

**ТЫ СПИШЬ?**

**ДЛИНА ЗЕМЛЕРОЙКИ РАВНА 9 СМ, А  
ДЛИНА ВЫДРЫ В 10 РАЗ БОЛЬШЕ,  
ЧЕМ ДЛИНА ЗЕМЛЕРОЙКИ. СКОЛЬКО  
СМ ДЛИНА ОБЕИХ ЖИВОТНЫХ?**

**9\*10=90(СМ)- ДЛИНА ВЫДРЫ**

**90+9=99(СМ)**

**ОТВЕТ: 99 СМ ДЛИНА ОБЕИХ ЖИВОТНЫХ.**

~~о~~

””

~~лк~~



А



Т



**КЛАВИАТУРА**



””





ТТТ

Т



ТЬ

ХО



,

К

