


Уменьшаемое. Вычитаемое.



Что можете сказать об этих рядах?

**1 2 3 4 6 7 8 9 ...**

**1 2 3 4 5 6 7 8 9 ...**





$$4 + 2 = 6$$

$$8 - 3 = 5$$

$$6 - 1 = 5$$

$$3 + 2 = 5$$

$$5 - 1 = 4$$



$$8 - 3 = 5$$



$$5 - 1 = 4$$



Какие из данных равенств могут подойти к рисункам?

$$7 = 7$$

$$5 = 5$$

$$2 + 5 = 7$$

$$7 - 2 = 5$$

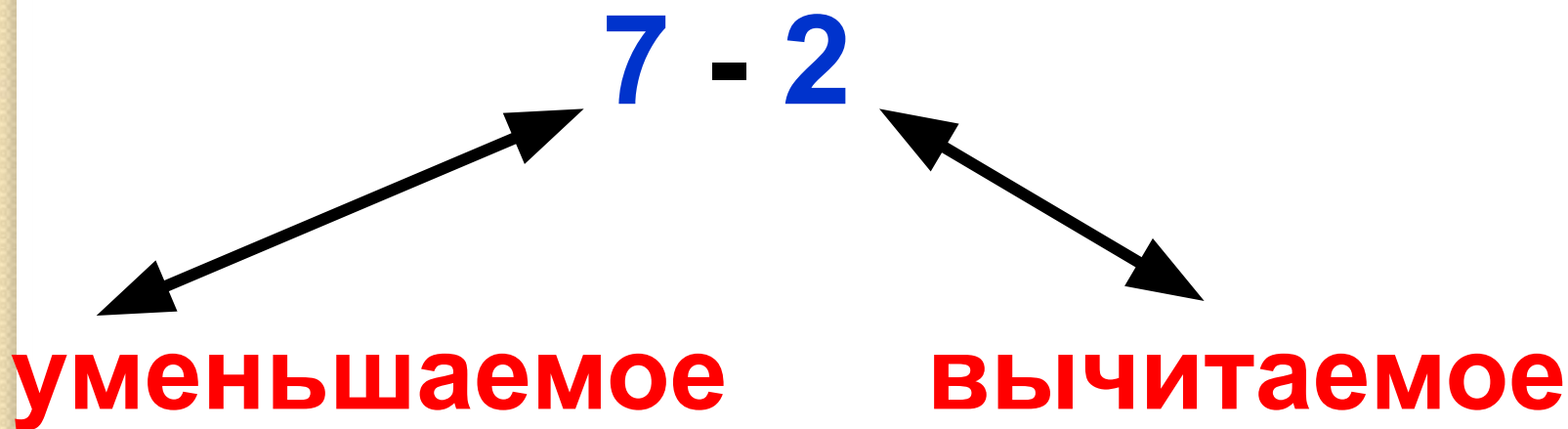
$$5 + 2 = 7$$

$$7 - 5 = 2$$

$$7 - 2 = 5$$

7 - 2 – **разность** чисел 7 и 2

5 – **значение разности**



# Проверь!

Девочки:  $5 - 3 = 2$

Мальчики:  $7 - 2 = 5$

**Спасибо за урок!**

