

УСТНЫЙ


СЧЁТ





Вычисли.

Проверь себя, нажав на

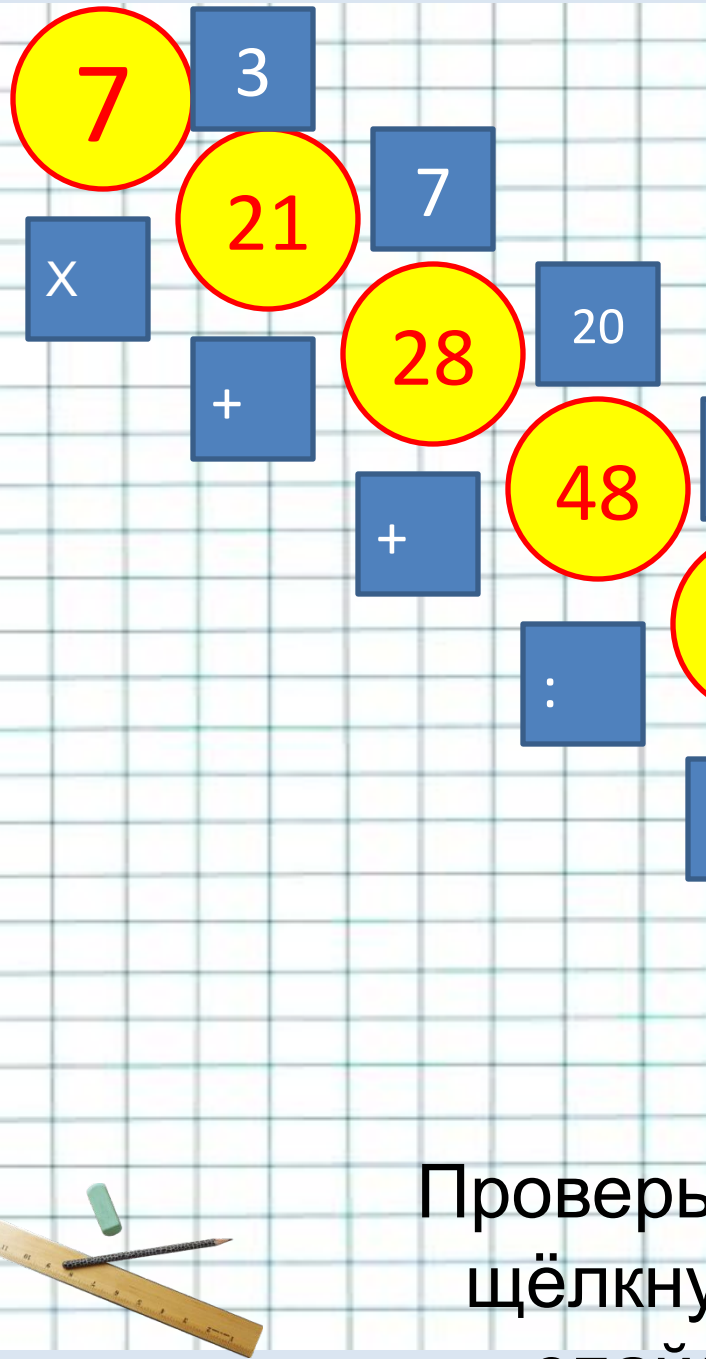
$220 \times 3 + 340 =$  звёздочку.  $1000$

$3000 + (6400 : 8) =$    $3800$

$6000 - (2000 - 60 \times 3) =$    $4180$

$1000 - (200 + 210 : 3) =$    $730$





В нижнем левом углу  
экрана  
выбери фломастер.

Запиши

нужную цифру в синих  
квадратах.

Проверь себя,  
щёлкнув по  
спайду.



Вычисли:

$$96:4$$

а) 2



б) 92



г) 26



в) 34



4

Вычисли:

$$72:4$$

а)

68



б) 28



г) 16




в) 18



Верный ответ



Если  $c=54$ , то



+

~~$c:6=9$~~   
Если  $C=6$ , то




-

~~$5 \times C=35$~~   
Если  $c=9$ , то 18:



+

~~Если~~  $c=12$ , то



+

~~$c+10=22$~~   
Если  $c=15$ , то 18-  
 $c=2$



-

Если утверждение верно, поставь в синем овале фломастером +, если неверно -

-



Если  $A=15, C=3$ , то

+



~~$A \times C=48$~~   
Если  $a=19, c=31$ , то

+



~~$a+c=50$~~   
Если  $a=65, c=26$ , то  $a-$

+



~~$c=39$~~   
Если  $a=72, c=8$ , то  $a:$

-



~~$c=9$~~   
Если  $a=54, c=28$ , то  $a-$


~~$c=20$~~



Какое из этих чисел  
наименьшее?

а) 12345

6



б) 102345



в) 123450



Щёлкни по цифре, верный  
ответ -



Масса свёклы в каждом ящике 18 кг, а масса каждого ящика 2 кг. Чему равна масса 5 ящиков со свёклой?

1) 90 кг



2) 10 кг



3) 100 кг



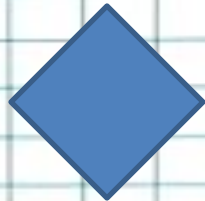
4) 96 кг



Ребята смотрели спектакль в школьном зале. В трёх рядах сидели по 15 человек и ещё в одном ряду 12 человек. Сколько ребят смотрело спектакль?

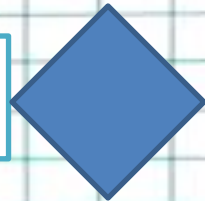
1)

45 человек




2) 27

человек



3) 60

человек



4) 57

человек





Молодцы!!!

!

