

ОТНОШЕНИЯ

больше


меньше

столько же

54. Чем похожи и чем отличаются картинки слева и справа?



55. Чего больше? Чего меньше?



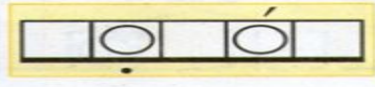
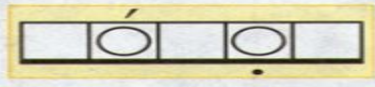
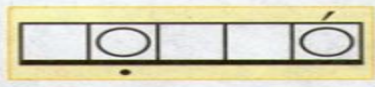
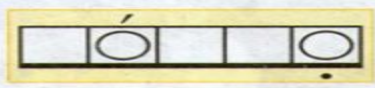
56. Хватит ли ёжикам грибов, если:

- 1) каждому ёжику дать по одному грибу;
- 2) каждому ёжику дать по два гриба;
- 3) каждому ёжику дать по три гриба?




22.10

*** Ударение.**
Гласные звуки:
ударные и безударные



_____ ?



□	○	□	□	○	□
---	---	---	---	---	---

□	○	□	□	○	□
---	---	---	---	---	---

□	○	□	□	○	□
---	---	---	---	---	---



□	○	□	○
---	---	---	---


□	○	□
---	---	---

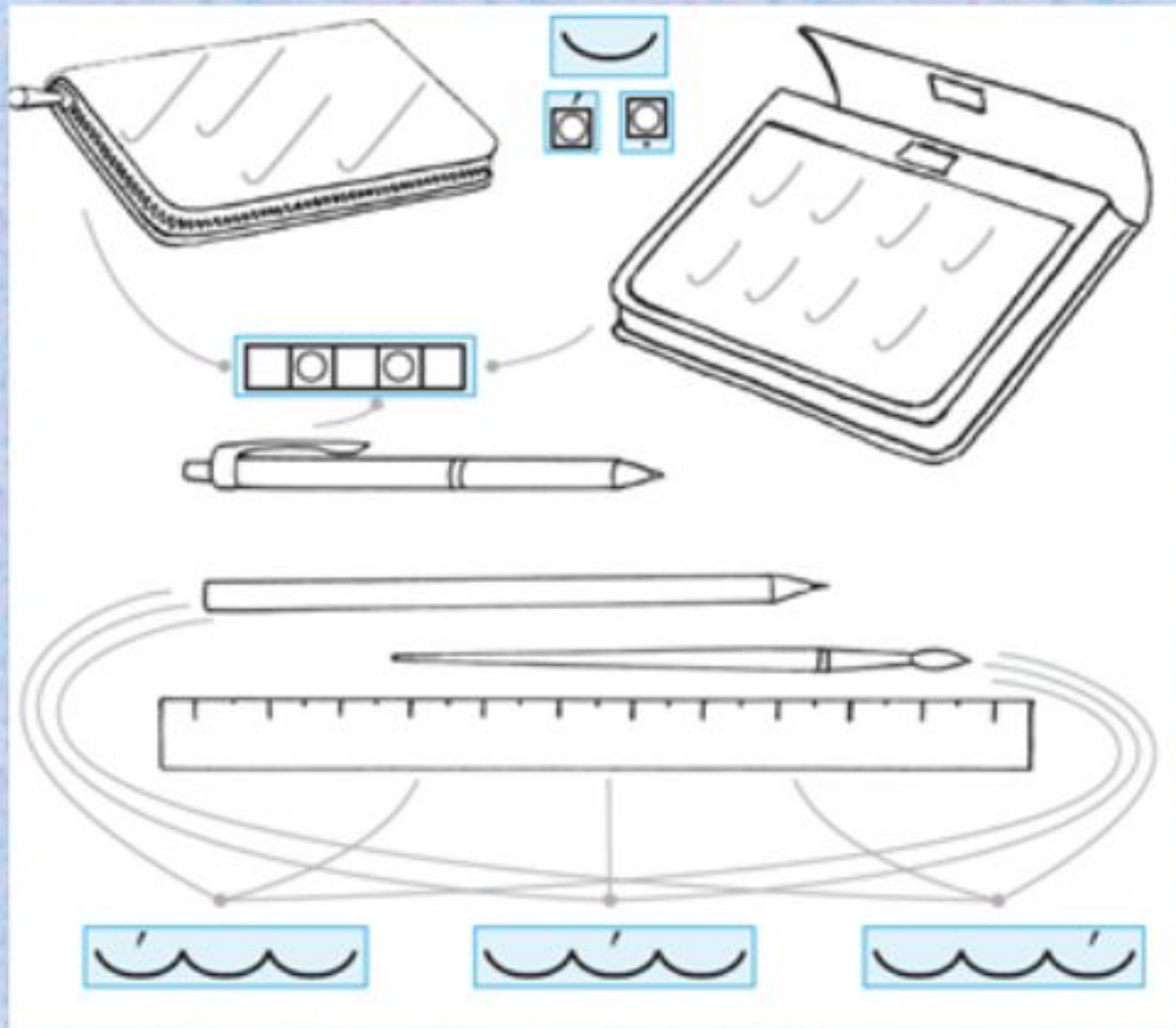
□	○	□	○
---	---	---	---

□	○	□
---	---	---



□	○	□	○
□	○	□	○





Линейка и пенал - ...

