

Муниципальное бюджетное общеобразовательное учреждение
«Саргатский лицей»

МНОГОУГОЛЬНИК И ЕГО ЭЛЕМЕНТЫ

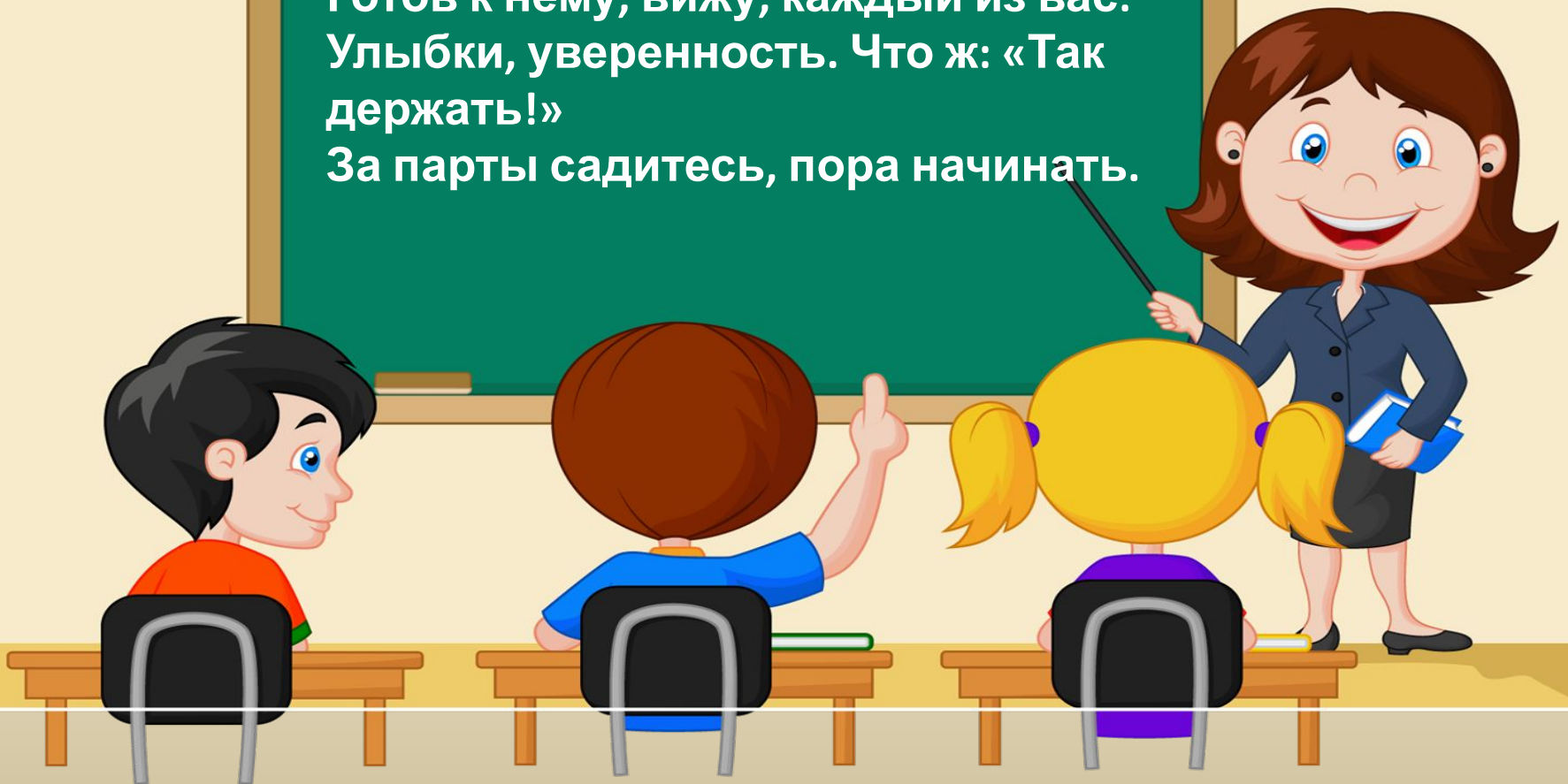
Урок математики
**УМК «Начальная школа XXI
века»**

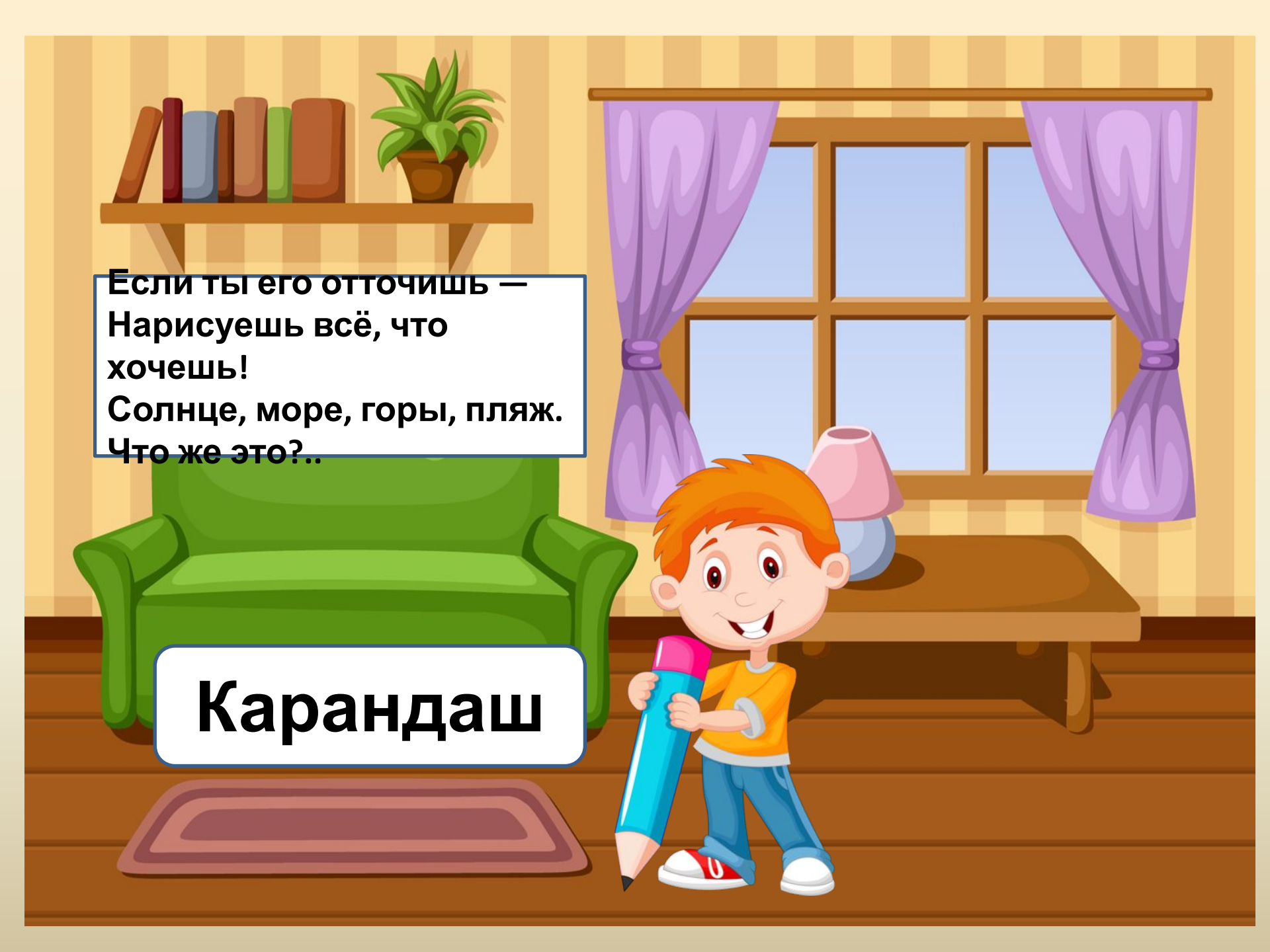
2 класс

Учитель начальных классов
Чернявская Светлана Алексеевна



Сегодня урок необычный у нас.
Готов к нему, вижу, каждый из вас:
Улыбки, уверенность. Что ж: «Так
держаться!»
За парты садитесь, пора начинать.





Если ты его отточишь —
Нарисуешь всё, что
хочешь!
Солнце, море, горы, пляж.
Что же это?..

Карандаш


Устный счет






Назовите сколько
десятков и единиц в числе
78.

7 дес. 8
ед.



Какое число
следует
за числом 99?

100



Какое число
предшествует
числу 68

67




В каком числе 6 дес. 3
ед.

63



Какое число
лишнее ?

20 30 40 49 50






Назовите числа
в порядке
возрастания

45, 74, 19, 34, 28, 99, 12, 100

12, 19, 28, 34, 45, 74, 99, 100

Найдите недостающую фигуру







Назови фигуры.


1.  отрезок

2.  луч

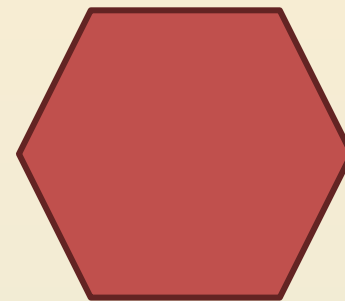

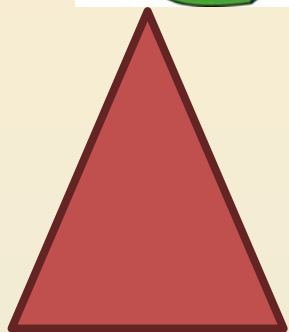
3.  шестиугольник

4.  круг





Найдите закономернос ть




Как можно назвать фигуры
МНОГОУГОЛЬНИК
ОДНИМ СЛОВОМ?

И

Тема урока: «Многоугольник и его элементы»



ЗАДАЧА
Познакомиться с
элементами
многоугольника.



Многоугольник - состоит из отрезков

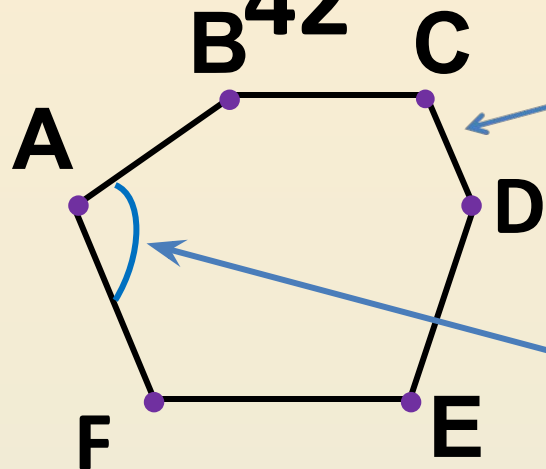
С.

42


сторон
а

AB, BC, CD, DE, EF, FA - стороны

Угол



A, B, C, D, E, F-вершины



Заполни таблицу

КАРТОЧКА
№1



ПРОВЕРЬ

Название элементов	элемент
СЕБЯ ВЕРШИ	А _ы
НА СТОРО	А
НА УГО	В
П	

Верно




С



**Зачеркни слова, которыми
нельзя назвать эту фигуру.**

**многоугольник
треугольн
к~~в~~адра
П~~р~~ямоугольник
пятиугольник**



**КАРТОЧКА
№2 (1)**

Верно



С



ошибкой

Работа с линейкой и карандашом.

КАРТОЧКА №2, задание 2 (а,б)



ВЕРНО



С

ОШИБКОЙ



ЗАПОЛНИ ТАБЛИЦУ

КАРТОЧКА

№3

МНОГОУГОЛЬНИК И	Сколько сторон?	Сколько вершин?	Сколько углов?
	4	4	4
	3	3	3
	5	5	5
	6	6	6

ВЕРНО



С

ОШИБКОЙ -



Работа в учебнике.

- Стр. 43, № 3





Дополните предложение

Я узнал.....

Я могу.....

Мне понравилось..





Подарите Карандашу свои многоугольники

- 1. Понравилось, всё было понятно
- 2. Не всё запомнил.
- 3. Было скучно.

Спасибо за
урок!



Домашнее задание.

Тетрадь стр. 17, № 6, 7



Интернет - ресурсы

- Картинки – интернет-ресурсы
- Физкультминутка - <http://www.proshkolu.ru/user/Dikiygus61/file/442036/>
- Картинка обложки тетради - <http://www.vgf.ru/tabid/56/Default.aspx>