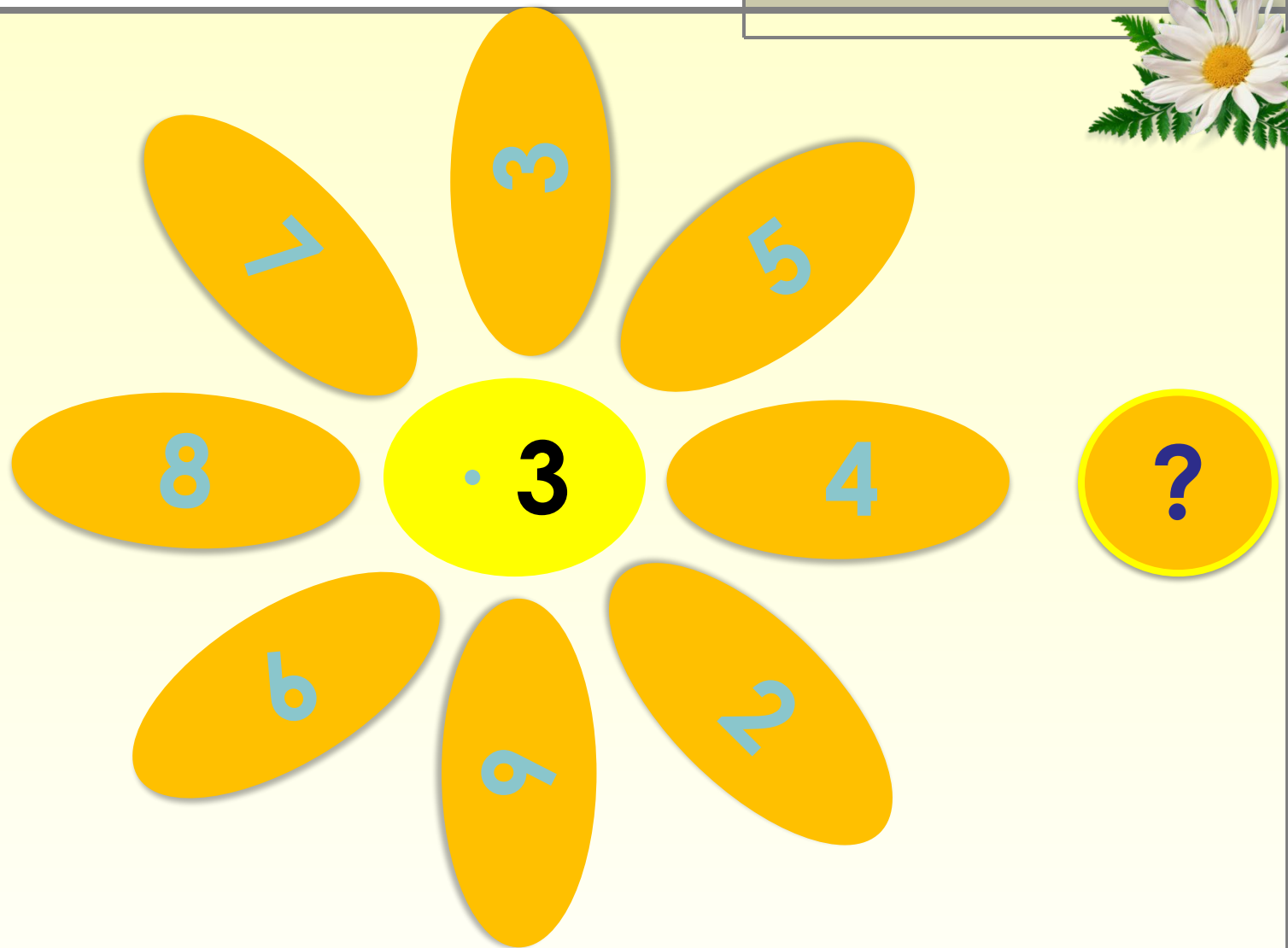
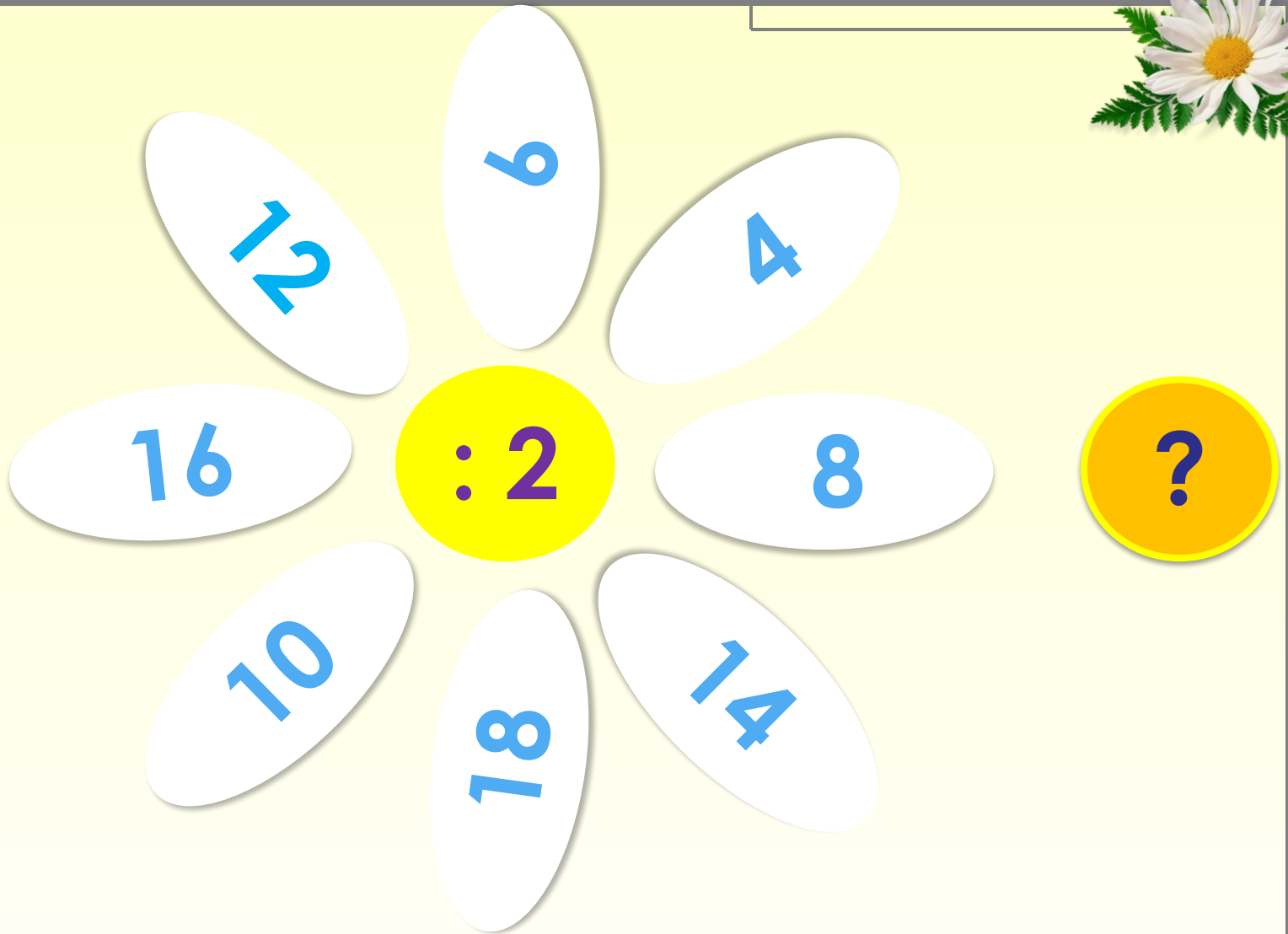


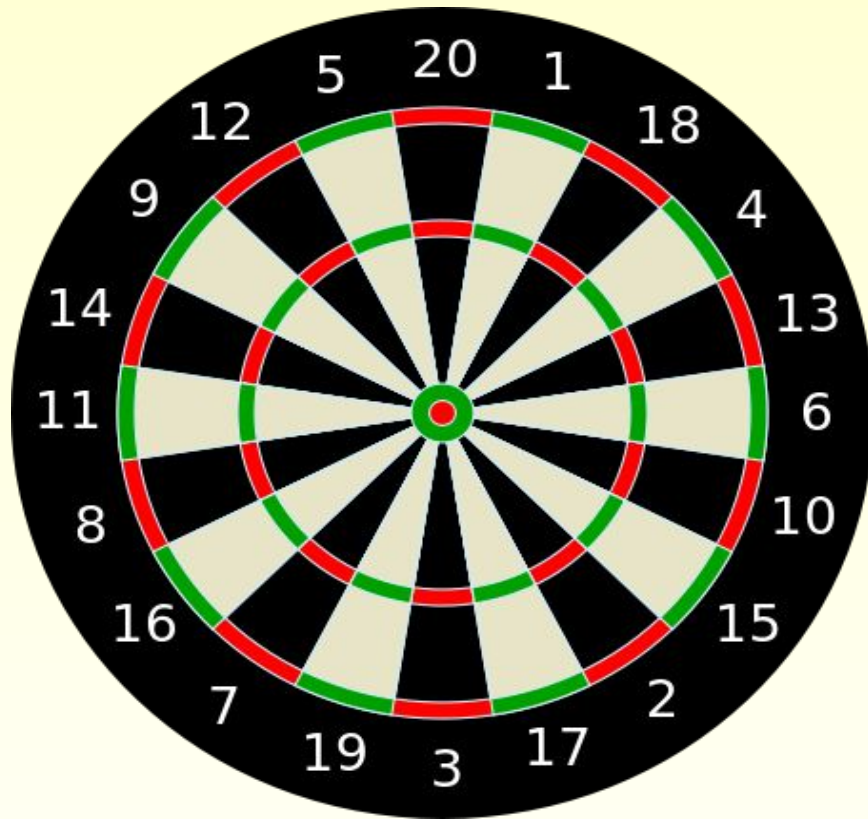
Повторение по теме: «Умножение и деление на 2 и 3»

Математика 2 класс
УМК «Школа России»
Учитель: Клепинина Н.Р.






В двух корзинках по 8 яблок. Сколько всего яблок?



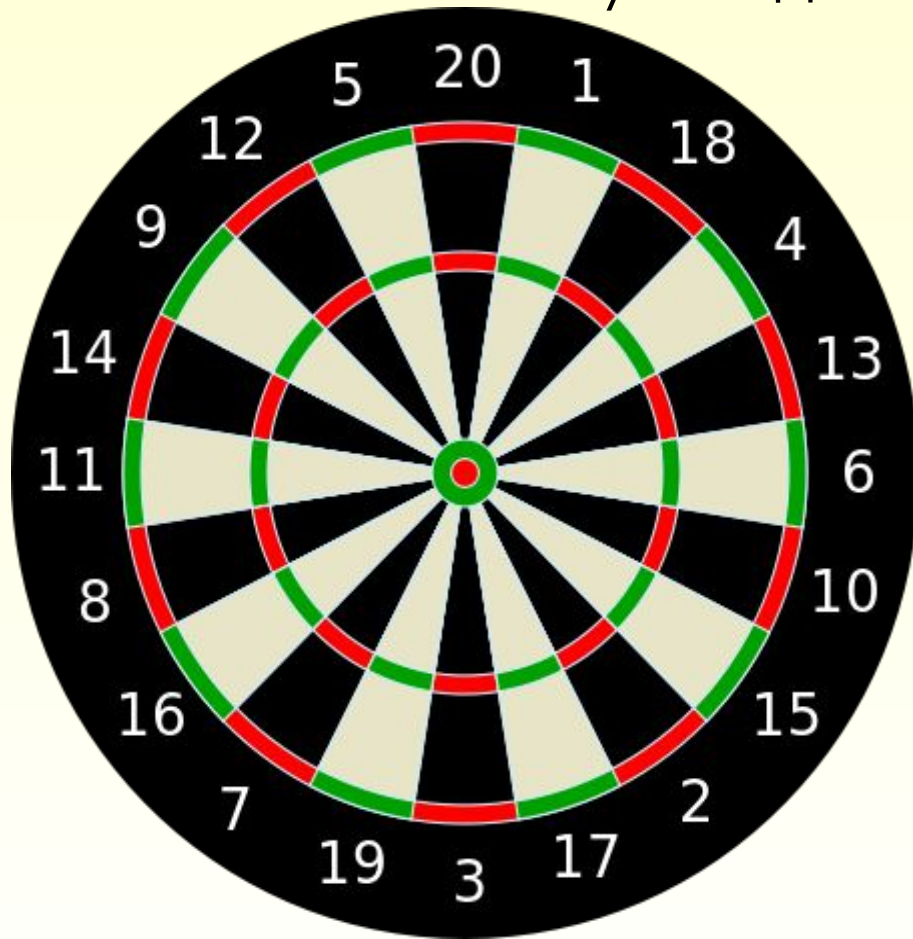
10

16

11



Мама купила 6 груш. Разделила между 2 дочками. Сколько груш у каждой ?



Работа по учебнику стр 99

25. Прочитай выражение $k + 8$. Найди значения этой суммы, если $k = 36$, $k = 42$, $k = 57$, $k = 69$.

18. У мальчика было несколько книг. Когда он подарил товарищу 3 книги, то у него осталось 19 книг. Сколько книг было у мальчика сначала?

Решение уравнений

$$x : 7 = 2$$

$$16 : x = 2$$

$$5 \cdot x = 10$$

Сравни значения выражений.

$$1 \cdot 32 \quad \bigcirc \quad 1 + 32$$

$$9 - 0 \quad \bigcirc \quad 1 \cdot 9$$

$$0 \cdot 14 \quad \bigcirc \quad 0 + 14$$

$$9 + 0 \quad \bigcirc \quad 0 \cdot 9$$

**Сделай к задаче рисунок и
реши её**

Выходя на прогулку, дети построились парами.
Всего оказалось 8 пар. Сколько было детей?

Вычисли.

$2 \cdot 7 + 2 = \square$

$2 \cdot 9 + 2 = \square$

$2 \cdot 5 + 2 = \square$

$2 \cdot 2 + 2 = \square$

$2 \cdot 8 + 2 = \square$

$2 \cdot 6 + 2 = \square$

Итог урока

Чему учились на уроке?
Что было труднее?

Дом. Задание:
Р.т стр 59