

# Назарова Галия Сайляуовна

учитель начальных классов

ГУ «Аулиекольская школа  
гимназия»

село Аулиеколь

Аулиекольский район

Костанайская область область

# АННОТАЦИЯ

Название работы: « Доли»

Демонстрационный материал к уроку математики

Использованные технологии: Microsoft  
PowerPoint

Методические рекомендации: использовать при  
закреплении и обобщении материала по теме  
«Доли»

Аудитория: 3 класс  
Объем работы-20 слайдов

# Цели :

- активизировать знания учащихся по теме «Доли»;
- закреплять умение находить несколько долей целого;
- закреплять умение находить число по доле и долю по числу;
- закреплять умение сравнивать доли;
- закреплять умение определять время по часам;
- воспитывать интерес к математике, стремление использовать математические знания в жизни.

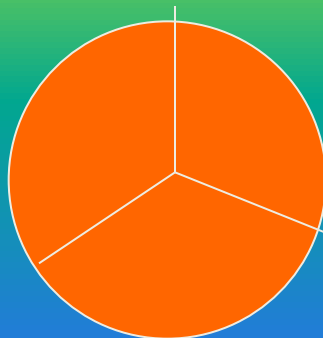

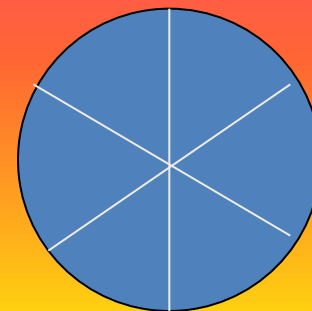
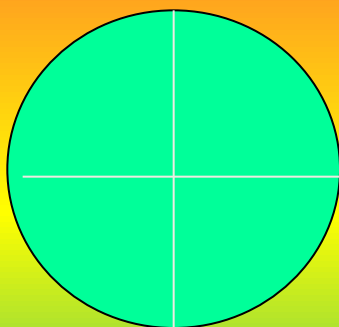
# Найди долю

●  $1/8$

●  $1/6$

●  $1/3$

●  $1/4$



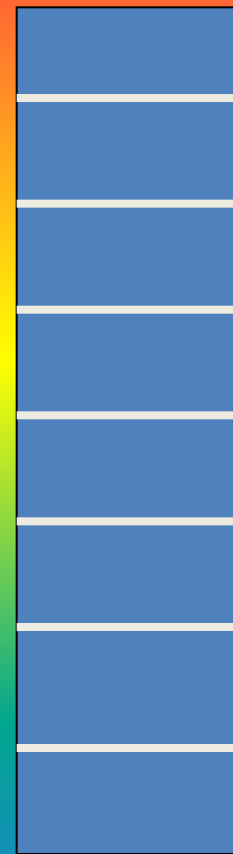


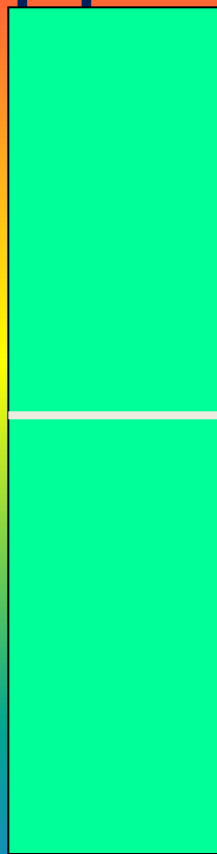
# Какая доля меньше?

●  $1/2$

●  $1/3$

●  $1/4$

●  $1/8$



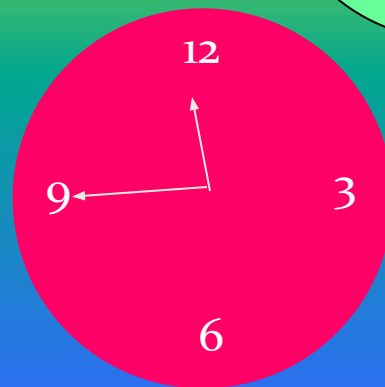
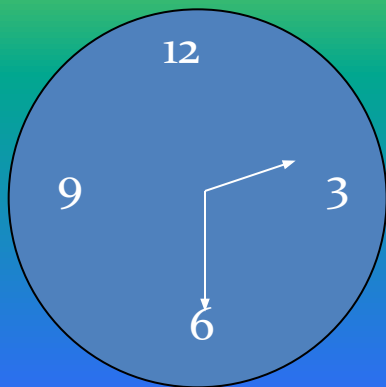

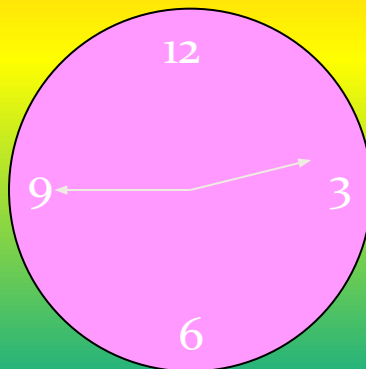

# Сколько всего?

1. Если  $\frac{1}{5}$  числа это 3,  
то всё число ...
2. Если  $\frac{1}{4}$  числа это 5,  
то всё число...
3. Если  $\frac{1}{8}$  числа это 10,  
то всё число...
4. Если  $\frac{1}{2}$  числа это 6,  
то всё число...



# Который час?

- Назови время, которое показывают часы, используя слова «четверть», «половина»



# Сравни

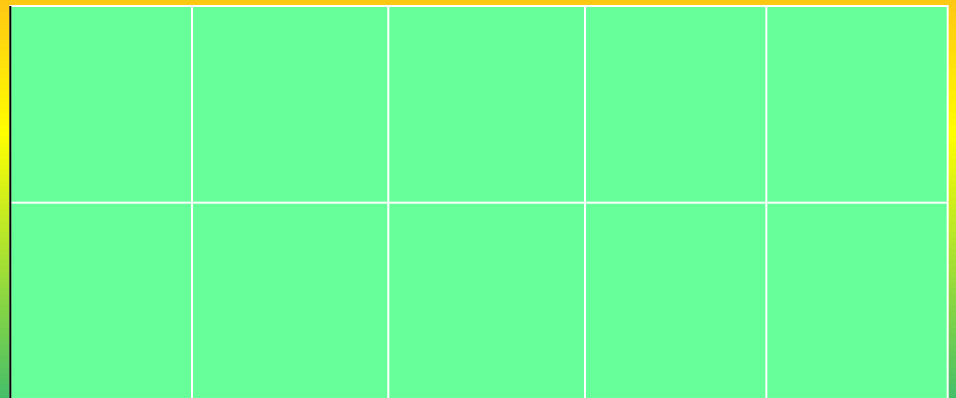
● Покажи на рисунке и сравни части прямоугольника

●  $1/5$  и  $1/2$

●  $2/10$  и  $4/5$

●  $3/10$  и  $5/10$

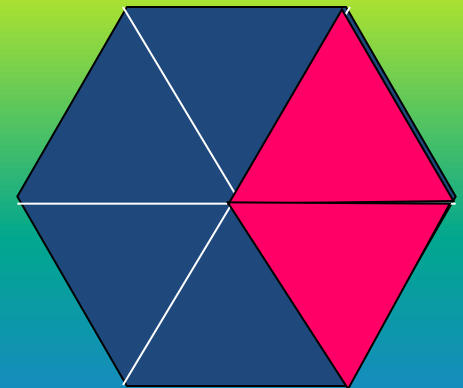
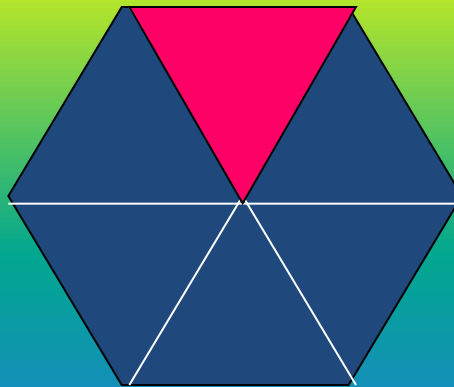
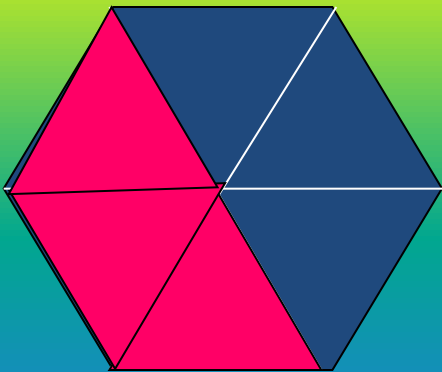
●  $2/5$  и  $3/5$





# Определи

- Кто из девочек какую долю раскрасил, если Таня закрасила большую долю, чем Оля, а Лена закрасила большую долю, чем Таня?



# Найди отрезок

- Найди и покажи  $1/9$ ,  $4/9$ ,  $2/3$ ,  $1/3$ ,  $8/9$  данного отрезка.



# Найди долю

●  $1/7$  от 14 это...




●  $1/5$  от 40 это...



●  $1/2$  от 50 это...






●  $1/9$  от 63 это...




# Определи

- Сколько четвертых долей каждой фигуры закрасили?

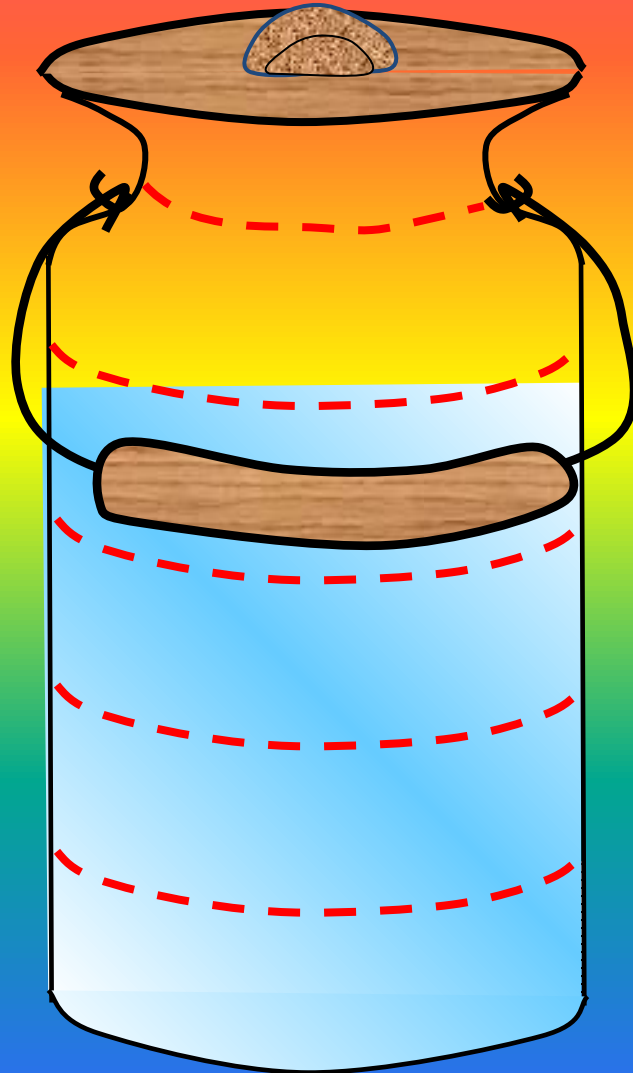


# Подумай

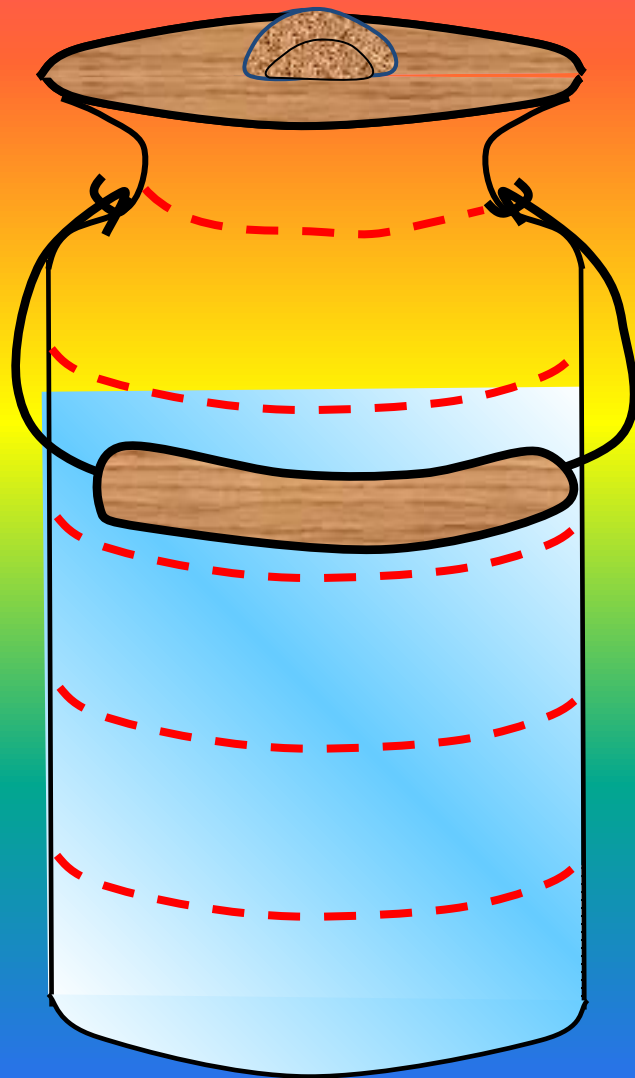
- Какую часть всех мячей составляют:  
а) зелёные мячи; б) жёлтые мячи?



Какая доля бидона не наполнена  
водой? (горлышко не учитывать)



Какая доля бидона не наполнена  
водой? (горлышко не учитывать)



$$\frac{1}{5}$$




Какую часть пути  
осталось пройти Симбе?







Какую часть пути  
осталось пройти Симбе?



$$\frac{1}{8}$$

## Задача №1:

Сидит в корзине девочка,  
У мишки за спиной,  
Он, сам того не ведая,  
Несет ее домой.

А дорога – нелегка,  
А корзина – тяжела.  
Сяду на пенек,  
Съем я пирожок.

Пирожок разделили Маша и медведь поровну.  
Какую долю получил каждый?



## Задача №2

Возле леса на опушке,  
Трое их живет в избушке,  
Там три стула, три подушки,  
Три кровати и три кружки.



Маша пришла в гости к медведям. Она принесла им мёд. Медведи разделили его между собой поровну.  
Какую долю получил каждый медведь?

## Задача №3

Рано утром Мальвина, Пьеро, Буратино и Артемон завтракали. На столе стоял кувшин с какао. Мальвина разлила каждому равное количество напитка в чашку. Какую долю от всего какао получил каждый?

