


**Урок математики мы начинаем.  
Тайны её открывать продолжаем.  
Проверьте, все ль на месте, все ль в  
порядке.**

**Все ли правильно сидят?  
Все ль внимательно глядят?  
Я желаю вам удачи –  
За работу, в добрый час.**



# Математическая разминка

17 увеличить на 8

**25**

27 уменьшить на 6

**21**

Первое слагаемое 19, второе 8. Найди сумму.

**27**

Найди сумму чисел 7 и 5.

**12**

На сколько 18 больше 9?

**на 9**

Уменьшаемое 15, вычитаемое 9. Найди разность.

**6**

Найди разность чисел 24 и 16.

**8**

На сколько 8 меньше 16.

**на 8**

# Задачи

- *В пещере жили 7 тролей. К ним в гости пришли 3 троля. Сколько тролей стало в пещере?*

*$7+3=10$  тролей стало в пещере.*

- *Красная Шапочка испекла 12 пирожков с яблоками и 7 пирожков с грибами. Сколько всего пирожков испекла Красная Шапочка?*

*$12+7=19$  пирожков испекла Красная Шапочка.*

- **Купили две ленты. Длина белой ленты 8 м, голубая лента на 1 м короче белой. Сколько метров лент купили всего?**

**$(8-1) + 8 = 15$  метров лент купили всего.**

- **В школу фигуристов принимают детей не старше 7 лет. Примут ли мальчика в эту школу на следующий год, если ему сейчас 5 лет?**

**Да, на следующий год ему будет только 6 лет.**

# Игра: "Геометрия вокруг нас".

4		Е		Я
3	Г		О	
2		Т		И
1	М		Р	
	1	2	3	4

(1;3), (2;4), (3;3), (1;1), (2;4), (2;2), (3;1), (4;2), (4;4).

# Игра: "Геометрия вокруг нас".

4		Е		Я
3	Г		О	
2		Т		И
1	М		Р	
	1	2	3	4




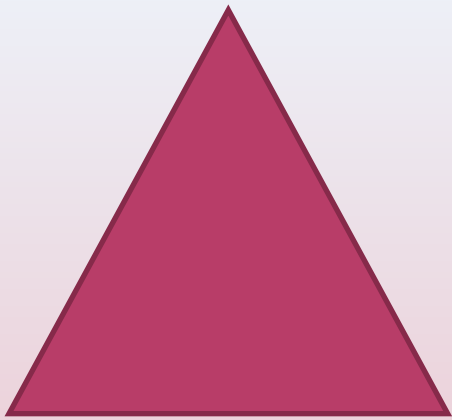
(1;3), (2;4), (3;3), (1;1), (2;4), (2;2), (3;1), (4;2), (4;4).

**Г Е О М Е Т Р И Я**




Что означает слово  
"Геометрия"?

# *Геометрия*

– раздел математики, изучающий пространственные отношения и формы (из "Толкового словаря" С. И. Ожегова).







# Какие фигуры называются прямоугольниками?

Прямоугольник – это четырёхугольник, у которого все углы прямые.







# *Свойства прямоугольника!*

- *Четыре угла*
- *Четыре стороны*
- *Противоположные стороны  
одинаковые*


# Найдите среди геометрических фигур прямоугольник




1




2



3



4




5



6



7



Пусть каждый день и каждый час  
Нам новое добудет.

Пусть будет добрым ум у нас  
И сердце добрым будет.

Молодцы!

Урок окончен.