



Тема:

**Сложение и вычитание
числа 7.**



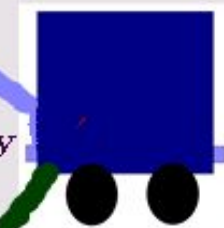






ОСАКАРОВКА

ТОПАР

АСТАНА




АКТАУ

КАРАҒАНДА

АТАСУ



ЖЕЗҚАЗҒАН



Задание 1 вагончика: устные упражнения.



1. Найдите сумму чисел 2 и 5

2. I слагаемое 3, II - 4. Чему равна сумма?

3. Уменьшаемое 9, вычитаемое 2. Найдите разность

4. На сколько 9 больше числа 2.

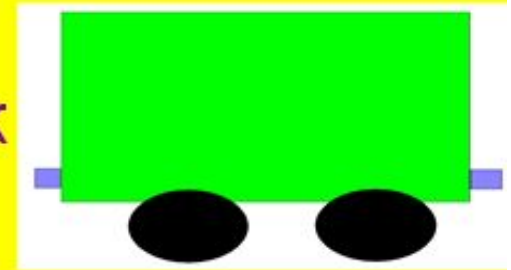
Запишите только ответы.

Задание 2 вагона.

- На какие геометрические фигуры похож этот вагон?

- Назовите геометрические фигуры и их свойства. Чем отличается квадрат от прямоугольника?

- Молодцы, поехали дальше. Следующая станция «Топар».



АСТАНА




ОСАКАРОВКА



ТОПАР




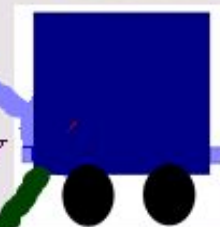
АКТАУ



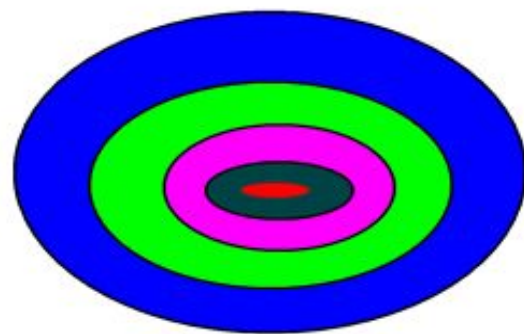
ҚАРАҒАНДА



АТАСУ



Задание 3 Назовите по порядку цвета при сборе детской пирамидки.



Задание 4 вагона.

Счет от 2 до 10 и обратно.

Задание 5 вагона.

Состав числа 7.

Задание 6 вагона.


Вспомните таблицу сложения числа 7.



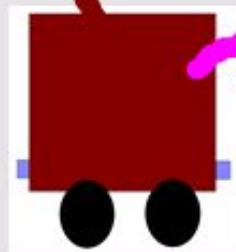
АСТАНА




АКТАУ



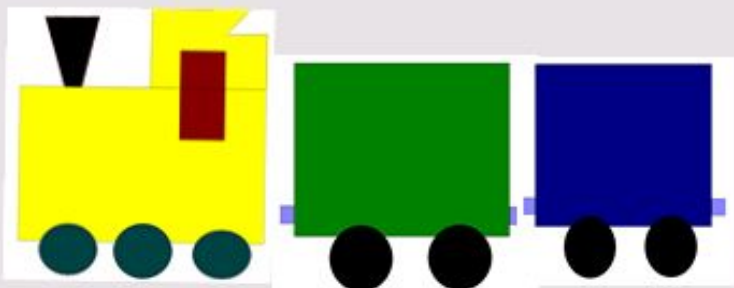
САРАҒАНДА



АТАСУ



ЖЕЗКАЗҒАН



"Сложение и вычитание числа 7

-Как к числу 7 прибавить число 7?

-Как из числа 14 вычесть число 7?

$$7+7=$$

$$14-7=$$

Закрепление. $8+7=$



$$15-7=$$


$$9+7=$$

$$16-7=$$

Задание 7 вагончика.

Решить задачу 4. с. 85.

В первой коробке 30 кг сливочного масла, а во второй на 5 кг больше. Сколько килограммов масла в двух коробках?



ОСАКАРОВКА

ТОПАР

АСТАНА




АКТАУ

КАРАҒАНДА

АТАСУ

ЖЕЗКАЗҒАН





Благодарю

за внимание!