

Сиқырлы сандар




Интеллектуалды жарыс



1-КЕЗЕҢ

ТАНЫСТЫРУ



*** 1-кезең


« ӘЛ - ФАРАБИ »

« ӘЛ - ХОРЕЗМИ »



2-КЕЗЕҢ

ОЙ СЕРГІТУ




*** 2-кезең



3-КЕЗЕҢ

САНДАР СЫРЫ



*** 3-кезең

- 1) 2 жақсы қас болмас, ...
- 2) Бес бармақ жиналса, ...
- 3) Отыз тістен шыққан сөз, ...
- 4) Жеті жұрттың тілін біл, ...
- 5) Бір тал кессең, ...
- 6) Бес саусақ_...



- Айдың он бесі жарық, он бесі қараңғы.
- 1 кісі қазған құдықтан 1000 кісі су ішеді.
- Досынды үш күн сынама, үш жыл сына.
- Бір жақсы дос, жүз туыстан артық.


3-кезең

- 1) 100 сомын болғанша, ...
- 2) Бір күндік жолға шықсаң, ...
- 3) Айдың он бесі жарық, ...
- 4) 1 кісі қазған құдықтан ...
- 5) Досынды үш күн сынама, ...
- 6) Бір жақсы дос, ...



4-КЕЗЕҢ

МЕРГЕНДЕР





4-кезең

Таныс емес қалаға келген математик шашын Алмақшы болды Қалада екі ғана шаштараз бар, әрқайсысының өз орны бар. Біреуіне кіріп, ол оның орны лас екенін көріп, шебердің алқам салқам киімін көріп, шашы қалай болса солай алынғанын байқады. Ал екіншісінде тап-таза, иесі мұнтаздай таза және шашы тамаша алынған екенін байқады. Аз уақыт ойланып, математик бірінші шаштаразға барды. Неге?



*** 4-кезең

“ Екі қарға ”.

Екі қарғаның біреуі оңтүстікке,
біреуі солтүстікке қарап отыр.


Олар біріне -бірі:

- Достым, мен сені көріп
отырмын, - дейді.

Олар бірін - бірі қалай көреді?

5-КЕЗЕҢ

КІМ ЖЫЛДАМ?





5-кезең

Математика және
биология

20

30

40

50

Ерте кездегі
есептер.

20

30


40

50



6-КЕЗЕҢ

СИҢЫРЛЫ ӘРІПТЕР



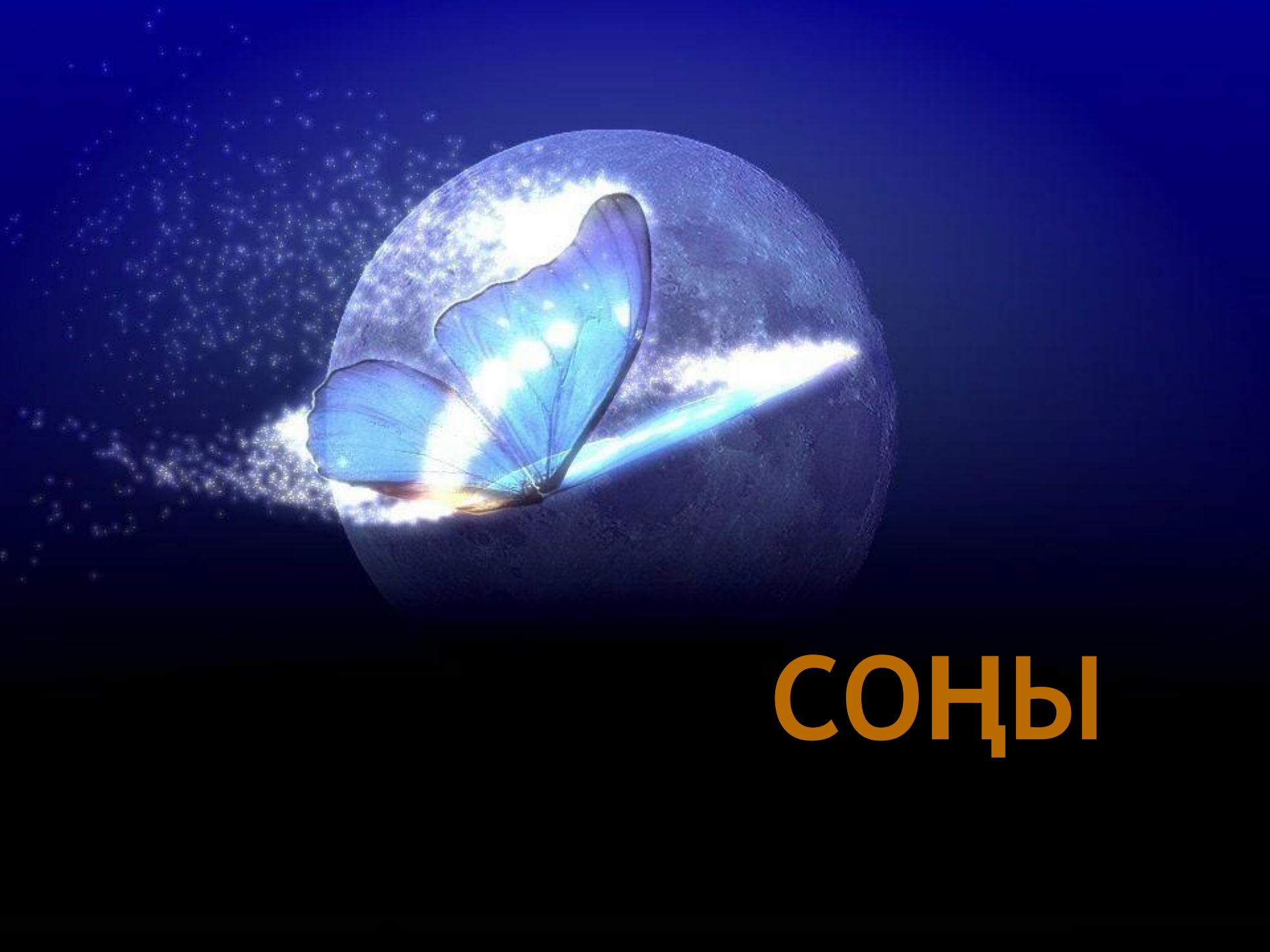
*** 4 кезең -

Сиқырлы әріптер

Мына әріптерден неғұрлым көп
математикалық терминдер жазындар.

С Т І Р Б К Ы И Ұ Ш Ү Н Е





СОҢЫ

20:

Периметрі 24
см шаршының
ауданын тап

30:

Түнгі сағат 10-да жауын жауып тұрса, 24 сағаттан кейін күннің жарқырап тұруы мүмкін бе?

А) иә

Б) жоқ

40:

Тиісті таңбаны қой.

$$(1+2) 3 4 5 6 7 = 40$$

50:Ұлу биіктігі 10 м
бағанмен жоғары өрмелейді.
Күндіз 5 м-ге көтеріледі, ал
түнде 4 м төмен түседі.
Қанша уақытта ұлу бағанның
төбесіне жетеді?

20: Дорбадағы 10 асықты 10 бала бір-бірлеп алды. Сонда бір асық дорбада қалды. Бұл қалай?

30: Торғайлар ұшып келді де ,
бұтаққа отырды.Егер әр
бұтақта бір торғайдан болса,
онда бір торғайға бұтақ
жетпейді. Егер әр бұтаққа екі
торғайдан қонса, онда бір
бұтақта торғай болмайды.
Қанша бұтақ және қанша
торғай болған?

40: Торда қояндар мен
тауықтар бар.

Олардың 35 басы және
94 аяқтар бар. Торда
қанша қоян және
қанша тауық бар.

50:7 жас есек 3 күнде
21 қап жемді жеп
тауысады. 5 күнге 5
есекке қанша жем
қажет болады?