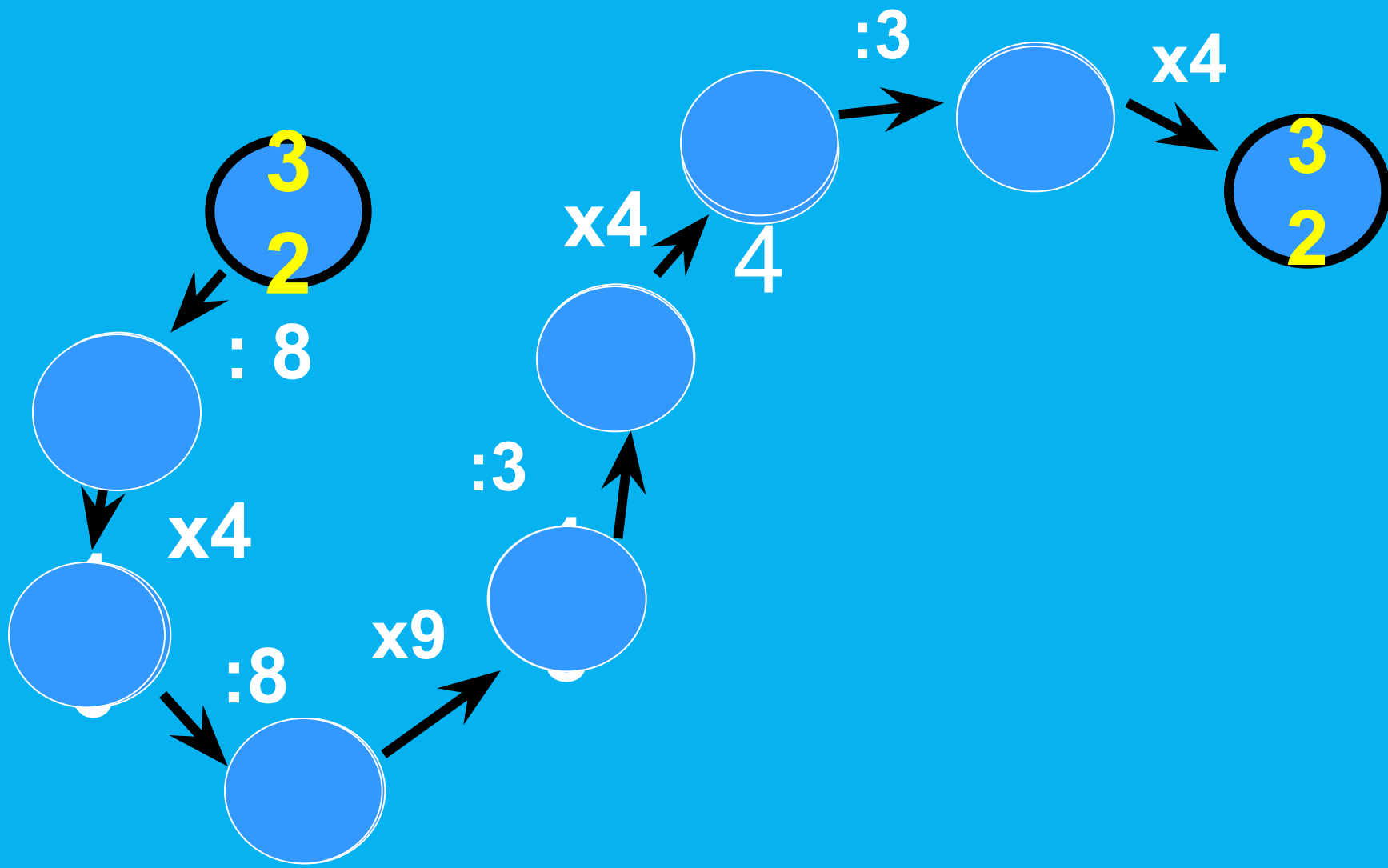


УРОК МАТЕМАТИКИ В 4Б КЛАССЕ

Добрый день!






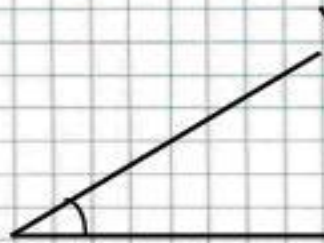
ЗАДАЧИ В СТИХАХ

- ◎ 16
- ◎ 9
- ◎ 24
- ◎ 4
- ◎ 32

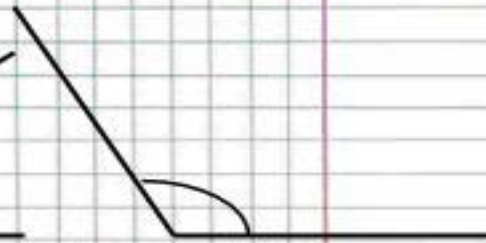
ВИДЫ УГЛОВ



прямой



острый



тупой

⦿ В чёрном небе до зари
Тускло светят Фонари.
Фонари - Фонарики
Меньше, чем комарики.

⦿ (Звезды)



ТЕМА УРОКА:

- Умножение числа 5. Таблица умножения числа 5

Таблица умножения числа 5

$$5 \times 1 = 5$$

$$5 \times 2 = 10$$

$$5 \times 3 = 15$$

$$5 \times 4 = 20$$

$$5 \times 5 = 25$$


$$5 \times 6 = 30$$

$$5 \times 7 = 35$$

$$5 \times 8 = 40$$

$$5 \times 9 = 45$$

$$5 \times 10 = 50$$



Работа по учебнику

Страница 88 № 8

ЗАДАЧА №11 СТР.89

Девочек - 7чел.по 5 фл.

Мальчиков - 8чел. по 4 фл. } ?фл.

1) $5\text{фл.} \times 7 = 35(\text{фл.})$ -девочки

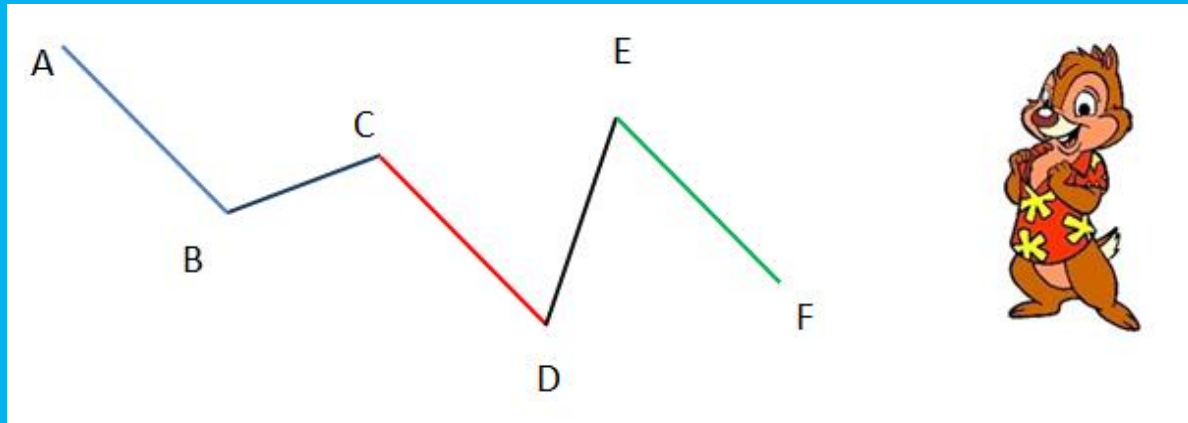
2) $4\text{фл.} \times 8 = 32(\text{фл.})$ -мальчики

3) $35\text{ фл.} + 32\text{ фл.} = 67(\text{фл.})$

Ответ: 67 флажков сделали ученики

ГЕОМЕТРИЧЕСКИЙ МАТЕРИАЛ

Ломаная, ломаная линия — геометрическая фигура, состоящая из отрезков, последовательно соединенных своими концами.



«ЧИСЛОВОЕ ДОМИНО»


◎ $5 \times 5 = 25$ $5 \times 3 = 15$ $5 \times 8 = 40$
 $5 \times 2 = 10$ $5 \times 9 = 45$ $5 \times 7 = 35$

СОСТАВЬ КАРТИНУ



29/11/2016 14:27

Домашнее задание



Стр.88 №9
(таблица умножения числа 5)



Вы считаете, что урок прошёл для вас плодотворно, с пользой. Вы научились и можете помочь другим.



Вы считаете, что тема вам понятна, но надо ещё потренироваться.



Вы считаете, что было трудно на уроке. И надо подойти к учителю, позаниматься дополнительно.

УРОК ОКОНЧЕН...

