

Добро пожаловать!





**Побольше смелости
во взоре!**

Не отступай!

Будь духом тверд!

**Вас ожидает
многоборье,**

**Поставьте личный
свой рекорд!**

Мозговая гимнастика



Разминка





ЗАНЯТИЕ 15

РАЗМИНКА

Кем (чем) они были раньше?

1. Цыплёнок - ...
2. Лошадь - ...
3. Корова - ...
4. Дуб - ...
5. Рыба - ...
6. Лёд - ...
7. Мужчина - ...



Кем или чем они были раньше?

- Цыплёнок – ... (яйцом.)
- Лошадь – ... (жеребенком.)
- Корова – ... (телёнком.)
- Дуб – ... (жёлудем.)
- Рыба – ... (икринкой.)
- Лёд – ... (водой.)
- Мужчина – ... (мальчиком.)




Задание 1






1. Рыбак поймал окуня, ерша и щуку. Щуку он поймал раньше, чем окуня, а ерша позже, чем щуку. Укажи, какая рыба поймана раньше всех?



Молодцы!



1




Задание 2




2. Мама, папа и я сидели на скамейке. В каком порядке мы сидели, если известно, что:

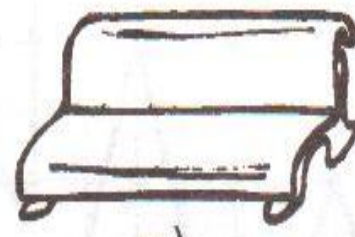
- а) я сидел слева от мамы, а папа – слева от меня;
- б) папа сидел слева от меня и справа от мамы;
- в) мама сидела справа от меня, а папа справа от мамы;
- г) папа сидел справа от меня и слева от мамы.




а)



б)




в)



г)



Молодцы!




Задание 3

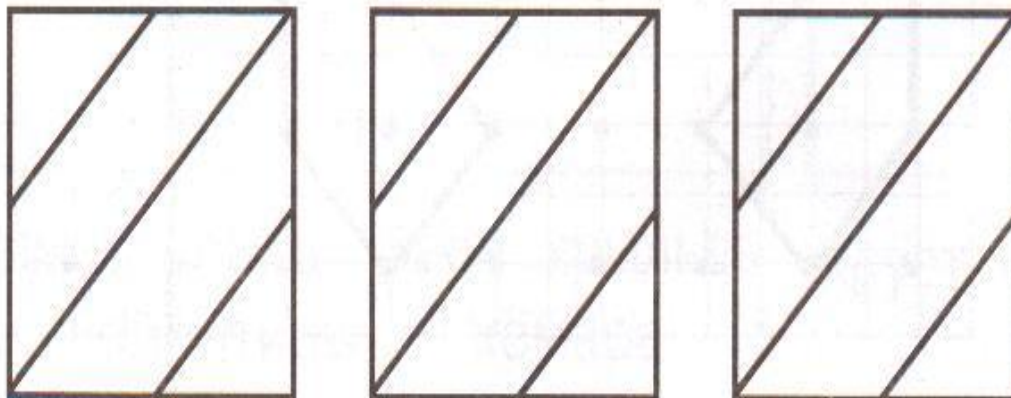


3. Раскрась квадратики в каждой группе так, чтобы два из них были одинаковыми, а два – разными.

а)




б)



Задание 4



4. Составь из этих букв разные слова так, чтобы в каждом было не меньше двух гласных. Сколько слов у тебя получилось?



**Метро, сало, мосты,
репа, перо, лопаты,
столы, море, тропы,
стрела**

Молодцы!



Задание 5



5. Отгадай зашифрованное слово. Какое слово соответствует ему по смыслу? Поставь подходящий значок.

ИДЁТ -

ЛИСТ -

ЗИМА -

ЛЕЖИТ -

СТЕБЕЛЬ -

СРЕДА -

ГУДИТ -

ЦВЕТOK -

ИЮНЬ -

ЖДЬДО - ?


ВОЛСТ - ?

СЯЦМЕ - ?

_____ - _____

_____ - _____

_____ - _____



by Dalmat

Дождь □

ство ○

месяц ▽



Молодцы!






Задание 6






6. «Магический квадрат». В свободные клетки квадрата вставь пропущенные числа так, чтобы суммы чисел по всем направлениям были равными.

2		4
2	6	1



5	0	4
2	3	4
2	6	1



by Dalhousie




Молодцы!



Задание 7




7. Бабочка, стрекоза и божья коровка сели на разные цветы: ромашку, колокольчик и василёк. Стрекоза села не на василёк, бабочка не на ромашку и не на василёк. Напиши названия цветов, на которые сели насекомые.



	бабочка	стрекоза	бож. коровка
ромашка	—	+	—
колокольчик	+	—	—
василёк	—	—	+

Ответ: стрекоза – на ромашку, бабочка – на колокольчик, божья коровка – на василёк.




Молодцы!



Задание 8



8. Три зайчика: Ушастик, Белянчик и Пушистик – соревновались в беге. Подпиши, как зовут каждого из зайчиков, если Пушистик занял не второе и не третье место, а Белянчик не третье.



	Ушастик	Белянчик	Пушистик
I	—	—	+
II	—	+	—
III	+	—	—

Ответ: Пушистик – 1 место, Белянчик – второе, Ушастик – третье.



Молодцы!



Задание 8





9. Графический диктант.

Оленёнок.

Оленёнок, оленёнок,
Ты совсем ещё ребёнок:
Тоненькие ножки,
Маленькие рожки.
Ходишь ты совсем чуть-чуть,
Шаг шагнёшь – и отдохнуть.
Вот и мама прискакала,
Облизала малыша –
И идёт ласкаться к маме
Оленёнок, чуть дыша.

Оленёнок, оленёнок,
Ты совсем ещё ребёнок:
Пятнышки на спинке,
Белые крапинки.
Вот на тонких гибких ножках
Ты за мамочкой бежишь,
По тропинке в лес дремучий
Вслед за мамой семенишь.
Тоненькие ножки,
Маленькие рожки,
Ну, совсем ещё ребёнок
Этот кроха – оленёнок.

И. Ревуцкая

