



Александр





Александр





$$21 + \text{🌼} = 27$$

$$\text{🌼} + 22 = 44$$

$$45 + \text{🌼} = 25 + 23$$





$$21 + 6 = 27$$

$$\text{🌼} + 22 = 44$$

$$45 + \text{🌼} = 25 + 23$$



$$21 + 6 = 27$$

$$22 + 22 = 44$$

$$45 + \text{🌼} = 25 + 23$$



$$21 + 6 = 27$$

$$22 + 22 = 44$$

$$45 + \text{🌼} = 25 + 23$$

$$45 + \text{🌼} = 48$$





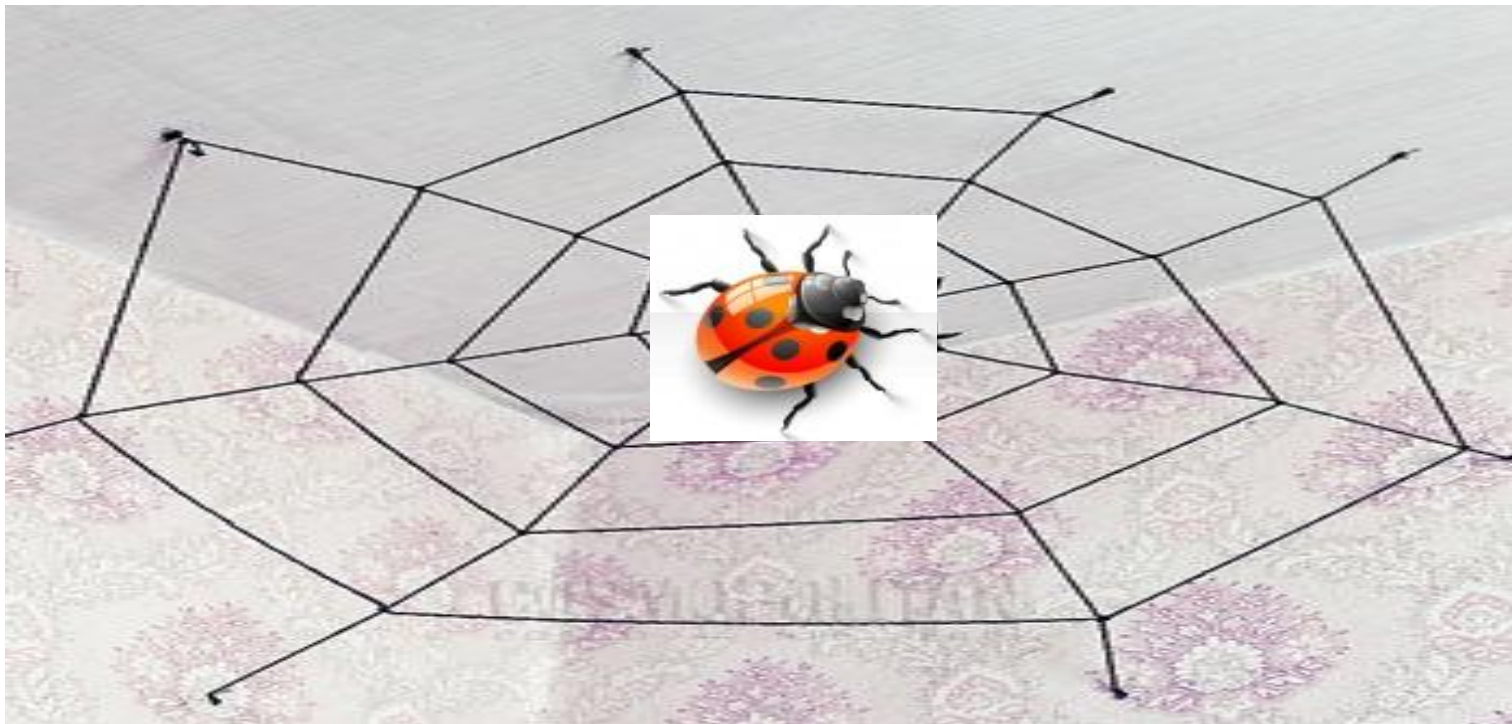
$$21 + 6 = 27$$

$$22 + 22 = 44$$

$$45 + 3 = 48$$







I вариант

$$89 - 26 =$$

$$84 - 13 =$$

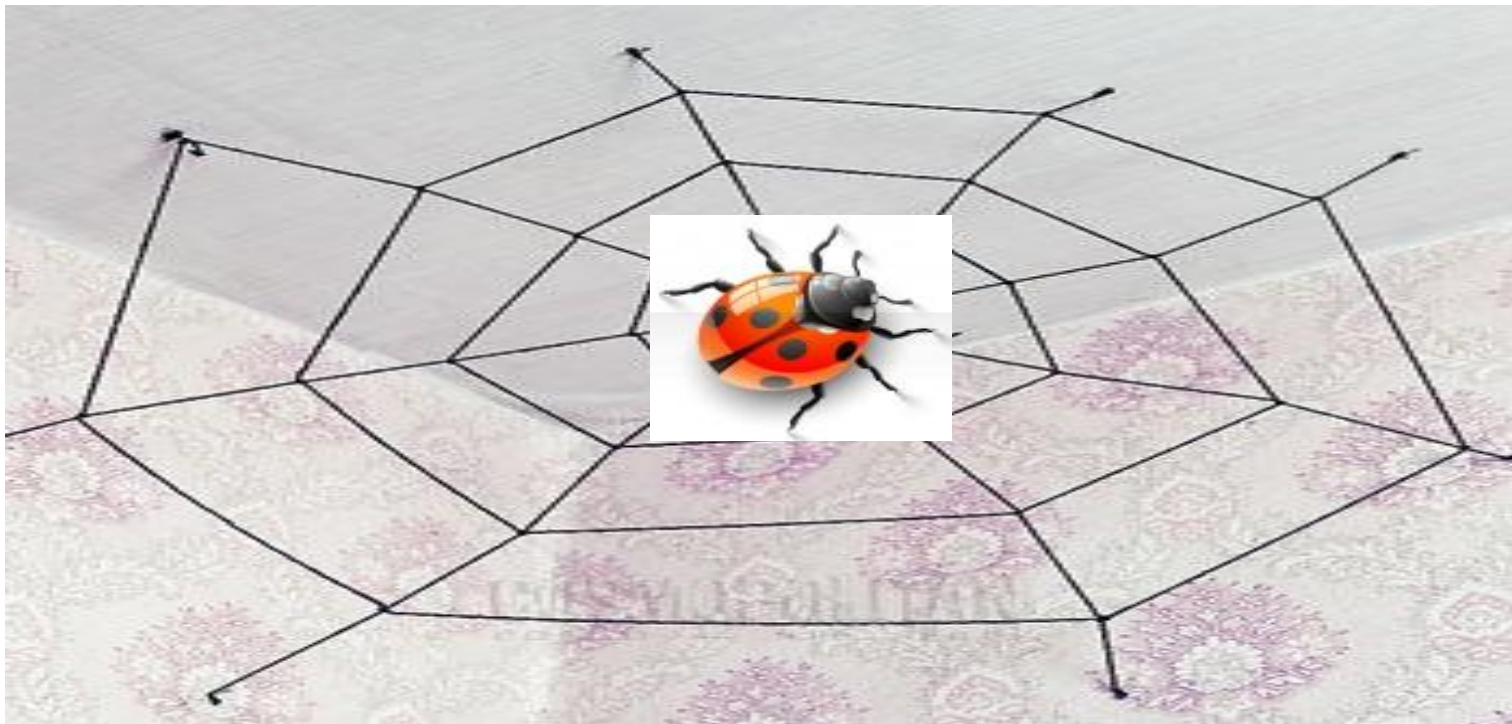
$$73 - 21 =$$

II вариант

$$56 - 25 =$$

$$57 - 23 =$$

$$52 - 21 =$$



I вариант

$$89 - 26 = \mathbf{63}$$

$$84 - 13 = \mathbf{71}$$

$$73 - 21 = \mathbf{52}$$

II вариант

$$56 - 25 = \mathbf{31}$$

$$57 - 23 = \mathbf{34}$$

$$52 - 21 = \mathbf{31}$$





© Worldprints.com





1. <


2. >

3. =





1.



2.




3.





1.



3.



2.



12см = 1 дм 2







В реке плавало 35 карасей,  
а щук на 12 меньше.



Задача.

В реке плавало 35 карасей,  
а щук на 12 меньше.

Сколько в реке плавало  
щук?

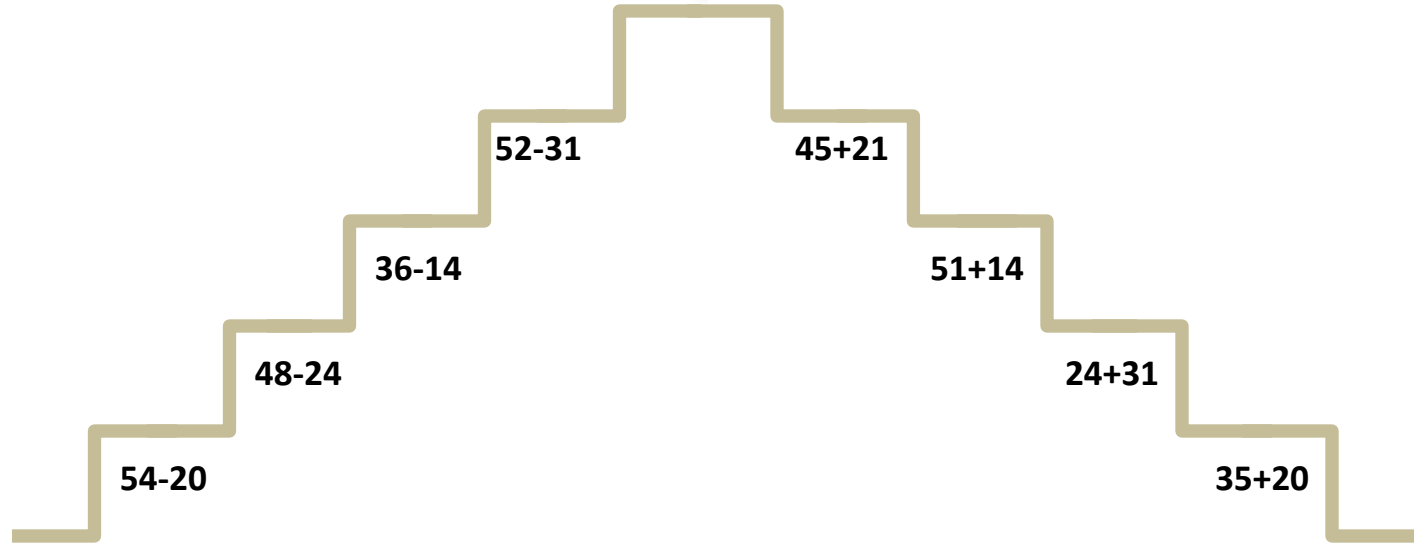




Задача.

В реке плавало 35 карасей,  
а щук на 12 меньше.

Сколько всего рыб плавало  
в речке?









***Всем спасибо!***