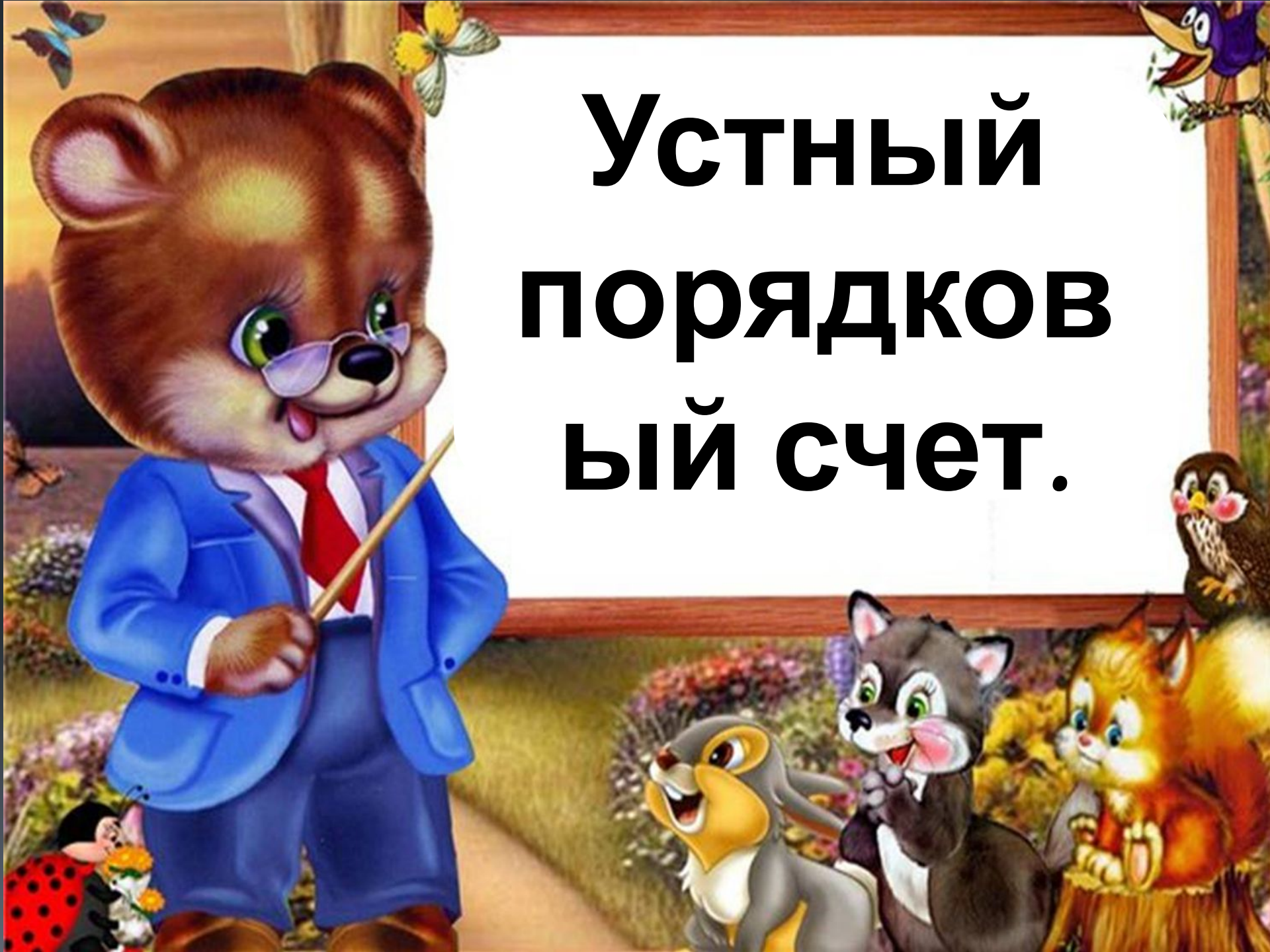


УСТНЫЙ ПОРЯДКОВ ЫЙ СЧЕТ.



СКОЛЬКО КУКОЛ СИДИТ ЗА СТОЛОМ?

3

1

2

0



Умницы.



Цифра нуль-пустое место
Или просто –ничего
Нуль раздулся в знак
протеста,
Чтоб заметили его.

торта лежит на тарелке?

2

0

3

4

1



Правильно.



Эта цифра - единица.
Тонкий носик будто
спица,
Вниз повесила.
Грустна

Сколько шариков летят в небо?

4

3

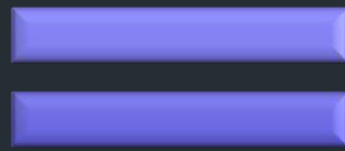
0

1

2



Молодцы.



А вот это цифра два
Полюбуйся какова:
Выгибает двойка шею
Волочится хвост за нею

Сколько коров

0

пасётся на лугу?


1

2

3



Правильно.



А за двойкой – посмотри-
Выступает цифра три.
Тройка- третий из значков
Состоит из двух крючков.

Сколько машинок на картинке?

3

2

0

1

4



Верно.



Кто-то ночью старый
стул
Спинкой вниз
перевернул.

И теперь у нас в

Сколько ручек на картинке?

0

4


1

2

5



Верно.



Посмотри на цифру 5.
Взяв п'ятёрочку за ручку,
Можно как ковшом
черпать
Воду и песок-сыпучку

Сколько кубиков на картинке?

1

4

3


0

6

www.karusel-togs.ru



Молодцы.



Цифра шесть -дверной
замочек:

Сверху крюк, внизу
кружочек

Сколько карандашей на картинке?



0

4


6

5

1

7

Умницы.



Вот семерка кочерга

У нее одна нога.



Сколько груш на картинке?



0

5

4

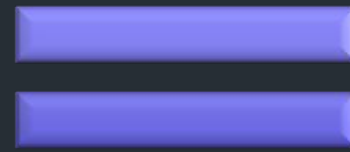
8

3

9

1

Правильно.



Две баранки вместе
сложим,
Выйдет цифра. Это – 8!
8 – вместе два руля,
Или вместе два нуля.



Сколько уточек на картинке?

7

4

6

8

9



Верно.



Цифра девять иль девятка-
Цирковая акробатка:
Если на голову встанет,
Цифрой шесть девятка

ребята!!!

