

Сабақтың тақырыбы:
5-ке көбейту және бөлу кестесі

Сабақтың мақсаты:

1. Білімділігі: 5-ке көбейту және бөлу кестесін түсіндіру.

2. Дамытушылығы: оқушылардың ойлау, танымдық қабілеттерін, есептеу дағдысын, шығармашылық қабілетін дамыту.

3. Тәрбиелігі: оқушыларды шапшаңдыққа, ұқыптылыққа тәрбиелеу.

Психологиялық дайындық.

Оқып білім аламыз,
Біз көңілді баламыз.
Математика пәнінде,
Тапқыр, алғыр боламыз.

Үй тапсырмасын тексеру.


99 беттегі 6 есеп

Өткен сабақты қорытындылау.

Көбейтудің компоненттерін ата.

Бөлудің компоненттерін ата.

Ауызша математикалық диктант.



Жаңа сабақ.

$$5 \cdot 5 = 5 + 5 + 5 + 5 + 5$$

$$5 \cdot 5 = 25$$

$$5 \cdot 6 = 5 + 5 + 5 + 5 + 5 + 5$$

$$5 \cdot 6 = 30$$

$$5 \cdot 7 = \dots\dots\dots$$

$$5 \cdot 7 = 35$$

$$5 \cdot 8 = \dots\dots\dots$$

$$5 \cdot 8 = 40$$

$$5 \cdot 9 = \dots\dots\dots$$

$$5 \cdot 9 = 45$$

$$6 \cdot 5 = 5 \cdot 6$$

$$7 \cdot 5 = 5 \cdot 7$$

$$8 \cdot 5 = 5 \cdot 8$$

$$9 \cdot 5 = 5 \cdot 9$$

$$5 \cdot 5 = 25$$

$$5 \cdot 6 = 30$$

.....

.....

.....

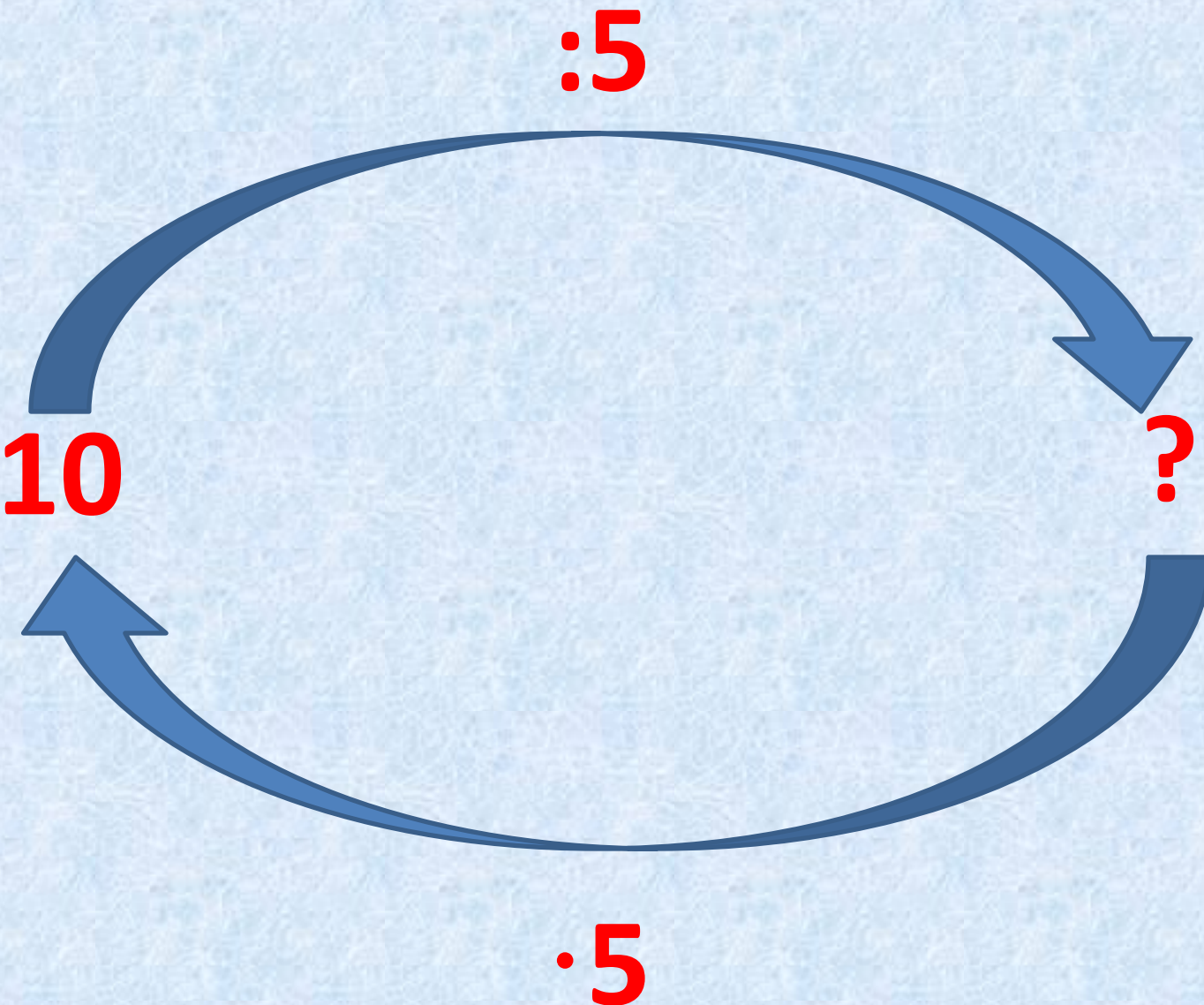
$$5 \cdot 5 = 25$$

$$6 \cdot 5 = 30$$

.....

.....

5-ке бөлу кестесін құрғанда неге 5-ке көбейту кестесі пайдаланылады.



$$25:5=5 \quad 5 \cdot 5=25$$

$$30:5=6 \quad 5 \cdot 6=30$$

$$35:5=7 \quad 5 \cdot 7=35$$

$$40:5=8 \quad 5 \cdot 8=40$$

$$45:5=9 \quad 5 \cdot 9=45$$

$$25 : 5 = 5$$

$$30 : 5 = 6$$

$$35 : 5 = 7$$

$$40 : 5 = 8$$

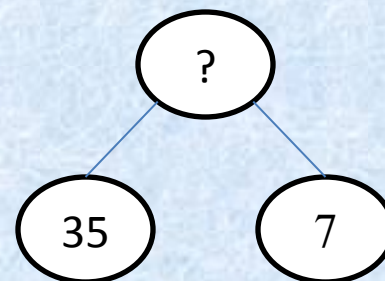
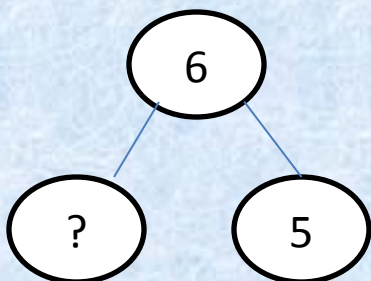
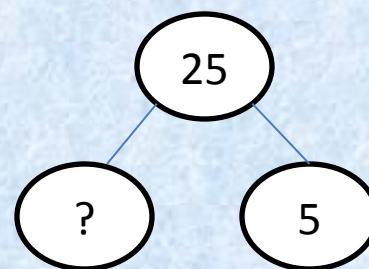
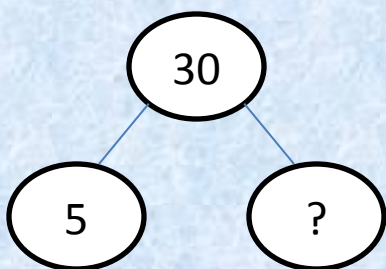
$$45 : 5 = 9$$



“Үлкен ұлының тапсырмасы”

Оқулықпен жұмыс.

5 – есеп. Белгісіз санды ата:





“Саялы орманның” тапсырмасы
6 - есеп


“Ортаншы ұлының
тапсырмасы”
7 – есеп.



Сергіту сәті.

Қостық біз,
Көбейттік біз.

Қатты шаршап кеттік біз,
Қане, тұра қалайық,
Қимылдасын қол-аяқ,
Кірпікті де қағайық,
Терең дем алайық.
Орнымызға отырып,
Сабаққа назар салайық.



“Таза көлді” елінің тапсырмасы
8 – есеп

“Таза көлді” елінің келесі
тапсырмасы. 9 – есеп.

4 · b өрнегінің мәнін тап, мұндағы
b=1;2;5;8;9;0.

Кіші ұлының тапсырмасы

11 – есеп. Қалдықпен бөлуді орында және тексер.

$$6:5=$$

$$7:5=$$

$$8:5=$$

$$9:5=$$

$$11:5=$$

$$12:5=$$

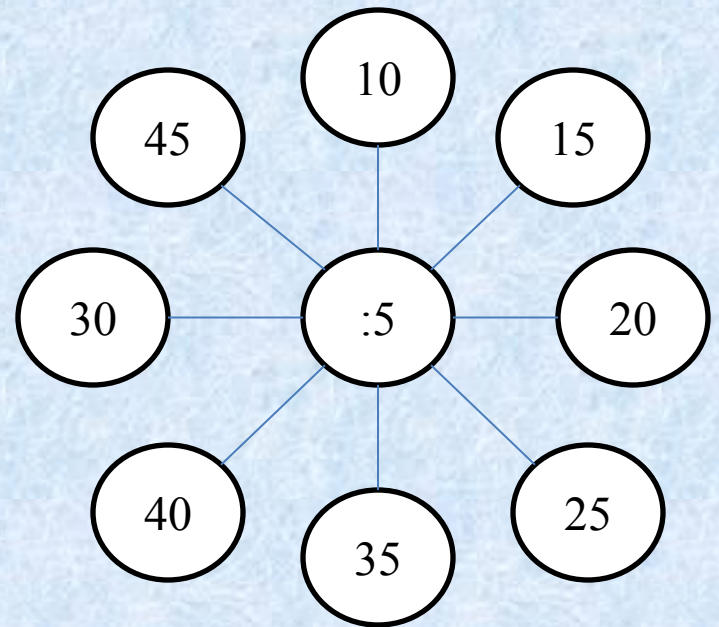
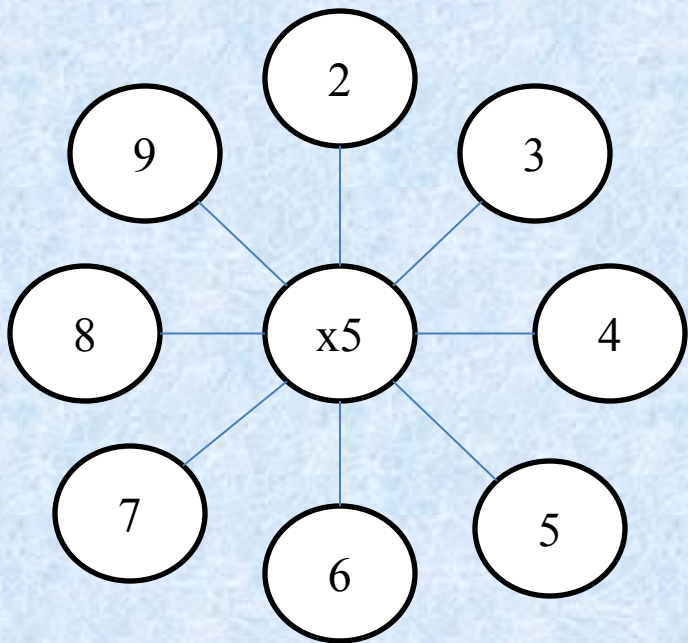




**“Кіші ұлының”
тапсырмасы
12 – есеп.**



“Көрікті жер” елінің тапсырмасы.
14 – есеп.

Қорытындылау.





An open book with a dark red cover is shown from a top-down perspective, lying flat. The pages are white and feature red text. The background is a soft, out-of-focus pattern of light blue and purple. The text on the left page is arranged in two lines, and the text on the right page is arranged in two lines.

**Бағалау.
Үйге тапсырма**

**103 бет
10,13 есептер.**