

Математическая сказка


Составила учитель начальных классов
ГБОУ СОШ №79 г. Москвы
Нечай Е.Е.



Путешествие в сказку
«Царевна-лягушка»

В некотором царстве, в некотором государстве жил-был царь. И был у него сын Иван-царевич. Однажды, когда Иван стал взрослым, царь сказал сыну:

- Сынок, пора тебе жениться.
- Вот что возьми-ка ты....



А что должен взять Иван-царевич, это мы узнаем, если решим примеры и расставим ответы по порядку



$$30 : 30 =$$

$$56 : 14 =$$


$$72 : 12 =$$

$$64 : 32 =$$

$$39 : 13 =$$



$$75 : 15 =$$

Цифры перевернуть получается
СЛОВО



- Как же я возьму в жены лягушку?

- Выполнишь мои задания, тогда я в красу девицу превращусь!



Задачи в стихах



Девять пачек вафель,
В каждой по шесть штук.
Сколько всего вафель
Детям раздадут?



**Семь веселых лягушат
Комаров ловили.
Каждый съел уже по пять.
Как же всех их сосчитать?**



Мышки с поля колосья таскали.
Все они в норки их убирали.
Каждая спрятала их по восемь.
Девять всех мышек.
А сколько колосьев?




**Мы картошку убрали,
Ведроми в мешки ссыпали.
Сорок пять ведер – поровну в девять
мешков.
А сколько ведер в одном?**




Иван-царевич выполнил задания лягушки. Лягушка прыгнула, сбросила с себя лягушечью кожу и обернулась Василисой Прекрасной.

**Ищи меня за
тридевять
земель, в
тридесятом
Царстве у
Кощея
Бессмертного**



«Покажу тебе, где Кощей Бессмертный живет, если выполнишь мои задания».



Выполни деление с остатком.

$32 : 5 =$

$37 : 6 =$

$80 : 9 =$

$70 : 8 =$

$27 : 6 =$

$22 : 5 =$

$76 : 6 =$

$64 : 7 =$



“Я с тобой сражаться не буду, знаю, что ты меня все равно победишь, я эту сказку в детстве читал. Давай договоримся, если сможешь добраться до Василисы Прекрасной – освобожу ее, отпущу вас с миром. Если нет – пеняй на себя. Василису в жены возьму, а тебя в темницу заточу».



Задания Кощея бессмертного:



Реши задачу №1.

**Стекольщику надо вставить
96 стёкол. Он уже
Вставил стёкла в 14 окон, по
3 стекла в каждое.
Сколько стёкол ему ос
лось вставить?**





Реши задачу №2

В альбоме 11 свободных страниц. В него раскладывают 70 открыток, по 6 открыток на каждую страницу. Сколько открыток не поместиться в альбоме?



Подумай и реши задачи:





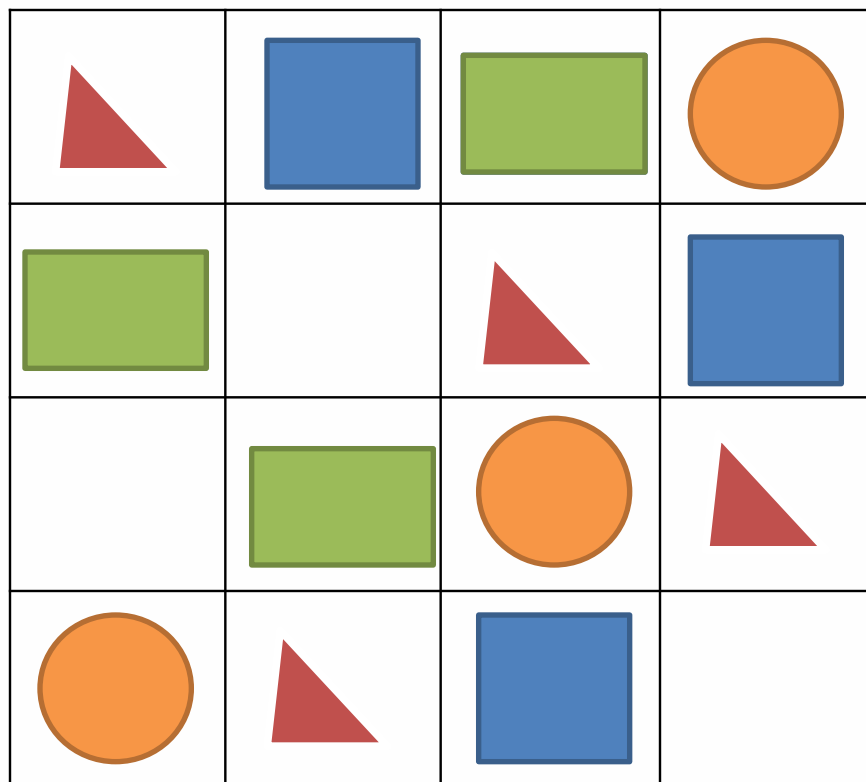
**Кто быстрее долетит до гнезда
гусеница или воробей?**



**Кто быстрее доплывет до
берега гусь или петух?**



Почините ковер-самолет, закройте дыры геометрическими фигурами соответствующей формы. Назовите их и расскажите о них все что знаете.



**ВЕРНУЛИСЬ ИВАН- ЦАРЕВИЧ И ВАСИЛИСА
ПРЕКРАСНАЯ НА КОВРЕ-САМОЛЕТЕ
ДОМОЙ.**

