

**СЛОЖЕНИЕ ОДНОЗНАЧНЫХ
ЧИСЕЛ
С ПЕРЕХОДОМ \square ЧЕРЕЗ
ДЕСЯТОК
ВИДА $+5$**

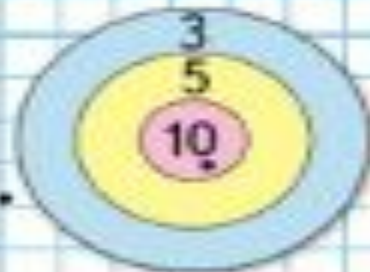


1. $8 + 2 + 6 = 16$ $7 + 3 + 3 = 16$ $14 - 4 - 5 = 5$

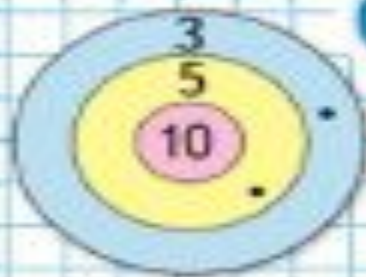
$8 + 2 + 5 = 15$ $7 + 3 + 4 = 14$ $14 - 4 - 4 = 6$

$8 + 2 + 4 = 14$ $7 + 3 + 5 = 15$ $14 - 4 - 3 = 7$

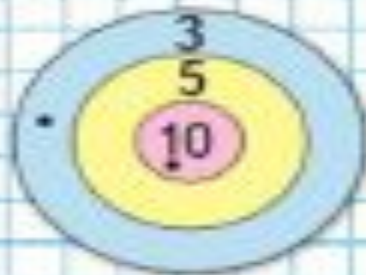




АНТОН



ДИМА



КОЛЯ



Есть 2 бидона: в один входит 7 л, а в другой – 3 л. Как с помощью этих бидонов отмерить 4 л воды?



7 ЛИТРОВ



3 ЛИТРА



Найдите разность

чисел

18 и

16 и

11 и

10
8 и

6
9 и

1

3

3



Найдите сумму

чисел

9 и

7 и

11 и

3

8 и

4

9 и

1

5


2



Дедушка 15




Внук



Красная



Синяя





5 л



10 л



?





www.shutterstock.com · 202491235

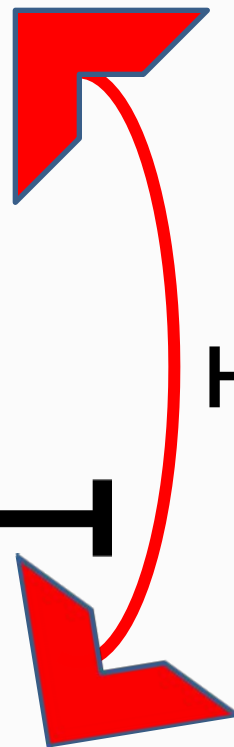
10 ч.



7



на ? >





10 ц.



17 ц.



на ? <





14



?

4



$$\begin{array}{r} 9 + 5 \\ \hline 9 + 1 + \square \end{array}$$

Рассуждая так же, вычисли.

$$\begin{array}{r} 8 + 5 \\ \hline 8 + 2 + \square \end{array}$$

$$\begin{array}{r} 7 + 5 \\ \hline 7 + 3 + \square \end{array}$$

$$\begin{array}{r} 6 + 5 \\ \hline 6 + \square + \square \end{array}$$



4. В первой игре футбольные команды «Заря» и «Буря» забили по 4 гола каждая, а вторую игру закончили со счётом 6 : 5 в пользу команды «Буря». Сколько голов забила каждая команда в двух играх?



Самостоятельная работа

$8+3 =$

$9+5=$

$9+3=$

$7+5 =$

$8+5=$

$7+4=$



Рефлексия

 Всё понял, могу объяснить товарищу.

 Многое понял, но мне ещё нужна помощь.

 Мне трудно было на уроке.



Домашнее задание

Учебник стр. 68 № 3, № 1,

