


Мы пришли сюда учиться,
Не лениться, а трудиться.
Работаем старательно,
Слушаем внимательно







0 4 5 9 3 10 7 2 8 1 6





0 **1** **2** **3** **4** **5** **6** **7** **8** **9** **10**



Решить примеры.

$2+1$

$6-2$

$4+3$

$5-1$

$3+3$

$10-2$





$2+1=3$ (❄️)

$6-4=2$ (❄️)

$4+3=7$ (❄️)

$5-1=4$ (❄️)

$3+3=6$ (❄️)

$10-2=8$ (❄️)



Прочитай по- разному.

$2+1$

$6-2$

$4+3$

$5-1$

$3+3$

$10-2$




Увеличить «+»

ь

«-»

Уменьшить




$$2+1=3 \text{ (A)}$$

$$4+3=7 \text{ (Ч)}$$

$$3+3=6 \text{ (A)}$$

$$6-4=2 \text{ (З)}$$

$$5-1=4 \text{ (Д)}$$

$$10-2=8 \text{ (A)}$$

ЗАДАЧА

Кувечено
(уменьшение числа на
несколько единиц





На картинке 4 зелёных яблока и 2 красных.



ЗАДАЧА

А

- Условие
- Вопрос
- Решение
- Ответ





На картинке 4 зелёных яблока и 2
красных.

Сколько всего яблок?





$$4+2=6 \text{ (я)}$$





$$4+2=6 \text{ (я)}$$

Ответ: 6 яблок.





Физминутк

Вы наверное устали?
Ну тогда все дружно
встали.

Ножками потопали,
Ручками похлопали!

А теперь давайте вместе
Все попрыгаем на месте.

Повертелись,
покрутились

И за парту все уселись.






Глазки крепко закрываем,
Дружно до пяти считаем.



Открываем, поморгаем





Работа по
учебнику.
Стр. 6 № 1.

















$$5+2=7$$












Работа по
учебнику.
Стр. 7 № 1.











$$6-2=4$$



Физминутк



Мы считали и устали,
Дружно тихо мы все встали,
Ручками похлопали – раз,
два, три,
Ножками потопали – раз,
два, три,
Сели, встали, встали, сели,
И друг друга не задели.
Мы немножко отдохнём
И опять считать начнём.



На ёлку повесили **5 синих шаров**,
а **красных на 2 больше**. Сколько
красных шаров повесили на ёлку?





















$$5+2=7 \text{ (ш)}$$

Ответ: 7 красных шаров.



На ёлку повесили **5 синих шаров**,
а **красных на 2 меньше**. Сколько
красных шаров повесили на
ёлку?














$$5 - 2 = 3 \text{ (ш)}$$

Ответ: 3 шара.

Работа в

— Откройте тетрадь № 2 на странице 4. Выполните № 1.

Сколько надо раскрасить треугольников? Как вы будете раскрашивать круги? Сколько всего кругов вы раскрасили?



Молодц



Рефлексии

- Вам понравился урок?
- Какие новые знания получили сегодня на уроке?
 - Как же решать такие задачи?
 - Какие задания вам понравились?
- Оцените свою работу на уроке.



Я отлично
понял(а) тему



Мне нужно ещё
поработать



Я совсем ничего
не понял(а)