

# Составление таблицы

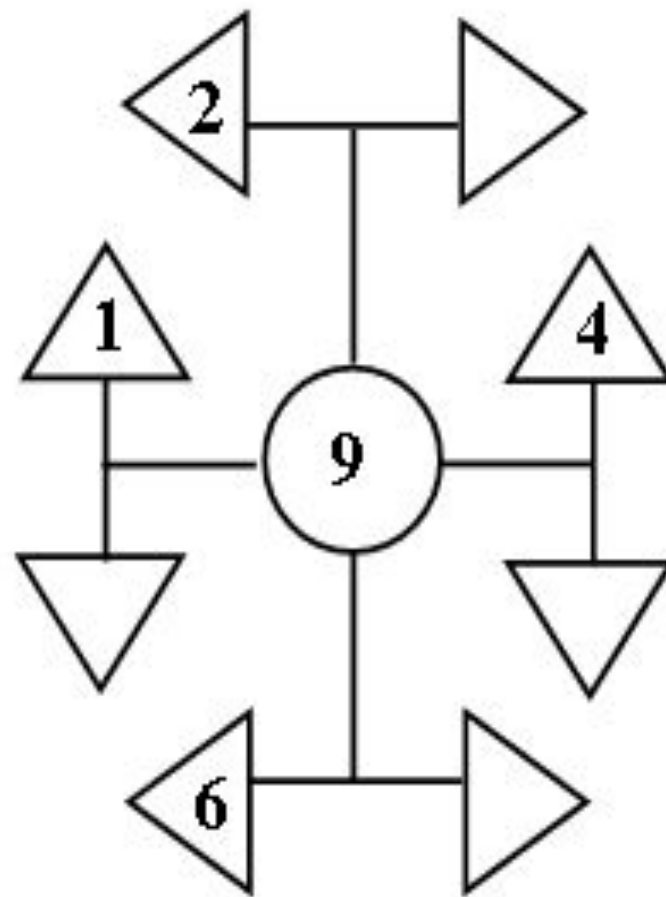
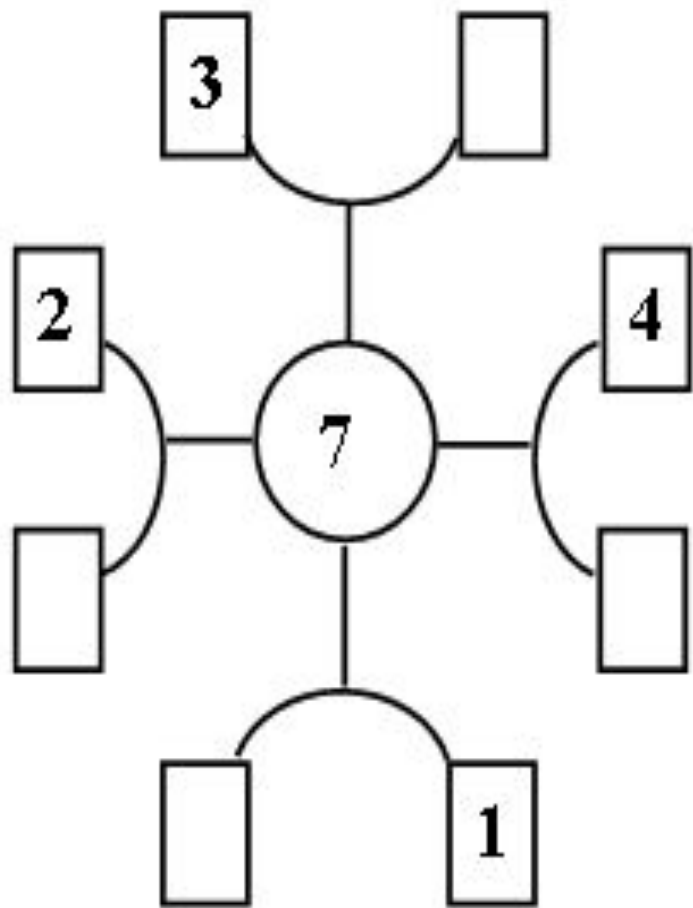
+5, 6, 7, 8, 9

\* 1-А класс

Михалюк Н.В.

МБОУ « Краснознаменная школа »

# Посчитаем!



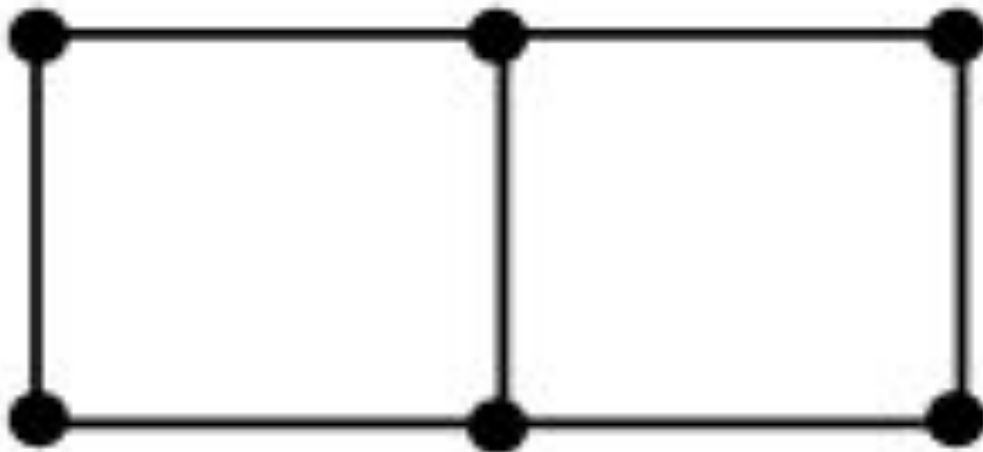
$\square+5$	$\square+6$	$\square+7$	$\square+8$	$\square+9$
<b>1+5</b>				
<b>2+5</b>	<b>1+6</b>			
<b>3+5</b>	<b>2+6</b>	<b>1+7</b>		
<b>4+5</b>	<b>3+6</b>	<b>2+7</b>	<b>1+8</b>	
<b>5+5</b>	<b>4+6</b>	<b>3+7</b>	<b>2+8</b>	<b>1+9</b>

## **Задача 2.**

**Катя придумала 5 примеров на сложение и 4 примера на вычитание.**

**Сколько примеров придумала Катя?  
На сколько больше примеров на сложение придумала Катя?**

**1.**



2.

