




*“Кинорежиссер Аяган Шәжімбаев
атындағы №3 Явленка орта мектебі” КММ*

*Бөлуге берілген
практикалық есептер
шығару*

2 сынып

Дайындаған: Тажина Ж.О.



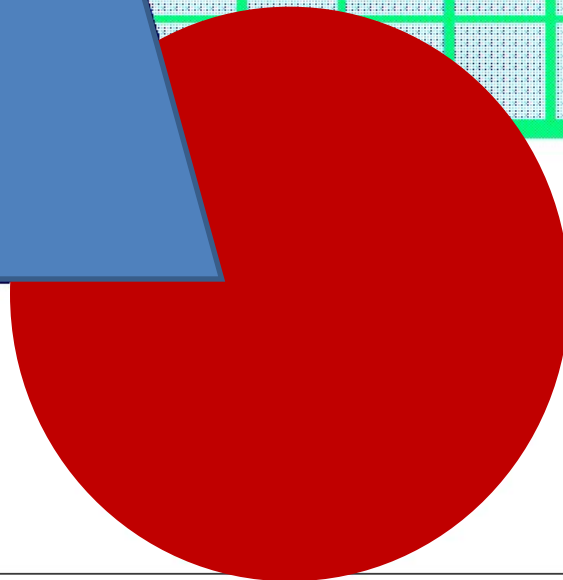
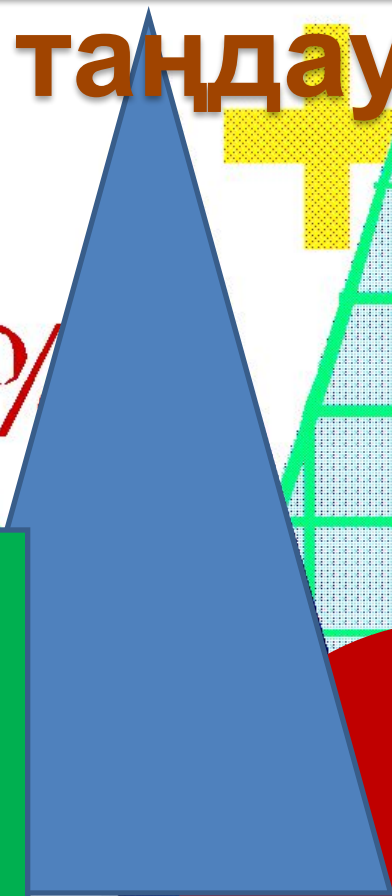


**Жабырқауды білмейміз,
Жақаулықты сүйеміз.
Біз талантты жас ұлан,
Үлгі аламыз жақсыдан**

Фигураларды

таңдау

6.15%



Үй тапсырмасын тексеру

$$652 - x = 14 + 38$$

$$652 - x = 52$$

$$x = 652 - 52$$

$$x = 600$$

$$652 - 600 = 14 + 38$$

$$52 = 52$$

$$B + 140 + 300 = 770$$

$$B + 440 = 770$$

$$B = 770 - 440$$

$$B = 330$$

$$330 + 140 + 300 = 770$$

$$770 = 770$$

$$A - 130 = 420 + 200$$

$$A - 130 = 620$$

$$A = 620 + 130$$

$$a = 750$$

$$750 - 130 = 420 + 200$$

$$620 = 620$$

$$700 + x = 1000 - 100$$

$$700 + x = 900$$

$$x = 900 - 700$$

$$x = 200$$

$$700 + 200 = 1000 - 100$$

$$900 = 900$$



«Бәйге»

ОЙЫНЫ

20



30



40



50



60



70



80



90



100



1 сағатта неше минут бар?

1 сағатта 60 минут бар



1 тәулікте неше сағат бар?

1 тәулікте 24 сағат бар



1 ғасырда неше жыл бар?

1 ғасырды 100 жыл бар



1 метрде неше см бар?

1 метрде 100 см бар



1 дм неше см бар?

1 дециметрде 10 см бар



1км неше метр бар?

1 километрде 1000 м бар



7кг неше грамм бар?

7 килограммда 7000 грамм
бар



5т неше кг бар?

**5 тоннада 5000килограмм
бар**



1 т неше центнер бар?

1 тоннада 10 центнер бар



Наурыздың 15 –і
Сынып жұмысы

Мағынаны тану

Әйгерімде 8 кәмпит бар. Ол інілеріне 2 кәмпиттен берді. Кәмпитті неше інісіне берді?



Мұғалімде 12 дәптер бар. Ол оқушыларға 4 дәптерден таратты. Неше оқушы дәптер алды?



$$12 - 4 - \underbrace{\hspace{4cm}} = 0$$

рет

Әмірде 12 қалам бар. Ол қаламдарды әр қорапқа 6-дан салды. Әмірде неше қорап қалам болды?



$$12 - \underbrace{\hspace{4cm}} = 0$$

рет

Жауабы: қорап.

«Ойлан, тап!»

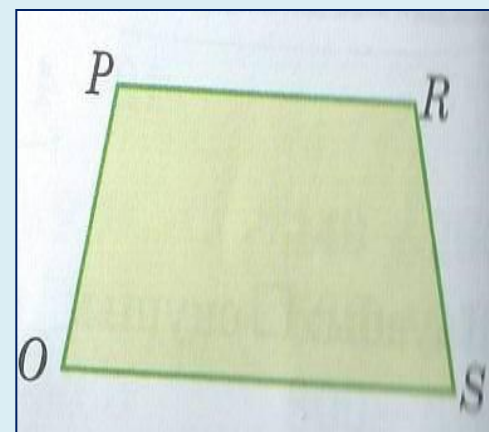
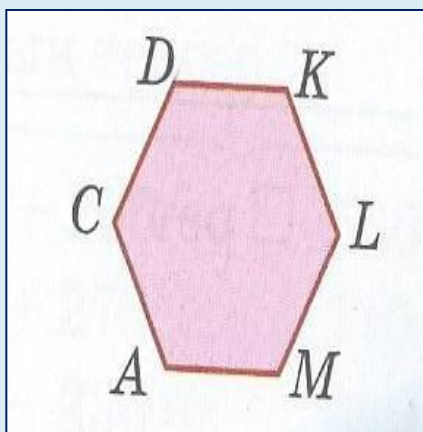
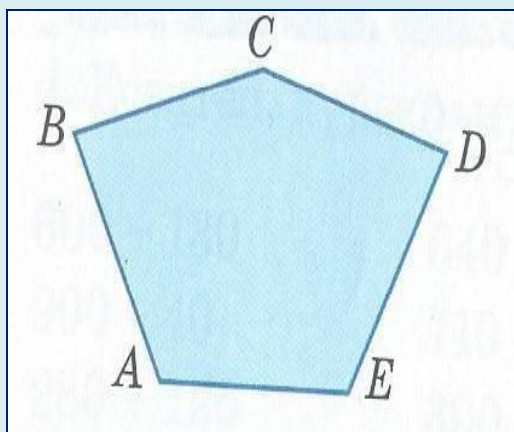

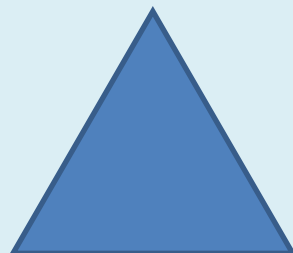

3. а) Фотокөрмеге 700 түрлі түсті, одан 480-і кем ақ-қара фотосурет қойылды. Көрмеде барлығы неше фотосурет болды?

ә) Фото түсіруші 820 фотосурет түсірді. Олардың 260-ы балалардың, 30-ы аңдардың, қалғандары – гүлдердің суреттері. Фото түсіруші неше гүлдің суретін түсірді?

б) Фотосуреттің ұзындығы 15 см, ал ені 9 см. Фотосуреттің периметрін тап.


«Кім жылдам?»

Фигуралардың қабырғаларын өлше және периметрлерін есепте



«Кім тапқыр?»

12 ашықхатты әр хатқалтаға 2-ден салу керек. Неше хатқалта керек?



Жауабы: хатқалта керек.

12 ашықхатты 2 хатқалтаға тең бөліп салу керек. Әр хатқалтаға неше ашықхаттан?




12 ашықхатты әр хатқалтаға 3-тен салу керек. Неше хатқалта керек?

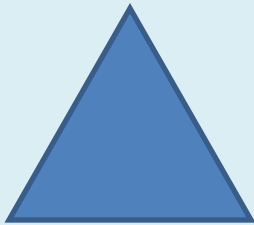


Жауабы: хатқалта керек.

«Ой қозғау»



А) Камила әжесінің үйінде 1 апта 3 күн болды. Камила әжесінің үйінде барлығы неше күн болды?



Ә) Асқар жазда Алакөлде 1 ай және 1 апта демалды. Асқар Алакөлде барлығы неше күн демалды?



Б) Саяхатшы автобуспен 1 тәулік, қайықпен 3 сағат және жаяу 7 сағат жолда болды. Саяхатшы барлығы неше сағат жолда болды?

Үйге тапсырма:

№2 тапсырма, 162- бет

2. Тиісті өлшем бірлікті ата.

$900 \text{ м} < 1 \underline{\hspace{1cm}}$

$80 \text{ см} < 80 \underline{\hspace{1cm}}$

$2 \underline{\hspace{1cm}} > 7 \text{ м } 5 \text{ дм}$

$1 \text{ дм } 2 \text{ см} < 2 \underline{\hspace{1cm}}$

$20 \text{ дм} < 3 \underline{\hspace{1cm}}$

$8 \underline{\hspace{1cm}} < 2 \text{ дм } 1 \text{ см}$



Бағалау:

| Аты - жөні | Үй жұмысы | “Бәйге” | “Мағынаны тану” | “Ойлан, тап!” | “Кім жылдам?” | “Кім тапқыр?” | “Ой қозғау” |
|------------|-----------|---------|-----------------|---------------|---------------|---------------|-------------|
| | | | | | | | |
| | | | | | | | |
| | | | | | | | |
| | | | | | | | |
| | | | | | | | |
| | | | | | | | |
| | | | | | | | |





*Назарларыңызға
рахмет!*

Сау болыңыздар!