

*Қош
келдіңіздер!*





Пәні: Математика

Класы: 1 «Ә»

Тақырыбы: Есеп. Салыстыру.

Пән мұғалімі: Сексенбай
Жазира



Мақсаты:

Білімділік:

Оқушылардың математикалық ойлауын дамыту. Айырмалық салыстыруға және бірнеше бірлік артық санды табуға берілген есептерді шығару білігін дамыту.

Дамытушылық:

Ақыл-ойын, ой-өрісін, тіл байлығын, сөздік қорын дамыту. Танымдылыққа, ізденімпаздыққа баулу. Пәнге деген қызығушылығын, белсенділігін арттыру.

Тәрбиелік:

Оқушылардың өз ойын толық, дұрыс жеткізе білуге, тапқырлыққа тәрбиелеу. Достық қарым-қатынас, ұжымдық іс -әрекет тәрбиесін беру.



Жас
математиктер

Жұмбақтар сыры

Артығын тап


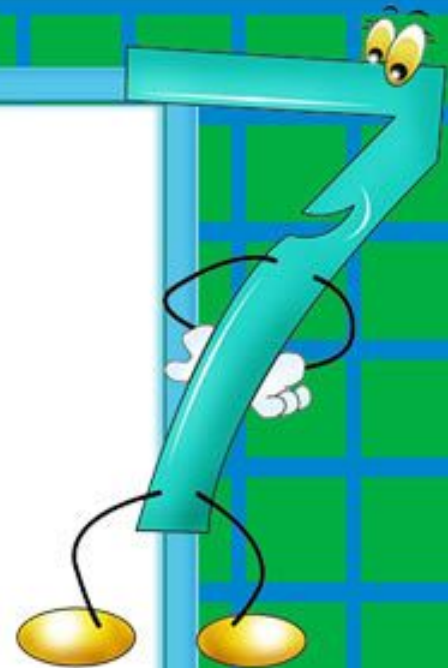

Қызықты есептер

Сандар сиқыры

БІ
ЛІ
М

ПИ
РА
М
ИД
АС
Ы

Сиқырлы сандар




1

© www.ClipProject.info


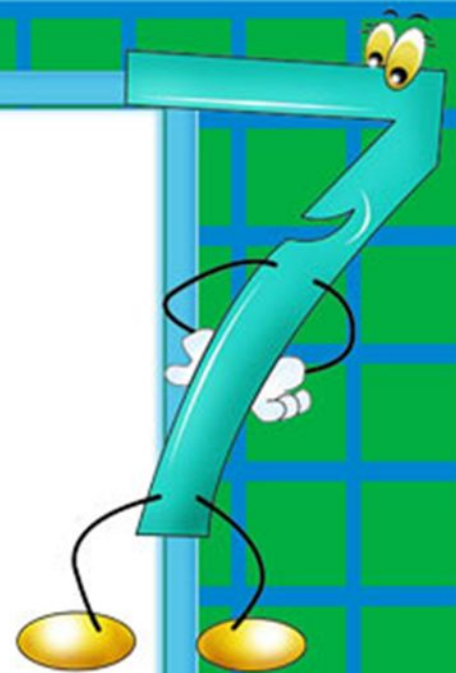
Математикалық диктант

1. 7 – бұл 4 және тағы қай сан?
2. 6 – ны 4 – ке азайтса болады ...
3. 7 және 9 сандарының арасында тұратын сан...
4. Бірінші қосылғышы 2, екінші қосылғышы 3.
Қосындының мәні тең...
5. Азайғышы 9, азайтқышы 5. Айырманың мәні тең...
6. 8 саны 7-ден қанша артық?
7. 9 санынан 2-ге кем сан...
8. 9 санынан кейін келетін сан ...
9. 6-ны 3-ке арттырса болады...
10. 7 санының алдында тұратын сан...





ҚЫЗЫҚТЫ есептер





10

? жас үлкен

4





?

6 жас үлкен



4

А нұсқасы



10

? жас үлкен

4

Ш: Ағасы – 10 ж ? жас үлкен

Қарындасы – 4 ж

Ш: $10 - 4 = 6$

Ж: Ағасы 6 жас үлкен.

Ә нұсқасы



?

6 жас үлкен

4


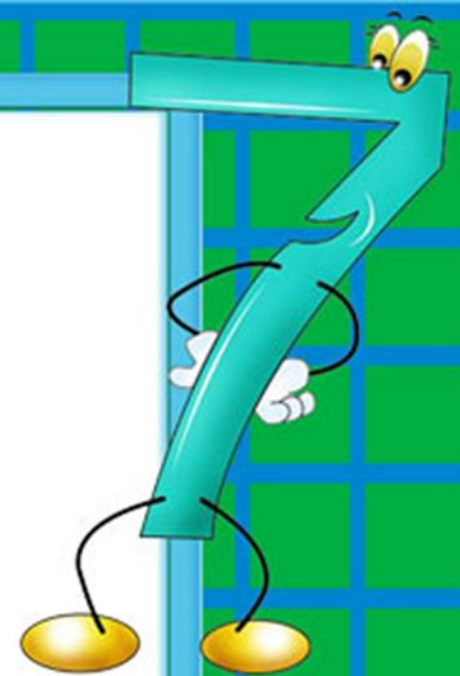

Ш: Қарындасы – 4 ж

Ағасы - ?

Ш: $4 + 6 = 10$




Ж: Ағасы 10 жаста.

6 жас үлкен



Артығын
тап

1



||

$$6=6$$

$$7=7$$

$$3=5$$

$$4=4$$

$$10=10$$

||
|


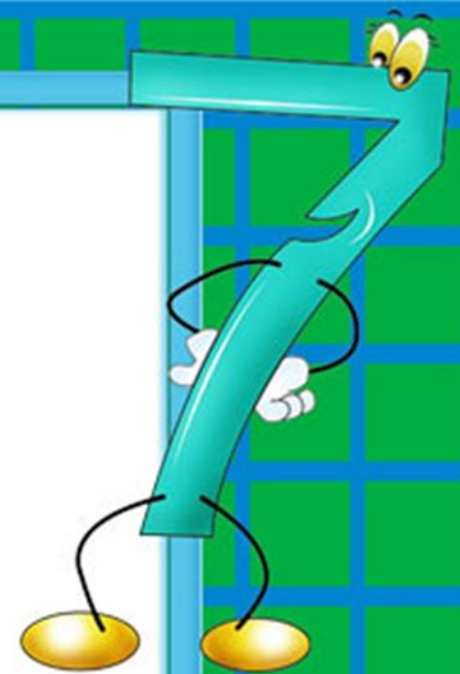

$$6 > 3$$

$$8 = 8$$

$$9 < 10$$

$$2 < 5$$

$$7 > 1$$



Жұмбақта
р
сыры




*Шығармақ боп кеше есеп,
Жиналған-ды бес есек.
Үшеуі ұйықтап отырды,
Ынталысы неше есек?*


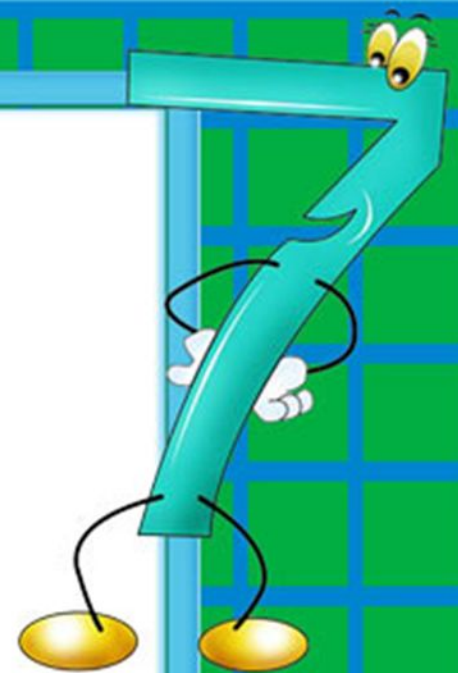



*Табақта төрт алма,
Қолында бес алма.
Қосқанда барлығы,
Болады неше алма?*





**Жас
математиктер**





4. Салыстыр:

$$4 + 4 = 9 - 1$$

$$8 - 3 < 7 + 2$$

$$4 - 3 > 3 - 3$$

$$10 - 5 < 4 + 3$$

$$9 + 1 = 6 + 4$$

$$5 + 2 = 7 - 0$$





Миға шабуыл

**Себетте 4 алма бар. Оны 4 досыңа
бір-бірден және себетте 1 алма
қалатындай етіп бөліп бер.**



Жас
математиктер

Жұмбақтар сыры

- Артығын тап
- Қызықты есептер
- Сандар сиқыры

БІ
ЛІ
М

ПИ
РА
М
ИД
АС
Ы

Үйге тапсырма



№3

Ұзындығы 4 сантиметрден артық, бірақ
8 сантиметрден кем кесінділер сыз. Неше
кесінді сыздың?



Жарайсыңда
р!



Сендерге
ризамын!



Назарларыңызға
рахмет!





