

Психологиялық дайындық



**Сонау-сонау алысқа, жүзсін десең кемелер.
Тылсым сырлы ғарышқа, ұшсын десең денелер.
Жасау үшін бәрін де
Математика
Ең маңызды ғылым бұл
Сондықтан да, сондықтан да
Сол ғылымның тілін біл!**



Топқа бөлу



1 топ. «Жылдамдар»



2 топ. «Жүйріктер»



3 топ. «Мықтылар»

4 топ. "Алғырлар"



«Миға шабуыл». Үй тапсырмасын сұрау.

1 топ.

$$5403 \cdot 21 =$$
$$4068 \cdot 74 =$$

113463
301032

2 топ

$$48432 : 6 =$$
$$4964 : 34 =$$

8072
146

3 топ.

$$3506 \cdot 12 =$$
$$16827 : 3 =$$

42072
5609

4 топ.



$$615483 + 4978 =$$
$$738217 + 63895 =$$

620461
802112



Сабақтың тақырыбы:


Өткенді қайталау



Сабақтың мақсаты: Үш таңбалы сандарға көбейтуге үйрету, оқушылардың есептеу дағдысы мен әртүрлі есептерді шығару қабілетін жетілдіру;
Күтілетін нәтиже: Сандар әлемін түсінеді.
Есептің шарты арқылы есептің тез шешілу жолдарын қарастыра алады.
Өлшем бірліктермен сауатты жұмыс жасап біледі.



Қазақ киеге үлкен мән берген халық.



Қазақ халқы үшін 7 саны киелі сан: 7 ата, 7 қабат аспан, 7 ғашық, 7 жұт, 7 құт, 7 қазына, аптада 7 күн және т.б. бар

№1 /4 топқа 4тапсырма/

1 топ.

$$2413 * 210 =$$

$$2413 * 201 =$$

506730
485013

2 топ.

$$2521 * 430 =$$

$$2521 * 403 =$$

1084030
1015963

3 топ.

$$8321 * 120 =$$

$$8321 * 102 =$$

998520
848742

4 топ.

$$7421 * 320 =$$

$$7421 * 302 =$$

2374720
2241142


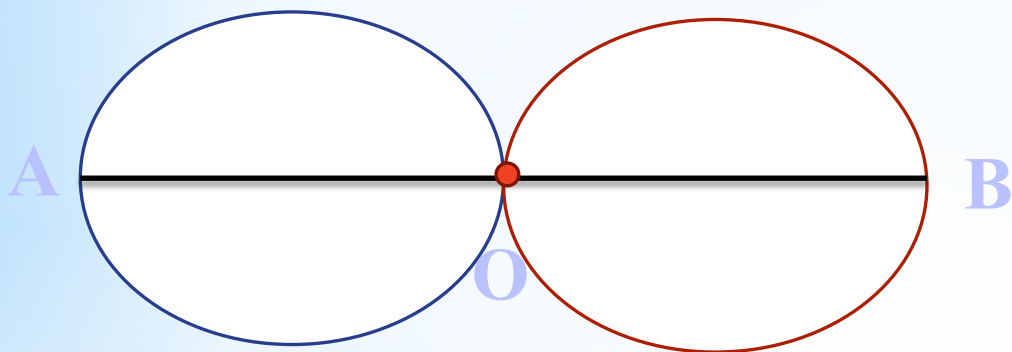




Қожа Ахмет Яассауи кесенесі

«Ой қозғау» . 2 есеп.

Ұзындығы 4см АВ кесіндісін сыз.Кесіндінің бойынан О нүктесін белгіле.О нүктесін центрі етіп алып, радиустары ОА,ОВ кесінділеріне тең екі шеңбер сыз. Шеңберлердің радиусын тап.Екі шеңбердің неше қиылысу нүктесі бар?



2 кереметтің есебі 4 есеп.

1 топ және 2 топ

а) Таразының бір табағында массасы 3 кг және 2 кг кір тасы, екінші табағында массасы 1 кг кір тасы және қауын тұр. Қауынның массасын тап.

3 топ 4 топ

ә) Таразының бір табағында массасы 500 г үш кір тасы және бір бөлік ірімшік тұр. Екінші табағында массасы 3 кг кір тасы тұр. Бір бөлік ірімшіктің массасын тап.



*Егер жауаптарың дұрыс болса,
Қазақстанның екінші кереметі - ...*

Тайқазан



3 кереметтің есебі. “Кім жылдам”
Барлық топтарға бірдей 5 есеп

$$43\ 070 + 7\ 140 : 51 * 506 = 113\ 910$$

$$78\ 050 + 94\ 500 : 630 * 608 = 169\ 250$$

$$(7\ 368 : 24 + 145) * 27 = 12\ 204$$

$$(3\ 090 : 15 + 219) * 37 = 15\ 725$$



Егер жауаптарың дұрыс болса, Қазақстанның үшінші кереметі - ...

Айша бибі мазары



4 керемет “Сергіту сәті”

1, 2, 3, 4, 5, 6, 7, 8, 9 сандарның ішінде
өзіңе жақын, ұнататын саныңды таңда.



Ойлаған сандарың нені білдіреді?

- 1 саны** батылдар саны, қашанда тыныш жүріп асықпауға тырысады.
- 2 саны** сенімсіздікті білдіреді, қорқақ болғанымен өз ісіне ұқыпты жандарға тән.
- 3 саны** ашық, көңілді ортаны қалайтындар мен шымырлар саны.
- 4 саны** жұмбақ сан, мінезі жасырын адам.
- 5 саны** тәуекелге бел буғыш, еркін жүріп-тұруды қалайтын, шытырман оқиғаны ұнататындар саны.
- 6 саны** қыз балаға тән, өте сәтті сан, жан-жағын бағамдай алатын, мінезі салмақтыларға сәйкес.
- 7 саны** әсершіл, арманшыл адамдарға сәйкес келеді, олармен жолда тіреспеген абзал.
- 8 саны** басшылыққа ұмтылатындар саны. Бұл санның иелері өзінің бар мүмкіндіктерін көрсетіп, жария еткісі келіп тұратындар.
- 9 саны** қашан да көмекке ұмтылып тұратын, ешқашан жарты жолда тастамайтын, жақсы жолдас бола алатындарға тән сан.


5 кереметтің есебі 7 есеп

1 топ $(x - 5\,428) + 5\,428 = 30\,523$

2 топ $(17\,256 - 12\,136) + x = 17\,256$

3 топ $(x + 200) - 470 = 200$

4 топ $6\,582 - (x - 6\,582) = 6\,582$



Егер жауаптарың дұрыс болса, Қазақстанның бесінші кереметі - ...

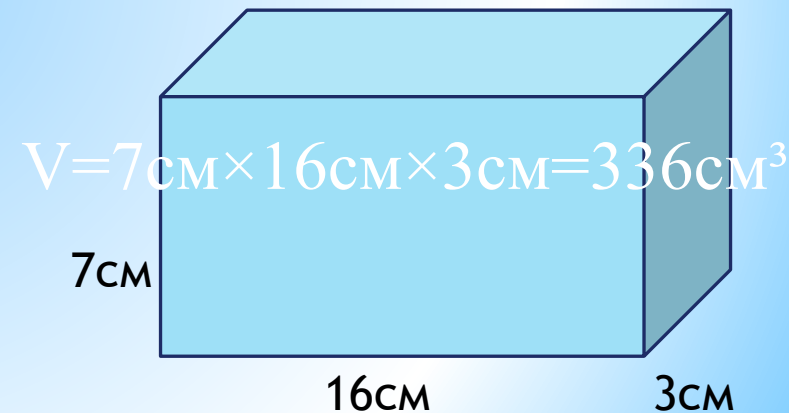
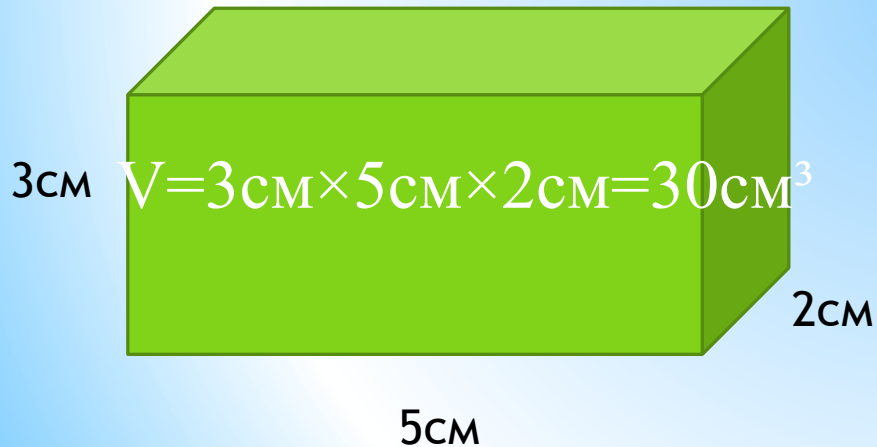
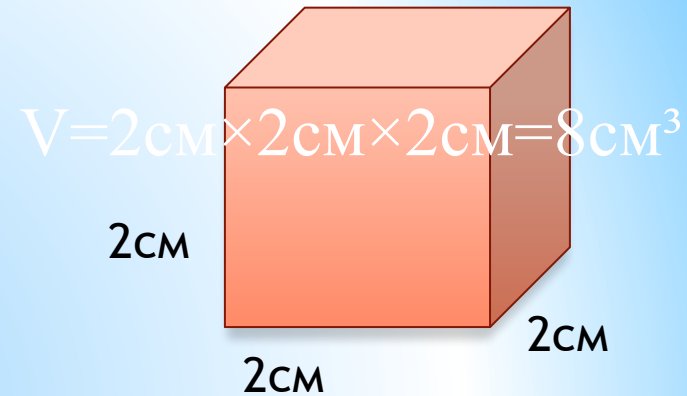
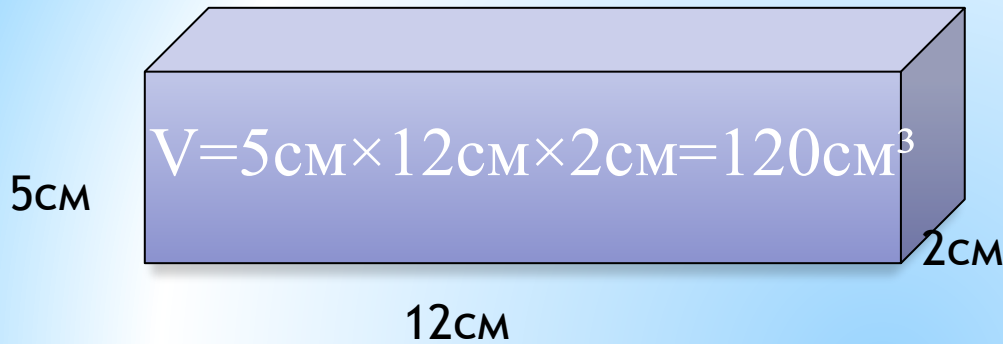
АЛТЫН адам



6 кереметтің сұрағына жауап беріңдер

Барлық топтарға

№ 7 Әр параллелепипедтің көлемін есепте.



Егер жауаптарың дұрыс болса, Қазақстанның алтыншы кереметі - ...

Домбыра



7 керемет. Сабақты қорытындылау.

Мақалдарға сан қою арқылы толықтырыңдар:

1..... саусақ бірдей емес.

2.Жігітке өнер де аз.


3. қырлы, сырлы.

4..... жақсы дос..... туыстан артық

Егер жауаптарың дұрыс болса, Қазақстанның жетінші кереметі - ...

* Күлтегін ескерткіші





**“Қалт етпей
қағып ал,
жауабын тез
тауып ал”**



“Жүйріктер” тобы

1. Бір үйде тұрады екен елу батыр,
Үй сыртына сүйкенсе – ақ өліп жатыр.
2. Қос құлақты, 100 тісті, жүзінен бірақ із түсті.



“Мықтылар” тобы

1. Екі аяқты бір ізді, үстіне адам мінгізді?
2. Нәрселерді санағанда
Керек ол бізге ауадай.
Айтыңдаршы, бұл қандай сан,
Жан – жағыңа қарамай?



“Жылдамдар” тобы

1. Тышқаннан басқа батпаған, бір шланг, төрт баған.
2. Мың найзалы жалғыз батыр, жауларын алғызбай тұр



“Алғырлар” тобы

1. Егіз қайық бой – бастары тең өскен,
Іске дайын, бұтақтары бес –бестен.
2. Екі ағайынды, екеуі де бір үйде,
Бірін – бірі көрмейді.



Оқушыларды бағалау Гүл шоғы

*Бәрекелді, балалар!
Бәріңе бестік баға бар.
Азамат боп өсіңдер
Ел қадірін бағалар.*



Рефлексия

Менің сабақтағы көңіл күйім жақсы/ төмен

Маған сабақ ұнады/ ұнамады

Топта жұмысым нәтижелі болды/ нәтижелі болмады

Үйге тапсырма

Күнделікті енді алайық,

Үй тапсырмасын жазайық

Математикадан алған білімді

Ұмытпай есте сақтайық.

№ 8 есеп 47 бет





Назарларыңызға
рахмет!

