

Тренажёр по математике

« Составные задачи »

2 класс



**Презентацию подготовила:
Коданева Любовь Владимировна,
учитель начальных классов
СОШ № 26 г. Сыктывкар**

Инструкция



- 1) Прочитай задачу внимательно!
- 2) Подумай:
Что дано в условии? Что надо узнать? Можно ли сразу ответить на вопрос задачи? Что сначала надо найти?
- 3) Составь план решения задачи.
- 4) Найди в левом нижнем углу маркер красного цвета, кликни на него мышкой. Выбери ручку или фломастер.
- 5) Запиши решение задачи в поле «Решение».
- 6) Для проверки снова иди в левый нижний угол, кликни на маркер красного цвета, выбери стрелку. Подведи стрелку на надпись «Проверка»; когда появится рука, кликни мышкой.
- 7) Чтобы перейти к следующей задаче кликни на стрелку в правом нижнем углу.
- 8) После завершения работы, при закрытии тренажёра, появится окошко «Сохранить рукописные записи?», нажми на «Удалить».



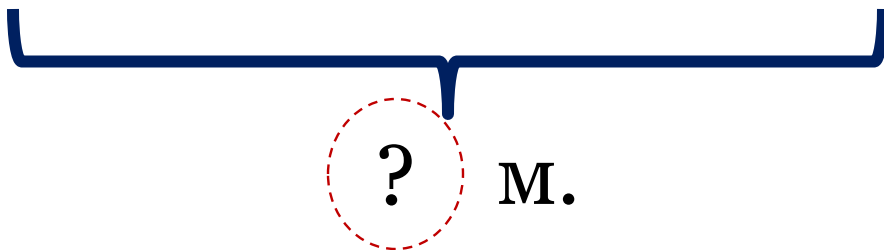
У Сережи 25 легковых машинок, а грузовых на 13 меньше. Сколько всего машин у Сережи?



- 25 м.



· ?, на 13 м.



Решение

Провер

1) $25 - 13 = 12$ (м.)

2) $25 + 12 = 37$ (м.)

Ответ: 37 машин.



Витя на прогулке собрал для гербария 32 кленовых листа, а дубовых - на 18 листа больше. Сколько всего листьев собрал Витя?



Решение

Проверка

1) $32 + 18 = 50$ (л.)

2) $32 + 50 = 82$ (л.)

Ответ: 82 листа.



Петя и Валя читали сказку.
Петя прочитал 38 страниц,
а Валя на 25 страницы
больше. Сколько всего
страниц прочитали ребята
вместе?



Download from
Dreamstime.com
This watermarked comp image is for previewing purposes only.

44119984
Dzhamila Ermakova | Dreamstime.com

*Решен
ие*

Провер

ка

1) $38 + 25 = 63$ (стр.)

2) $38 + 63 = 101$ (стр.)


Ответ: 101 страница.



Немного отдохни!



Мама купила 16 красных яблок, а зеленых на 28 яблока больше. Сколько всего яблок купила мама?



на 28
больше

16



*Решен
ие*

Провер

1) $16 + 28 = 44$ (яб.)

2) $16 + 44 = 60$ (яб.)

Ответ: 60 яблок.



Девочки прыгали через скакалку. Аня прыгнула 19 раз, Оля на 12 раза больше, чем Аня, а Рита на 14 раза меньше, чем Оля. Сколько раз прыгнула через скакалку Рита?



Решение

Проверка

- 1) $19 + 12 = 31$ (р.) – Оля.
 - 2) $31 - 14 = 17$ (р.)- Рита
- Ответ: 17 раз.**



В шкатулке лежало 52 белых пуговиц, синих – на 26 меньше, чем белых, а красных на 14 больше, чем синих. Сколько красных пуговиц было в шкатулке?



Решен

Проверка

- 1) $52 - 26 = 26$ (п.) – синих.
 - 2) $26 + 14 = 40$ (п.) - красных
- Ответ: 40 пуговиц.**





В соревнованиях по футболу команда «Спартак» забила 17 мячей, а команда «Динамо» на 8 мячей больше. Сколько всего мячей было забито в этой игре?

Решение

Проверка

1) $17 + 8 = 25$ (м.)

2) $17 + 25 = 42$ (м.)


Ответ: 42 мяча.





<http://videouroki.net>

Запиши решение задачи в поле «Решение» по действиям и выражением. Проверь в поле «Проверка».



В школьную столовую привезли 35 кг помидоров и 15 кг огурцов. На завтрак ученикам раздали 16 кг овощей. Сколько кг овощей осталось?

Решение

Проверка

- 1) $35 + 15 = 50$ (кг)-привезли
 - 2) $50 - 16 = 34$ (кг) - осталось
- Ответ: 34 кг.**
 $(35 + 15) - 16 = 34$ (кг)





В школьном дворе росло 12 саженцев деревьев. Ребята посадили ещё 15 саженцев клёна и столько же саженцев липы . Сколько всего саженцев будет расти в школьном дворе?

Решение

Проверка

- 1) $15 + 15 = 30$ (с.) – ещё посадили.
 - 2) $12 + 30 = 42$ (с.) - будет расти
- Ответ: 42 саженца.**

$$12 + (15 + 15) = 42 \text{ (с.)}$$



В вазе лежало 12 шоколадных конфет и столько же карамелей. Когда съели несколько конфет, осталось 10 конфет. Сколько конфет съели?



осталос

10

Решен

съел

?

Проверка

1) $12 + 12 = 24$ (к.) – было всего

2) $24 - 10 = 14$ (к.) - съели


Ответ: 14 конфет.

$12 + 12 - 10 = 14$ (к.)





В конструкторе «Лего» 60 деталей.
Для строительства крепости ребята
взяли сначала 23 детали, а потом ещё
16 деталей. Сколько деталей
осталось в конструкторе?



*Решен
ие*

Проверка

1) $23 + 16 = 39$ (д.) – всего взяли.

2) $60 - 39 = 21$ (д.) - осталась

Ответ: 21 деталь.

$60 - (23 + 16) = 21$ (д.)



Составь по краткой записи задачу и реши её



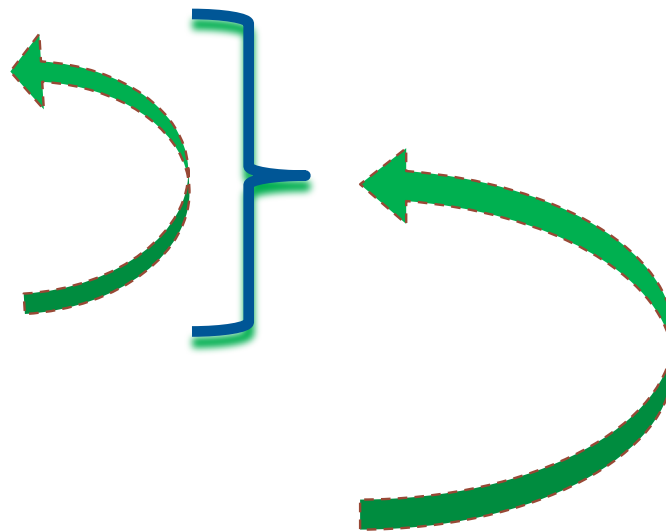
- 21 ш.



- ?, на 5 ш. >, чем



- ?, столько же



Решен

Проверка

- 1) $21 + 5 = 26$ (ш.) – желтых.
 - 2) $21 + 26 = 47$ (ш.) - розовых
- Ответ: 47 шариков.

$$21 + (21 + 5) = 47 \text{ (ш.)}$$



Составь по краткой записи задачу и
реши её



- 16 м.



- ?, на 8 м. меньше, чем



- ?, на 7 м. больше, чем



Решение

Проверка

1) $16 - 8 = 8$ (м.) –
волейбольных.

2) $8 + 7 = 15$ (м.) –
футбольных

Ответ: 15 мячей.

$(16 - 8) + 7 = 15$ (м.)

