

Сабақтың барысы:

1. Ұйымдастыру кезеңі.

2. Психологиялық тренинг

Сендерге табыс тілеймін,

Жарық пен жылу, денсаулық!

Бір – біріңе сендер де, тілеңдер біраз
жақсылық. –

**Бір-біріңнің қолдарыңнан ұстап,
көздеріңді жұмып, бүгінгі сабаққа
сәттілік тілейік.**

Үй тапсырмасын тексеру

№1

$$34 * 4 = 136 \quad 250 : 5 = 50$$

$$56 * 4 = 224 \quad 500 : 5 = 100$$

$$20 * 4 = 80 \quad 550 : 5 = 110$$

$$210 * 4 = 810 \quad 750 : 5 = 150$$

$$33 * 4 = 132 \quad 350 : 5 = 70$$

$$120 * 4 = 480 \quad 450 : 5 = 90$$

№2

Алма ағашы-15

Алмұрт -? \uparrow 2 есе артық

Өрік ағашы- сонша ?

$$1)(15 * 2) + 15 = 45$$

Ж: Бақта 45 өрік ағашы отырғызылды

Кіріспе әңгіме

- Сәуір айында қандай мереке болады?
- Біздің елде ғарышқа қай қаладан ұшады?
- Ғарышкерлер не үшін ғарышқа ұшады?
- Тұңғыш ғарышкер кім?
- Қандай қазақ ғарышкерлерін білесіңдер?
- Қазақстан жер көлемінен дүние жүзінде нешінші орын алады?
- Күн жүйесінде қанша планета бар?

Осы сұрақтарға жауап ала отырып, біз сол ғарышкерлер ағаларымыз сияқты аспан әлемін өз білімдерімізбен зерттеп көрейік.

- Бүгінгі сабағымыз саяхат сабағы
«Ғарышқа ұшамыз».
- Ол үшін экипажға отырып өзіміздің мақсатымызды айтамыз. Біздің мақсатымыз: «Болашаққа жол бастау»

Командир: Экипаж ұшуға дайындал
Алыс айға Марсқа
Біз ұшамыз ғарышқа

Өткен сабақты қайталау

Сандарды разрядтық қосылғыштарға
жіктеу


78,780,708,340,304,430,43,403.


Жаңа сабақ:

Сабағымыздың тақырыбы: Үш таңбалы санға бір таңбалы санды көбейтудің және бір таңбалы санға бөлудің тәсілдері.

Сабағымыздың мақсаты: Үш таңбалы санға бір таңбалы санды көбейтудің және бір таңбалы санға бөлудің тәсілдері туралы білімдерін қалыптастыру, оқушыларды есеп шығара білуге машықтандыру, оқушылардың логикалық ойлау қабілетін дамыту.

Барлыгымыз экранға назар аударайык





Сергіту сәті



www.tolekova.com



"Вагондар" ойыны

№4

5,8,2 цифрларынан ең кіші және үлкен үш таңбалы сан құрастыр. Олардың айырмаларын тап. Жауапты пайдаланып, ең үлкен және ең кіші сандар жаз. Олардың айырмаларын тап

Есепті оқы, талда №5

4 йогурт үшін 408 теңге төленді. Осындай йогурттың біреуі қанша тұрады?


Шартын қысқаша жаз



- 480 теңге



-?



Логикалық тапсырма

Суреттегі барлық сағат әртүрлі уақытты көрсетіп тұр. Бірақ бір сағат қана дұрыс уақытты көрсетіп тұр. Егер сағаттың біреуі 2 сағатқа кешіккені, тағы біреуі 5 минутқа алдыға кеткені, үшіншісі 1 сағат 10 минутқа алдыға кеткені белгілі болса, қай сағат дұрыс жүріп тұрғанын тап.



а)



ә)



б)



в)


Сабақты қорытындылау

Ойын ойнау “Кірпіге көмектес”

“Үйіне жетуге көмектес”

“Мысалдар шығарайық”

Тест



Сабақты бекіту

Видео ролик арқылы бекіту

- Қазақстан жер көлемінен дүние жүзінде тоғызыншы орын алады.

Үйге тапсырма

№6,7 134-135 бет

Бағалау

**Тындағандарыңызға
рахмет!**

