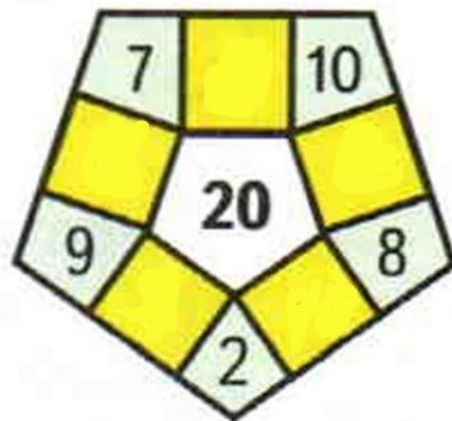
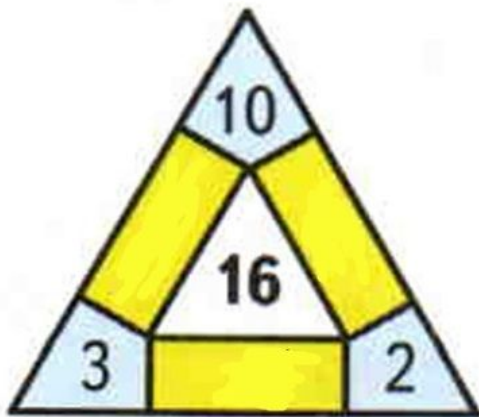
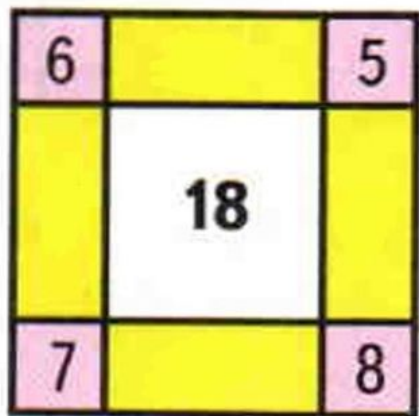


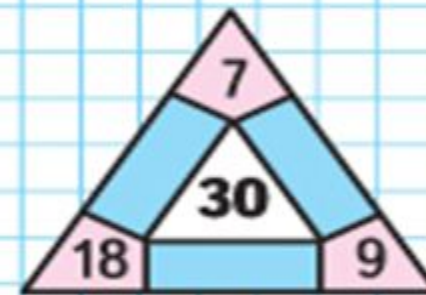
Математика 3 класс. Устный счет.



Занимательные рамки



ЗАНИМАТЕЛЬНЫЕ РАМКИ:



НАЗОВИ НОМЕР ТОЙ
ПОСЛЕДОВАТЕЛЬНОСТИ ЧИСЕЛ, КОТОРАЯ
СОСТАВЛЕНА ПО ПРАВИЛУ:
“КАЖДОЕ СЛЕДУЮЩЕЕ ЧИСЛО НА 3 МЕНЬШЕ
ПРЕДЫДУЩЕГО”

1) 8, 11, 14, 17, 20

2) 32, 29, 26, 23, 20

3) 48, 45, 43, 40, 38, 35

По каким правилам составлены остальные ряды ?



Найди среди записей уравнение и реши его.

$$34 + x$$

$$16 + 13 = 29$$

$$x - 6 = 54$$

$$78 - 25 = 53$$

$$x + 3 > 2$$

$$x - 19$$

Поставь знак $>$ $<$ $=$

$7 + 7$  $7 + 7 + 7$

$9 + 9 + 9$  $9 + 9$


2 см  $1 \text{ см } 8 \text{ мм}$

$3 \text{ см } 6 \text{ мм}$  4 см

На клумбе расцвели 15 красных астр, розовых на 3 меньше, а белых астр столько, сколько красных и розовых вместе. Сколько белых астр?



15 астр



?



? на 3 астры меньше



$$В - 8 = 54$$

уменьшаемое

вычитаемое

разность

