

Математика

1 - сынып

Тақырыбы: Пысықтау

Мақсаты:

Өткен білімдерін еске түсіру.

Ойлау қабілеттерін арттыру,

тез есептеу дағдыларын

жетілдіру.






Шаттық шеңбері

*Қуанамын мен де,
Қуанасың сен де,
Қуанамыз бәріміз,
Арайлап атқан күнге!*

Тура және кері санау.





Жануарлар достығы.



Ал қасқыр оларға тиісіп, күн
көрсетпейді екен.



Құндызға берілген тапсырма



ҚЫС




↓ ▲ ○ ● ◐ ✱
-20° -30°

КӨКТЕМ



○ ● ◐ ≡ ▲ ☐
↑ ↓ ← +10°, 20°

ЖАЗ



○ ● ◐ ☼ ☼ ↑
+30°, +35°

ҚҮЗ



○ ● ◐ ☐ ▲ ☼ ☼ ✱
≡ ↑ ↓ ← +10°, 0°



Үйректерге берілген тапсырма



Оқулықтың
175 - бетіндегі
№2 есепті шығар.



$$\text{apple} + \text{apple} = ?$$

5

Кірпіге берілген тапсырма

Өрнектердің мәнін тап.

$$5+3=$$

$$4+0=$$

$$7-2=$$

$$8-5=$$

$$9-3=$$

$$10-2=$$

$$6+2=$$

$$4+5=$$



Сергіту сәті





Көңілді жаттығулар

Торғайларға берілген тапсырма



Салыстыр. \rangle , \langle , $=$





Мысықтарға берілген тапсырма

*Бірдей уақытты көрсетіп
тұрған сағаттарды
сызықпен қос.*



Art
Gide



Сергію сәті





Үйге
тапсырма:

№3.
176 – бет.



Назарларыңызға рахмет!