

Число и цифра 8.

Письмо цифры 8.

Учитель начальных классов
Пичугина Юлия Ивановна



Назовите последующее
число 5, 8.

На сколько последующее
число больше
предыдущего?

Назовите соседей чисел 4, 6

Назовите предыдущее

число 9, 6.





6

1	
	2
3	
	4

7

3	
	1
2	
4	
5	






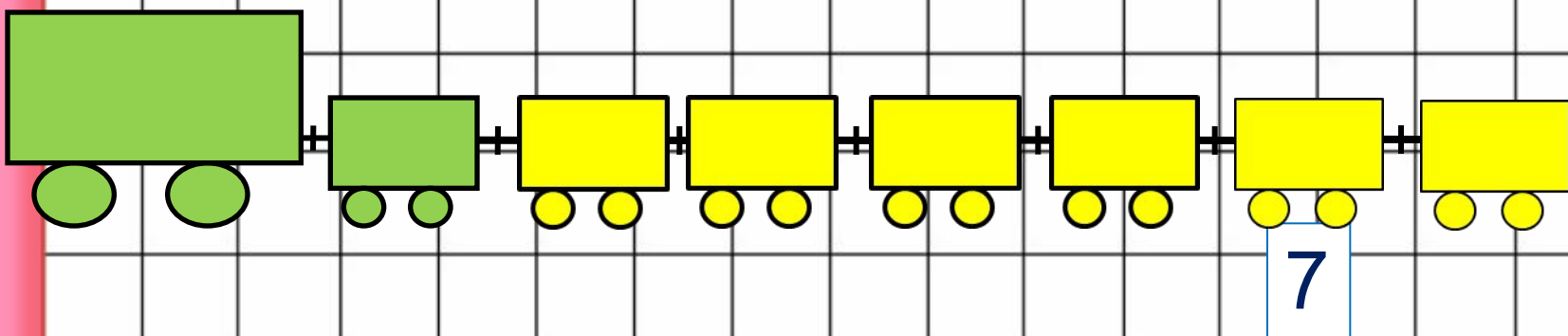
$3+2 =$

$7 - 2 =$

$1+3 =$

$7+1 =$





Составьте выражение к рисунку: $7 + \square =$



1

2

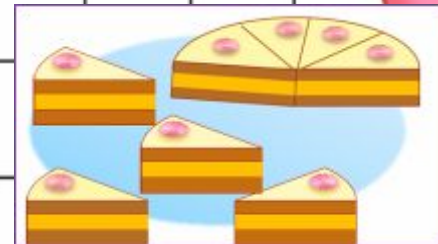
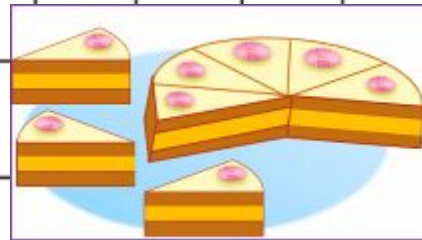
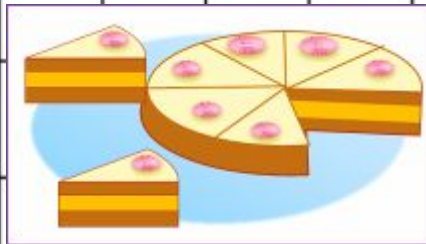
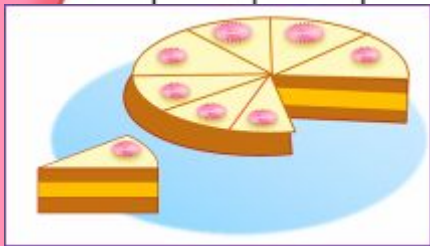
3

4

5

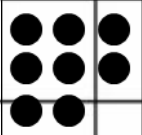
6

7



$$1 + 7 = 8$$

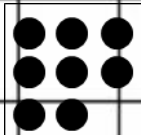
$$7 + 1 = 8$$



$$2 + 6 = 8$$

$$6 + 2 = 8$$

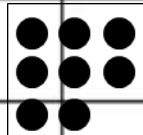
ВОСЕМЬ



$$3 + 5 = 8$$

$$5 + 3 = 8$$

ВОСЕМЬ



$$4 + 4 = 8$$

ВОСЕМЬ



ВОСЕМЬ



Утром Белочка

проснулась,

Потянулась,

улыбнулась,

Раз – росой умылась,

Два –

изящно покрутилась,

Три –

в ладоши три хлопка,

Головою – три кивка,

На четыре – руки

шире,

Пять –

руками помахать,

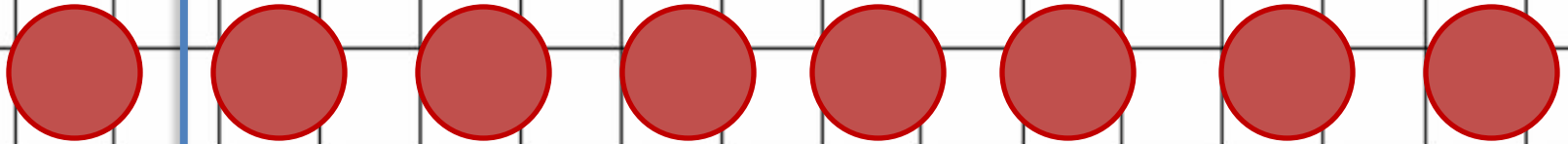
Шесть – всем сесть,

Семь, восемь –

лень отбросим.





Засели домики



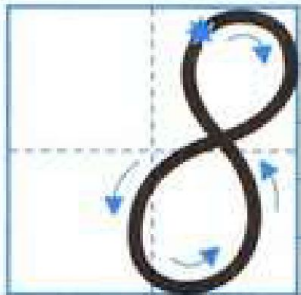
8	
1	7
2	6
3	5
4	4

8	
5	3
6	2
7	1






$$3-1=2$$



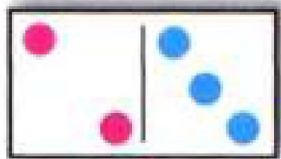
8 8 8 8 8 8 8 8 8

1, 2, 3, , 5, 6, , 8. 8, 7, , 5, 4, , 2, 1.



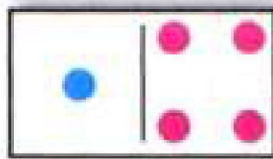
7 ○ 8
8 ○ 9

7 + 1 ○ 8
9 - 1 ○ 8




$2 + 3 = \square$

$5 - 3 = \square$



$1 + 4 = \square$

$5 - \square = \square$



$3 + \square = \square$

$5 - \square = \square$



Чему мы учились на
уроке?

Я научился ...

Я узнал.....

Мне понравилось ...

Вызвало затруднение

