



*Урок
математики*



Отгадай название

М $80 - 30 = 50$

а $6 + 4 = 10$

к $18 - 10 = 8$

л $40 + 30 = 70$

е $7 + 2 = 9$

ч $26 - 20 = 6$

т $15 + 4 = 19$

и $8 - 5 = 3$

ш $6 + 30 = 36$

с $40 + 20 = 60$

я $10 - 3 = 7$


у $36 - 16 = 20$

50	10	19	9	50	10	19	3	6	9	60	8	10	7
м	а	т	е	м	а	т	и	ч	е	с	к	а	я


36	8	10	19	20	70	8	10
ш	к	а	т	у	л	к	а

ПЧЕЛА МАЙЯ






1




2




5



3



4




6



9



8



7

Периметр многоугольника



Узнаем, что называется периметром
прямоугольника.

Научимся определять периметр
прямоугольника.

**Периметр многоугольника –
это сумма длин всех его сторон.**

$$20+20+20+20=80 \text{ (см) - } P$$

1

$$4+1+4+3=12 \text{ (cm)} - P$$

2

$$4+3+3=10 \text{ (cm)} - P$$

3

$$2+3+5+5=15 \text{ (cm)} - P$$

СПАСИБО ВАМ ЗА РАБОТУ!
УРОК ОКОНЧЕН.