

# Урок по математике

## 4 класс

**Тема урока: «Сложение и вычитание многозначных чисел. Закрепление».**

$$200 - 80 : 2$$

$$600 - 120 : (4 + 2)$$

$$(100 + 580) - 480$$

$$(300 - 90) : 3$$

$$46 + 66 + 54$$

$$63 + 100 + 37$$

$$1\text{мин } 10\text{с} + 30\text{с}$$

$$1\text{км } 600\text{м} - 500\text{м}$$

$$1\text{т } 550\text{кг} + 450\text{кг}$$

**160**

**$600 - 120 : (4 + 2)$**

**$(100 + 580) - 480$**

**$(300 - 90) : 3$**

**$46 + 66 + 54$**

**$63 + 100 + 37$**

**1мин 10с + 30с**

**1км 600м – 500м**

**1т 550кг + 450кг**



**580**

**$(100 + 580) - 480$**

**$(300 - 90) : 3$**

**$46 + 66 + 54$**

**$63 + 100 + 37$**

**1мин 10с + 30с**

**1км 600м – 500м**

**1т 550кг + 450кг**



**200**

$$(300 - 90) : 3$$

$$46 + 66 + 54$$

$$63 + 100 + 37$$

$$1\text{мин } 10\text{с} + 30\text{с}$$

$$1\text{км } 600\text{м} - 500\text{м}$$

$$1\text{т } 550\text{кг} + 450\text{кг}$$



**70**

**46 + 66 + 54**

**63 + 100 + 37**

**1мин 10с + 30с**

**1км 600м – 500м**

**1т 550кг + 450кг**



**166**

**63 + 100 + 37**

**1мин 10с + 30с**

**1км 600м – 500м**

**1т 550кг + 450кг**



**200**

**1мин 10с + 30с**

**1км 600м – 500м**

**1т 550кг + 450кг**





**1мин 40с**

**1км 600м – 500м**

**1т 550кг + 450кг**



**E**

**1км 100м**

**1т 550кг + 450кг**



Е Г И П Е

2т

# Памятники Египта



**Египтяне были искусными строителями. Они возводили огромные храмы и пирамиды. Пирамидами называют гигантские гробницы древнеегипетских фараонов 3-2-го тыс. до нашей эры. Также в Египте находится Большой сфинкс с лицом фараона Хафра.**

# Памятники Египта



Египтяне создали письменность, которая называется иероглификой. Иероглифы – это маленькие значки, изображающие предметы. Большинство произведений египетского искусства, которые можно увидеть в музеях и книгах, найдены в гробницах. Художники украшали гробницы сценами из жизни умершего. Из этих росписей мы много узнаем о жизни в древнем Египте.

**994'280 - Г**

**22'684 - П**

**80'568 - Р**

**252'753 - А**

**994'280 - Г**

**252'753 - А**

**80'568 - Р**

**22'684 - П**







*В первый день караван прошел 957 м, во второй на 153 м больше, чем в первый день. А в третий на 38 м меньше, чем во второй день. Сколько метров прошел караван за три дня?*

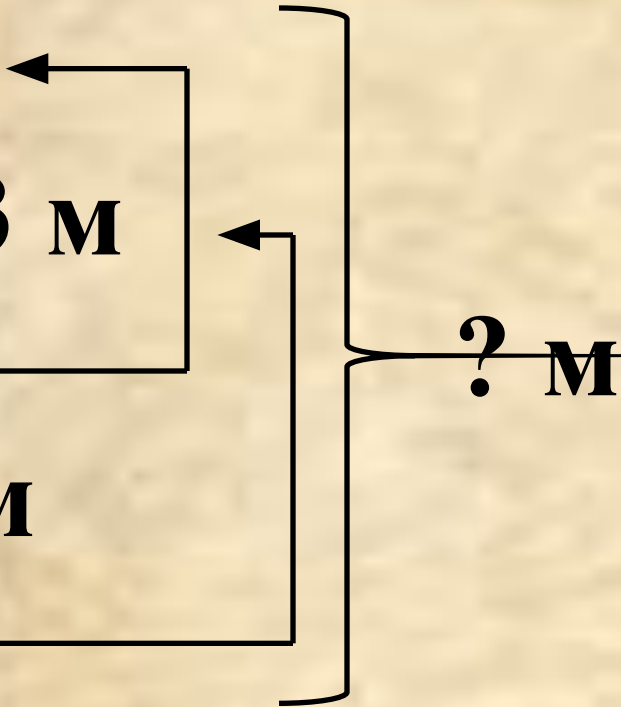
**1 день – 957м**

**2 день – ? м, на 153 м**

**больше, чем \_\_\_\_\_**

**3 день – ? м, на 38 м**

**меньше, чем \_\_\_\_\_**



**? м**

1) 957

+ 153

---

1'110 (м) – во 2 день.

2) 1'110

38

---

1'072 (м) – в 3 день.

3) 1'110

+ 957

---

2'067 (м) – в 1 и 2 день.

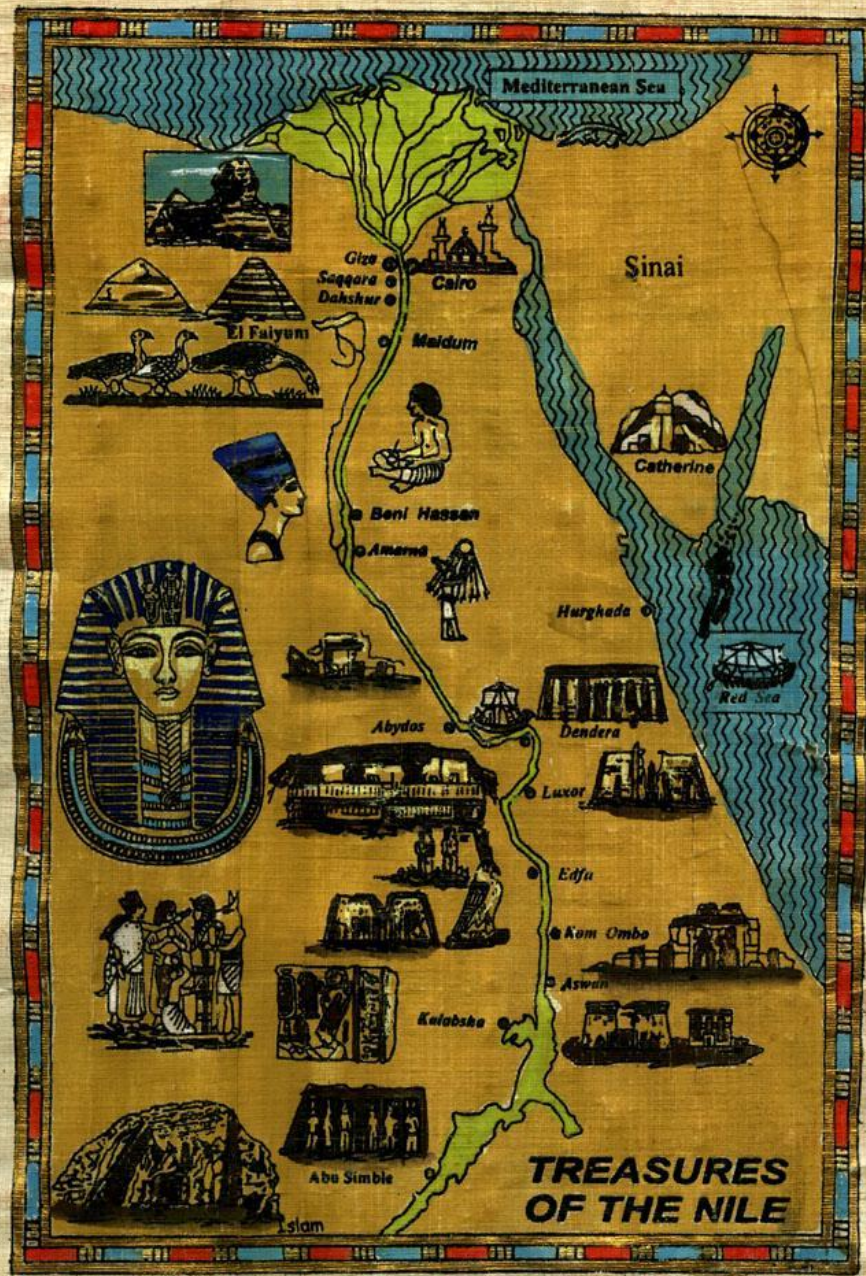
4) 2'067

+ 1'072

---

3'139 (м)

**Ответ: 3139м караван прошел за три дня.**





**2 мин 30 с = ... с**

**6 мин = ... с**

**2 МИН 30 с = 150 с**

**6 МИН = 360 с**



$$\begin{array}{r} - \quad 35 \text{ км } 820 \text{ м} \\ \quad \quad 7 \text{ км } 710 \text{ м} \\ \hline \end{array}$$

...

$$\begin{array}{r} + \quad 13 \text{ т } 250 \text{ кг} \\ \quad \quad \quad 567 \text{ кг} \\ \hline \end{array}$$

...




$$\begin{array}{r} 35 \text{ км } 820 \text{ м} \\ - 7 \text{ км } 710 \text{ м} \\ \hline 28 \text{ км } 110 \text{ м} \\ + 13 \text{ т } 250 \text{ кг} \\ \quad 567 \text{ кг} \\ \hline 13 \text{ т } 817 \text{ кг} \end{array}$$

$$X + 390 = 70 * 6$$



$$X + 390 = 70 * 6$$

$$X + 390 = 420$$

$$X = 420 - 390$$

$$X = 30$$

---

$$30 + 390 = 70 * 6$$

$$420 = 420$$

$$(19'000 - 9'000) : 100 * 10$$

$$\begin{array}{ccc} 1 & 2 & 3 \\ (19'000 - 9'000) : 100 * 10 = 1'000 \end{array}$$

