





Қош келдіңіздер!





**Біз балдырған баламыз,
Құстай қанат қағамыз.
Дүниені аралап,
Оқып білім аламыз**



1 - өткел



**“Қайталау –
білім анасы”**

4-мысал:

$$8 + 20 = 28 \quad 28 - 8 = 20$$

$$8 + 21 = 29 \quad 29 - 8 = 21$$

$$8 + 9 = 17 \quad 17 - 8 = 9$$

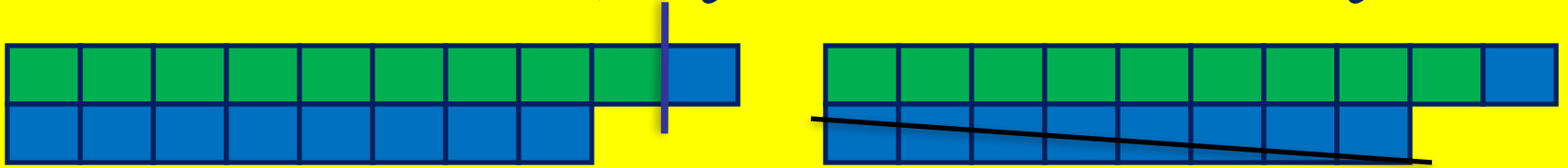
3 - өткел. "Білімді өрге жүзер»

Түлкі, түлкі, түлкісің
Жолды көрсет
біздерге,
Жөнін білер әр істің
Көтерілер биікке.



Қарашаның 19-ы

9 санын қосу және азайту



а) $9 + 9 = \square$

$18 - 9 = \square$

4 - өткел.

"Білгің келсе, шешіп көр"

**Қоян, қоян, ақ қоян
Жолды көрсет
біздерге,
Сергек қоян, сақ қоян
Көтерілер биікке**



Ара, ара, аралар,
Біз атайға барамыз
Гүлден сорып нәр алар.
Жолды қалай табамыз

5-өткел.

«Кім жылдам?» ойыны

6-мысал



№6 мысал

$$7+6 = 13$$

$$13 - 6 = 7$$

$$17+6=23$$

$$23 - 6 = 17$$

$$27+6=33$$

$$33 - 6 = 27$$

$$37+6 = 43$$

$$43 - 6 = 37$$

$$47+6 = 53$$

$$53 - 6 = 47$$

$$57+6= 63$$

$$63 - 6 = 57$$

$$67+6 = 73$$

$$73 - 6 = 67$$

$$77+6 = 83$$

$$83 - 6 = 77$$

$$87+6 = 93$$

$$93 - 6 = 87$$

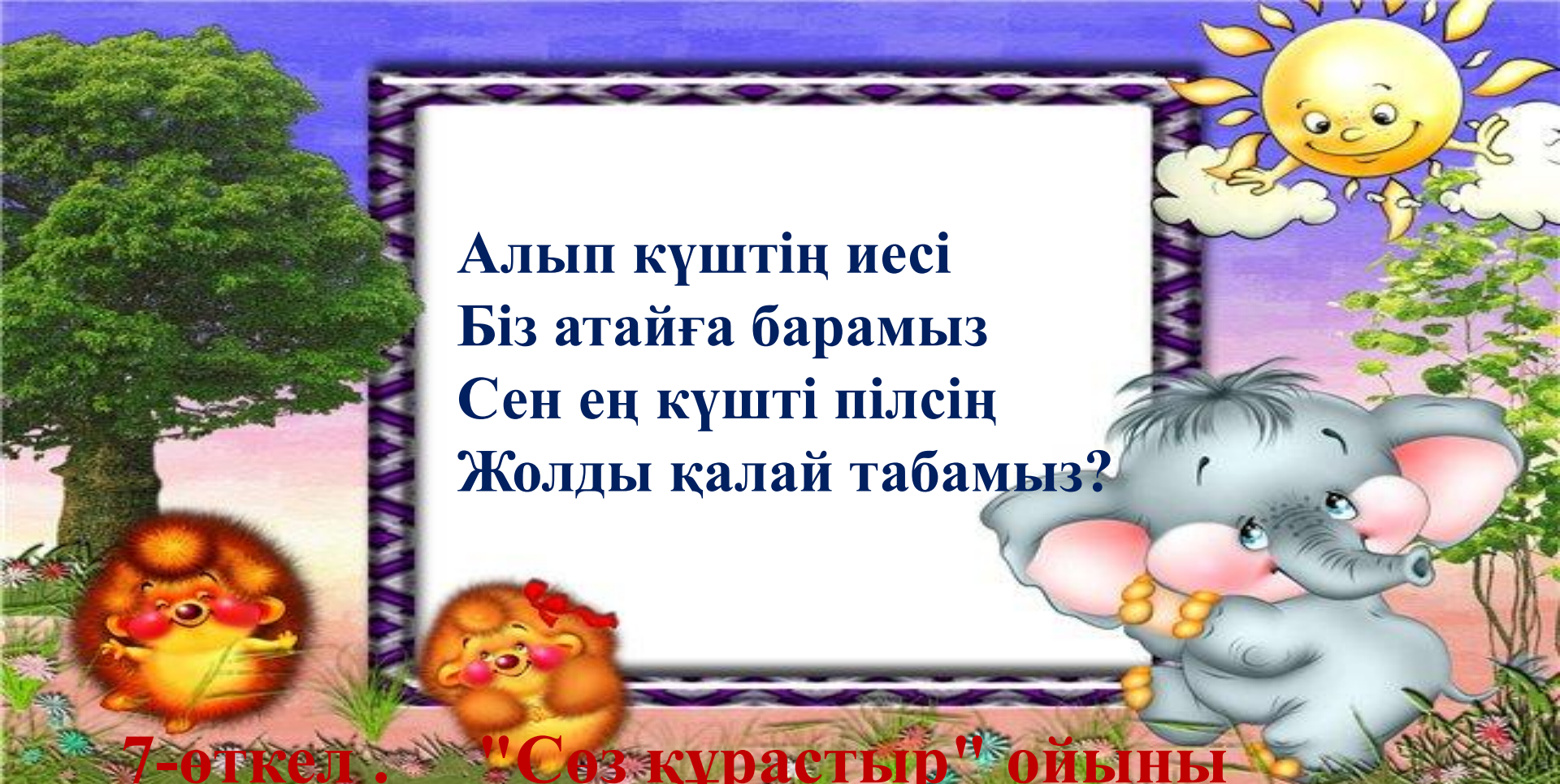
Балапанға

көмектес:



$$(9 \text{ } \ominus \text{ } 3) \text{ } \ominus \text{ } \square = 2$$

$$(9 \text{ } \ominus \text{ } 3) \text{ } \ominus \text{ } \square = 2$$




Алып күштің иесі
Біз атайға барамыз
Сен ең күшті пілсін
Жолды қалай табамыз?

7-өткел. "Сөз құрастыр" ойыны

14-9 Қ 12-6 О 13-5 Қ 6+5 И 7+5 Қ 8+5 А 9+7 З

Атайдың ауылы



Түлкіге дейін

$$2\text{дм}4\text{см} = \dots \text{ см}$$

Араға дейін

$$1 \text{ м} = \dots \text{ см}$$

Пілге дейін

$$87 \text{ см} = \dots \text{дм} \dots \text{см}$$

Тиінге дейін

$$1\text{дм}9\text{см} = \dots \text{ см}$$

Қоянға дейін

$$6\text{дм}1\text{см} = \dots \text{ см}$$

Балапанға
дейін

$$2\text{м} = \dots \text{см}$$

Ауылға дейін

$$76\text{см} = \dots \text{ дм} \dots \text{см}$$

Б і л і м ш ы ң ы

Бүгін мен білдім.
.....қызықты болды.
.....қиын болды.





Үйге тапсырма:

5-есеп (83бет)



Жарайсындар, балалар! Сау болыңыздар!

