




# Математика – симфония чисел.

## Симфония

.....



«Согласи  
е»



**Найдите закономерность и продолжите ряд:**

**1002      3005      5008**

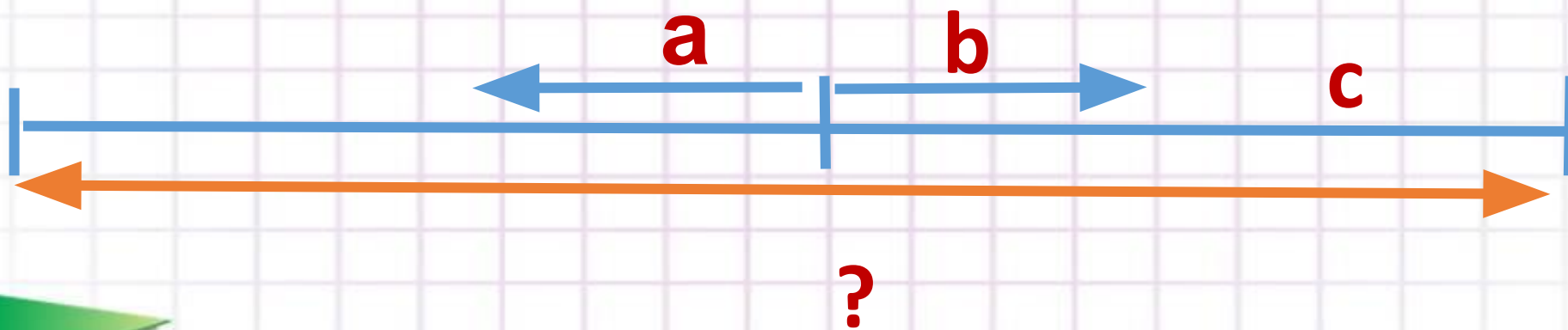
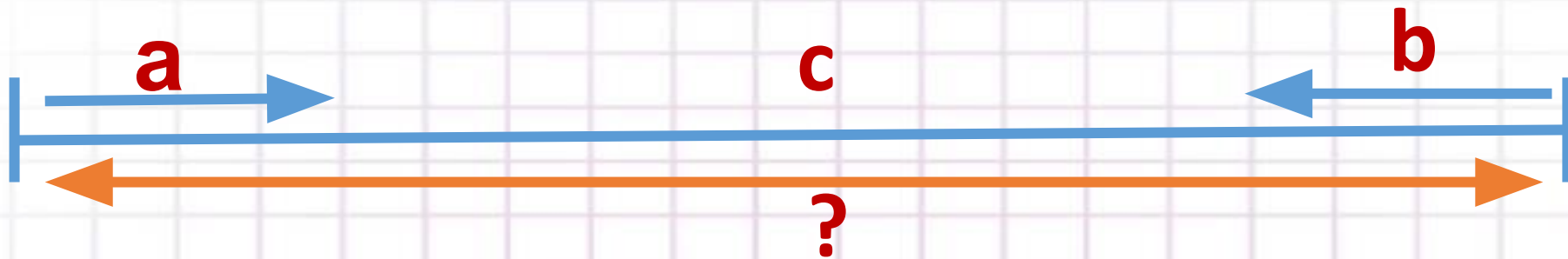
**.....**

**1002    3005    5008    7011    9014**

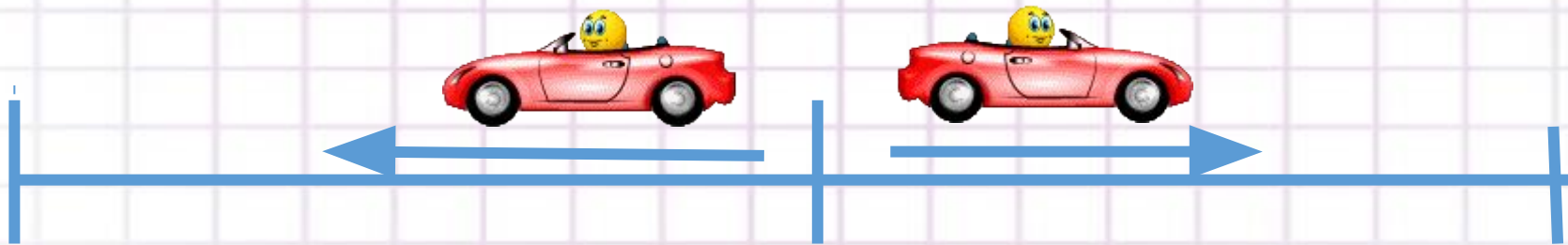


**Сколько прямоугольников на рисунке?**





# Решение задач на движение в противоположных направлениях.



**V**

**T**

**S**

**км/ч**

**ми**

**км**

**м**

**м/с**

**ч**

**н**

**ч**

**с**

**с**

**м/ми**

**м**

**н**



Расстояние –  $S$

(км, м, дм, см)

Время –  $t$

(сут., ч, мин, с)

Скорость –  $V$

(км/ч, км/мин, м/с)





**V** скорость  
(км/ч, м/мин, км/сек)

$$V = S : t$$

**t** время  
(ч, мин, сек)

$$t = S : V$$

**S** расстояние  
(км, м, дм, см)

$$S = V * t$$



Черепаша за 10 мин проползет 40 м. С какой скоростью ползёт черепаха?

$$40:10=4(\text{м/мин})$$



Верблюд передвигается по пустыне со скоростью 9 км/ч. За какое время он пройдет 54 км?

$$54:9=6(\text{ч})$$



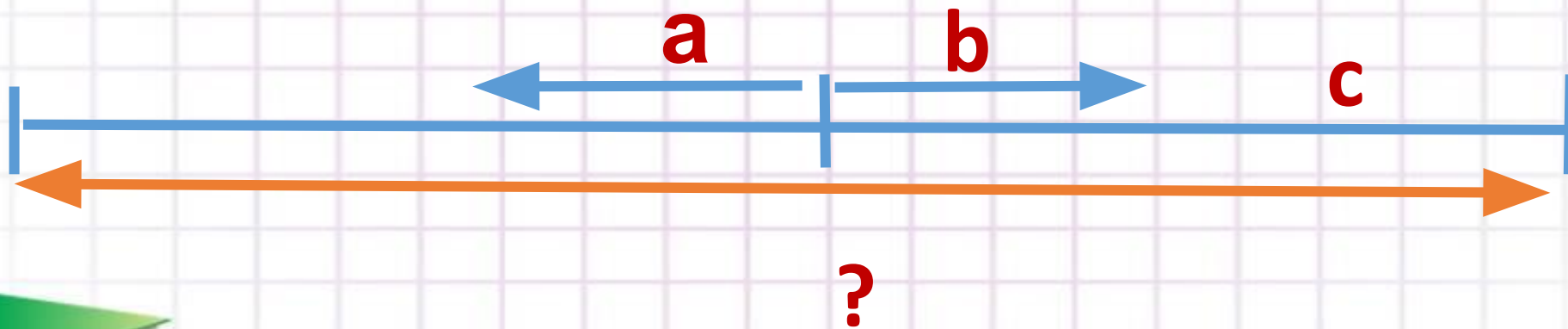
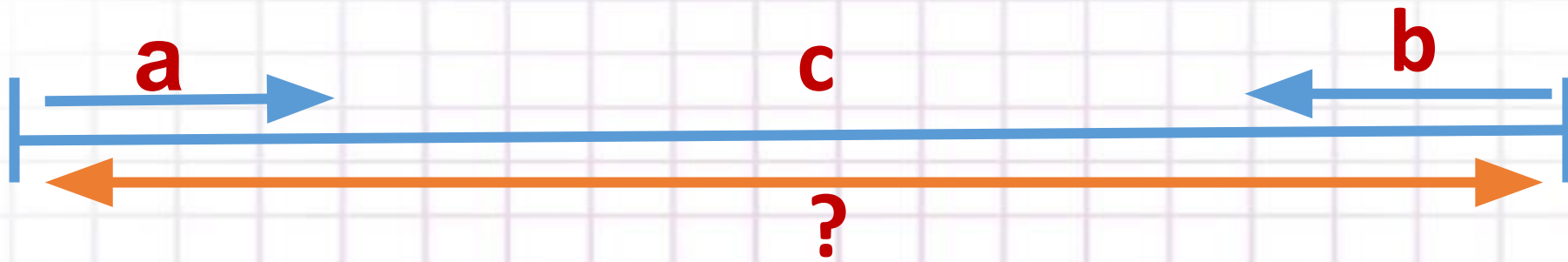
Голубь летит со скоростью 50 км/ч. Какое расстояние пролетит голубь за 6 ч?

$$50 \times 6 = 300(\text{км})$$





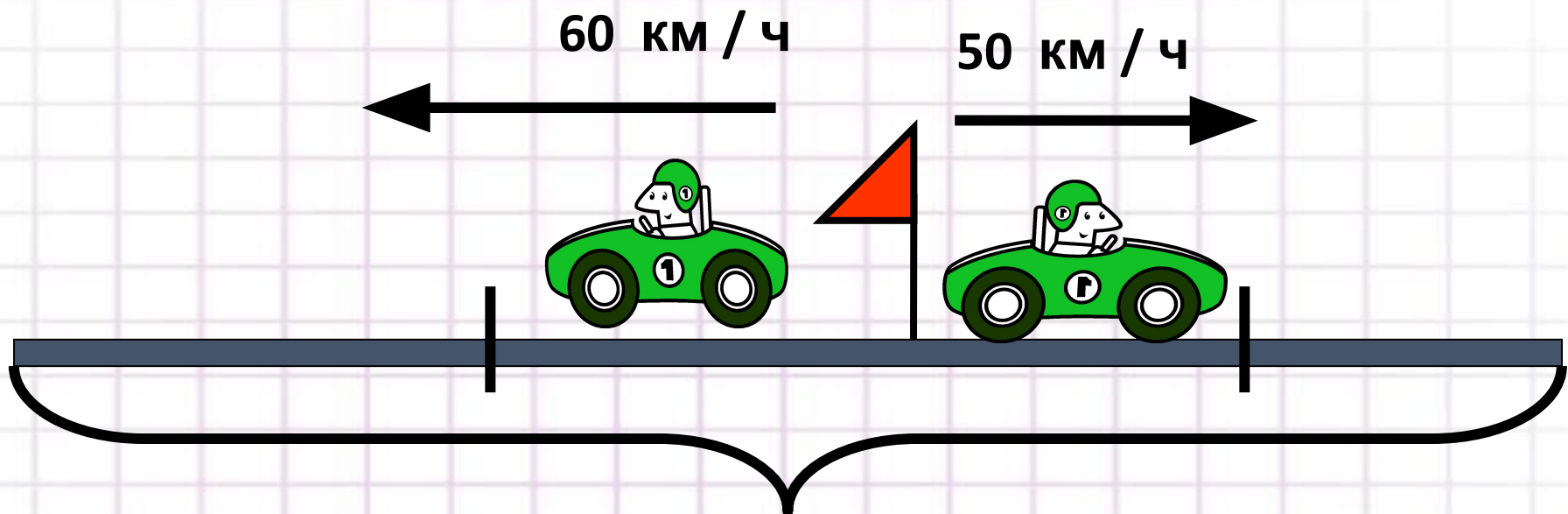
Шарики воздушные



# Работа с учебником.

№ 125 стр  
33





?

**Найти расстояние между  
автомобилями через 2 часа.**



1Г  
р

Г	Г			
Г	Г			
Г	Г	Г		
Г	Г	Г		
Г	Г	Г		
Г	Г	Г		
Г	Г	Г		
Г	Г	Г	Г	

2Г  
р

Г	Г	Г	Г	Г	Г	Г	Г
Г	Г	Г	Г	Г	Г	Г	Г
Г	Г	Г	Г	Г	Г	Г	

3Г  
р

Г	Г	Г	Г	Г	Г	Г	Г	Г
Г	Г	Г	Г	Г	Г	Г	Г	Г
Г	Г	Г						
Г	Г							








# Родина

а



# ОТЧИЗН




# Оте




# Отечество

# О










# Рефлекси Я.



**-Сегодня я на уроке узнал.....**

**-Мне понравилось.....**

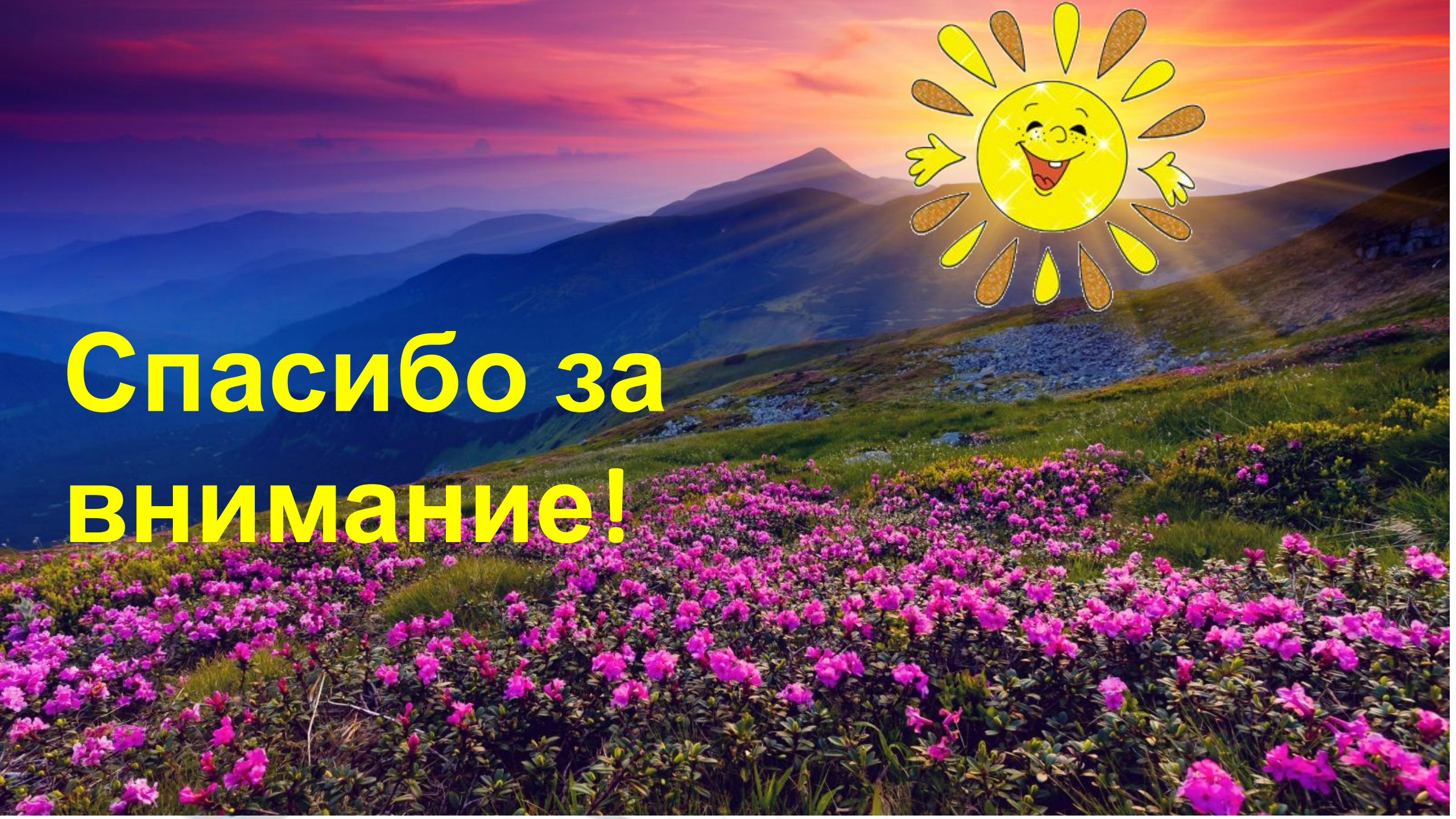
**-Мне запомнилось .....**

**-Мне было непонятно.....**

**-Я поставила себе на уроке отметку.....,потому что....**

**-Я считаю, что дома мне надо....., т.к.....**





**Спасибо за  
внимание!**